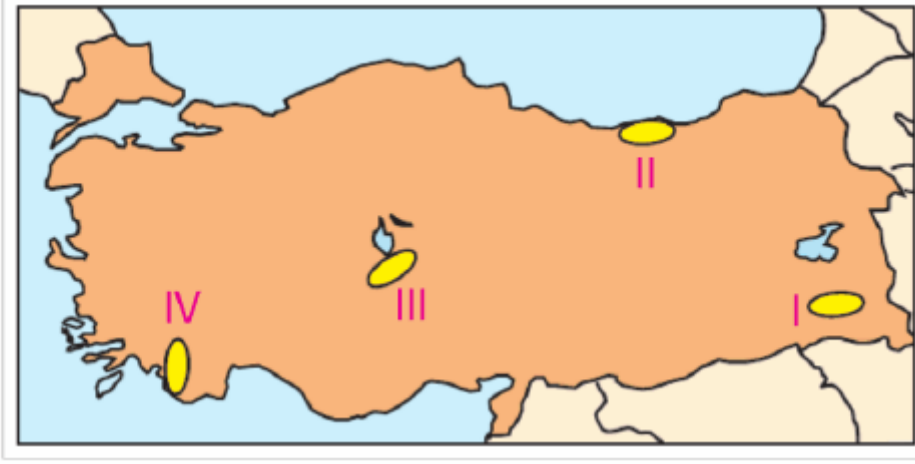


## 7. Sınıf Sosyal Bilgiler Türkiye'de Nüfus-4 Testi Çöz

1.



Yukarıdaki Türkiye haritasında numaralandırılmış alanlardan hangisinde, nüfusun seyrek olmasında iklim koşullarının elverişsizliği ve yer şekillerinin dağlık ve engebелiliği etkili olmuştur?

- A) I      B) II      C) III      D) IV

Cevap : A

2. Aşağıdaki tabloda bazı illerimizin 2010 yılındaki nüfusları ile yüzölçümleri verilmiştir.

İl	Yüzölçümü (km <sup>2</sup> )	Nüfus
Adana	14.256	2.085.225
Konya	38.183	2.013.845
Malatya	12.313	736.530
Ankara	30.715	4.466.756

Bir yerdeki toplam nüfusun, o yerin yüz ölçümüne bölünmesiyle nüfus yoğunluğu elde edilir.

**Tabloya bakarak hangi ilin nüfus yoğunluğunun daha az olduğu söylenebilir?**

- A) Adana                      B) Konya  
C) Malatya                    D) Ankara

Cevap : B

3.

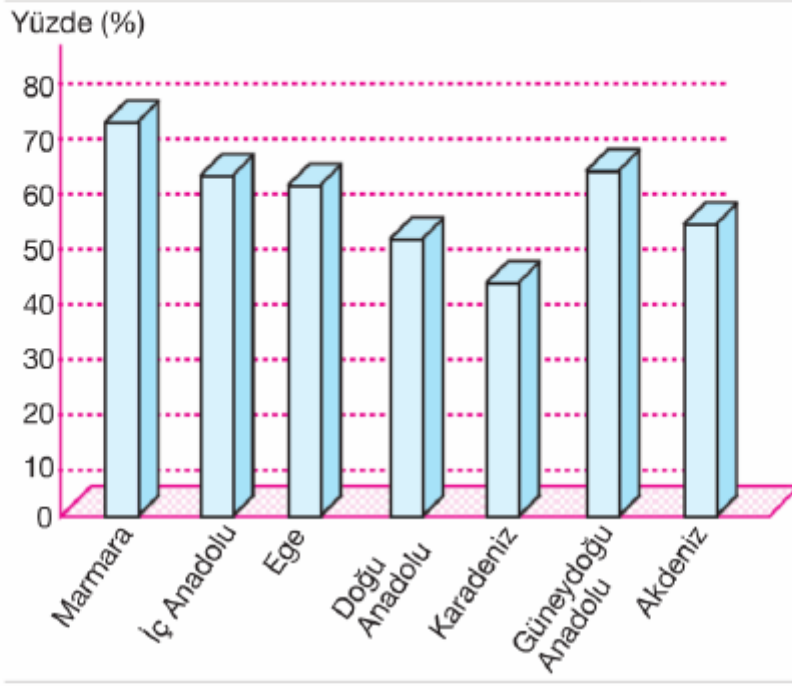
2000 yılı sayımlarına göre, toplam nüfusumuzun % 61'i 0-14 yaş grubu içerisinde yer almaktadır.

**Bu durum, aşağıdakilerden hangisini kanıtlamaktadır?**

- A) Sanayi sektöründe çalışan nüfusun fazla olduğunu
- B) Nüfus artış hızının yüksek olduğunu
- C) Kentleşme oranının hızla arttığını
- D) Okuma - yazma oranının yüksek olduğunu

Cevap : B

4. Aşağıdaki grafikte coğrafi bölgelerimizin kentleşme oranları verilmiştir.

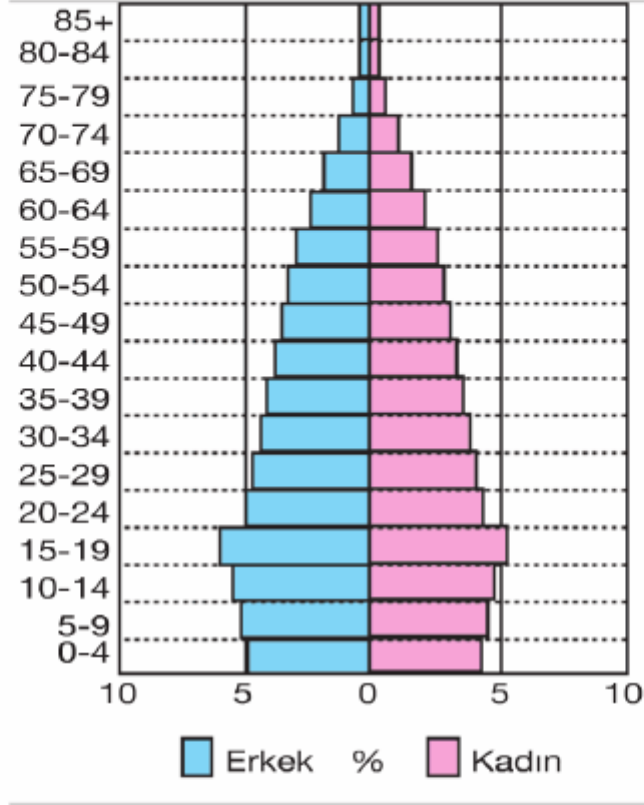


**Bu grafiğe bakılarak aşağıdaki sonuçlardan hangisine ulaşamaz?**

- A) Kentleşme oranının en az olduğu bölge Karadeniz'dir.
- B) İç Anadolu Bölgesi'nin kentleşme oranı, Ege'den fazladır.
- C) Nüfusun en seyrek olduğu bölge, Doğu Anadolu Bölgesi'dir.
- D) Bölgelerin kentleşme oranları farklılık göstermektedir.

Cevap : C

5. Aşağıdaki grafikte 2000 yılında Türkiye nüfusunun yaş gruplarına göre dağılışı verilmiştir.

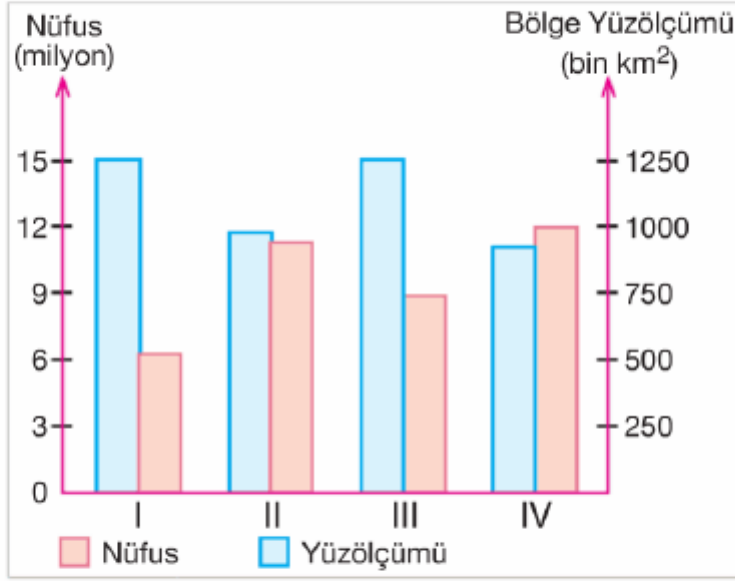


**Grafikte verilen bilgilere göre, aşağıdakilerden hangisine ulaşamaz?**

- A) 30 - 34 yaş grubundaki erkek nüfus oranı yüzde beşten azdır.
- B) Kadınlarda, yaş gruplarına göre en fazla orana sahip yaş grubu 15 - 19'dur.
- C) 0 - 4 yaş grubundaki kadın nüfus oranı, erkek nüfus oranından azdır.
- D) Erkeklerde, yaş gruplarına göre en fazla orana sahip yaş grubu 20 - 24'tür.

Cevap : C

6. Aşağıdaki grafikte dört farklı bölgenin nüfus ve yüzölçümleri verilmiştir.



**Bu bölgelerden hangisinin nüfus yoğunluğu diğerlerinden daha fazladır?**

- A) I      B) II      C) III      D) IV

Cevap : A

7.



**Yukarıdaki kavram haritasında (?) ile gösterilen yere aşağıdakilerden hangisi yazılmalıdır?**

- A) Nüfus artışının sonuçları
- B) Nüfusun eğitim seviyesinin düşük olmasının sonuçları
- C) Hızlı kentleşmenin sonuçları
- D) İç göçlerin sonuçları

Cevap : A

8. Türkiye’de devlet ve vatandaş el ele vererek eğitim, sağlık ve ekonomi gibi birçok alanda iş birliği yapmaktadırlar.

**Aşağıdakilerden hangisi, eğitim alanında devlet - vatandaş iş birliğine örnek olarak gösterilebilir?**

- A) Tarımsal üretimi artırmak için çiftçilere bankalar tarafından krediler verilmesi
- B) Geri kalmış bölgelerde, yatırım için teşvik politikalarının uygulanması
- C) Devletin yerleşme ve seyahat özgürlüğünü, bütün vatandaşlara uygulaması
- D) Bazı vatandaşların derslik ve okul yapılması için bağışlarda bulunması

Cevap : A



9. Aşağıdaki tabloda, 1980 ve 2000 yıllarında Türkiye'nin okuryazarlık ve eğitim durumu verilmiştir.

Yıllar	1980		2000	
	Erkek	Kadın	Erkek	Kadın
İlkokul %	46,75	24,73	50,29	45,27
Ortaokul veya dengi meslek okulları %	5,39	2,22	11,19	5,31
Lise veya dengi meslek okulları %	6,61	3,48	16,01	9,12
Yüksek Öğretim %	5,68	1,56	10,23	5,39

**Tablodaki bilgilere bakarak aşağıdakilerden hangisine ulaşamaz?**

- A) 2000 yılında yükseköğretim mezunu erkeklerin oranı, kadınların iki katına yakındır.
- B) İlkokul mezunu kadınların oranı, erkeklerden daha hızlı artmıştır.
- C) 1980 yılında ortaokul mezunu erkeklerin oranı, kadınlardan daha azdır.
- D) Lise mezunu erkeklerin oranındaki artış, kadınlardan daha azdır.

Cevap : C

10. Aşağıdaki tabloda Türkiye'de bazı yıllara göre kırsal ve kentsel nüfus oranları verilmiştir.

Yıllar	Kentsel nüfus %	Kırsal nüfus %
1965	34.42	65.58
1975	41.81	58.19
1985	53.03	46.97
1997	65.04	34.96

**Bu tablodaki bilgilere bakılarak aşağıdakilerden hangisine ulaşılamaz?**

- A) 1997'de nüfusumuzun yaklaşık üçte ikisi, kırsal alanda yaşamaktadır.
- B) 1985'te kentsel nüfus oranı, kırsal nüfus oranını geçmiştir.
- C) Kırsal nüfus oranı, düzenli olarak düşmüştür.
- D) 1965'te nüfusumuzun yaklaşık üçte biri, kentlerde yaşamaktadır.

Cevap : A

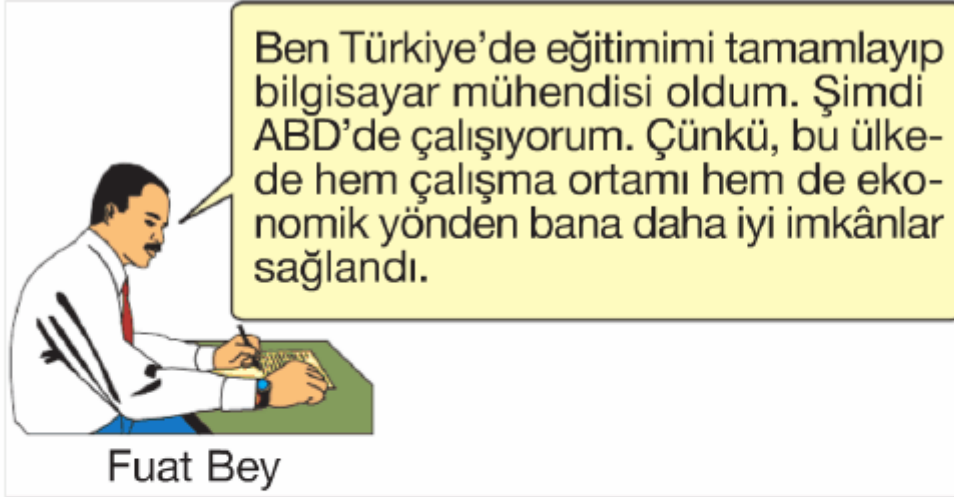
11. Ülke nüfuslarının yaş, cinsiyet, eğitim durumu, ekonomik durumu ve kırsal - kentsel durumu gibi özelliklerine nüfusun özellikleri denir.

**Aşağıdakilerden hangisi, Türkiye nüfusunun özelliklerinden biri değildir?**

- A) Göç alan bölgelerde, erkek nüfusun fazla olması
- B) Genç nüfusun, yaşlı nüfus oranından fazla olması
- C) Kırsal nüfusunun, kent nüfusundan fazla olması
- D) Okur-yazar oranının en yüksek olduğu bölgenin Marmara olması

Cevap : C

12.



**Fuat Bey'in bu durumu, hangi göç türüne örnek olarak gösterilebilir?**

- A) Beyin göçü
- B) İşçi göçü
- C) İç göç
- D) Mevsimlik göç

Cevap : A

13.

Türkiye'de kırsal alanlardan kentlere yapılan göçlerin büyük kısmını Doğu Anadolu Bölgesi ile Karadeniz Bölgesi'nden batıya olan göçler teşkil etmektedir.



**Bu göçlerin ortak özellikleri arasında, aşağıdakilerden hangisi gösterilemez?**

- A) Yer şekillerinin dağlık ve engebeli olması
- B) Yer altı kaynaklarının az olması
- C) Tarım alanlarının dar olması
- D) İş alanlarının kısıtlı olması

Cevap : B

14.



**Yukarıdaki Türkiye haritasında işaretlenmiş kentlerimizden hangisi, turizm faaliyetlerine bağlı olarak mevsimlik göç alması diğerlerinden daha azdır?**

- A) Antalya
- B) İzmir
- C) Ayvalık
- D) Samsun

Cevap : B

15.

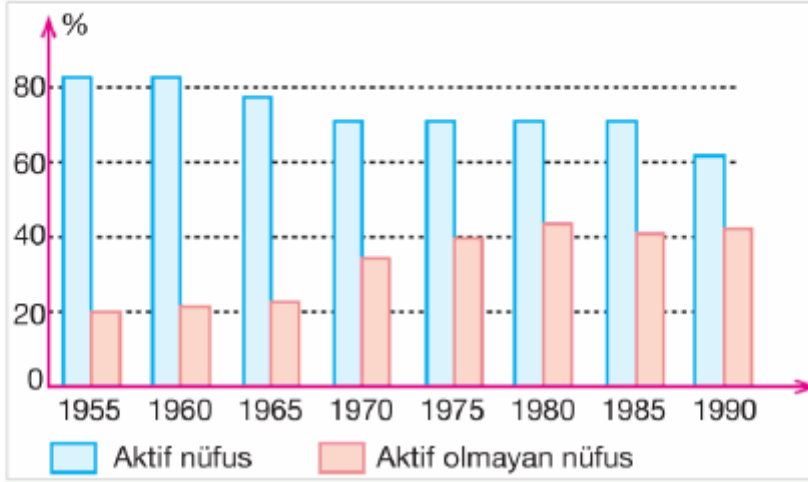
Bir bölgede yaşayan nüfusun o bölgenin yüzölçümüne bölünmesiyle aritmetik nüfus yoğunluğu elde edilir.

**Buna göre, aşağıdaki bölgelerimizden hangisinin aritmetik nüfus yoğunluğu daha azdır?**

- A) İç Anadolu Bölgesi
- B) Marmara Bölgesi
- C) Doğu Anadolu Bölgesi
- D) Akdeniz Bölgesi

Cevap : C

16. Aşağıdaki grafikte Türkiye'deki aktif (çalışan) nüfusun yıllar arasındaki değişimi verilmiştir.



**Bu grafiğe bakılarak aşağıdaki sonuçlardan hangisi çıkarılamaz?**

- A) Aktif nüfus 1955'te %80'in üstündedir.
- B) Aktif olmayan nüfus sürekli artmıştır.
- C) Aktif nüfus 1985'te en alt seviyeye inmiştir.
- D) Aktif olmayan nüfus 1960'ta yaklaşık %20'dir.

Cevap : C

[Online Test Çöz](#)

[Pdf İndir](#)