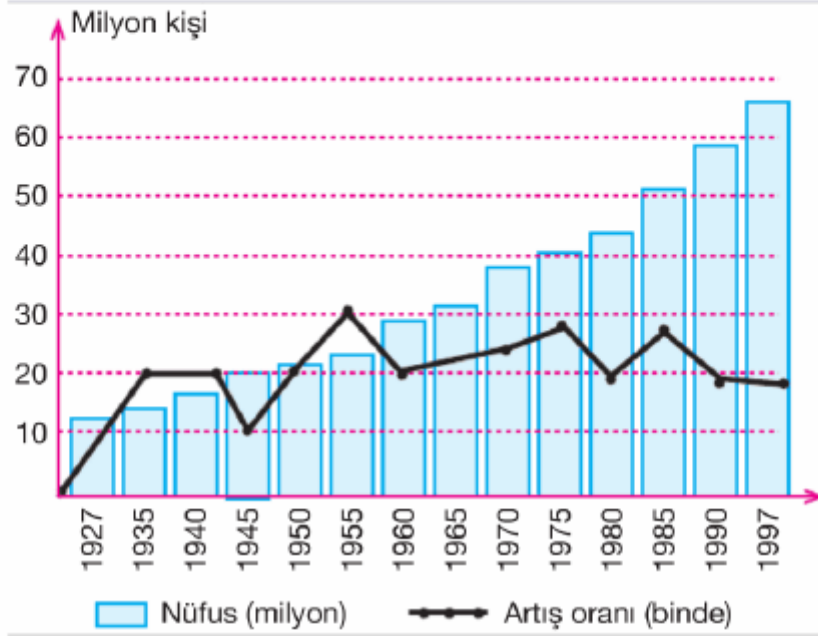


## 7. Sınıf Sosyal Bilgiler Türkiye'de Nüfus-3 Testi Çöz

1. Aşağıdaki grafikte yıllara göre ülkemizin nüfus miktarı ve nüfus artış oranları gösterilmiştir.

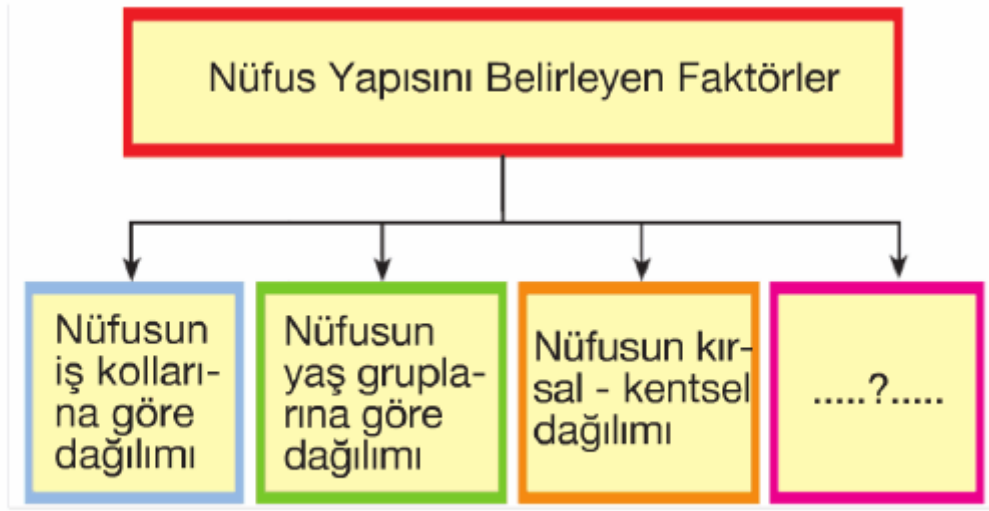


**Bu grafiğe bakılarak aşağıdaki yargılardan hangisine ulaşılamaz?**

- A) Nüfus miktarı sürekli artmıştır.
- B) Nüfus artış oranının en fazla olduğu yıl 1955'tir.
- C) Nüfus artış oranı, düzenli olarak azalmıştır.
- D) Nüfus miktarının en fazla olduğu yıl 1997'dir.

Cevap : C

2.



Yukarıdaki şemada nüfus yapısını belirleyen faktörlerden bazıları verilmiştir.

**Buna göre, verilen şemada soru işareti (?) ile gösterilen yere aşağıdakilerden hangisi yazılabilir?**

- A) Nüfusun dağılışı
- B) Nüfusun eğitim düzeyi
- C) Nüfusun siyasi yapısı
- D) Nüfusun yoğunluğu

Cevap : B

3.



Bekir

Ben, her yıl Ordu'ya fındık toplamaya gidiyorum. Böylece aile bütçemize ben de katkı sağlıyorum.



Nermin

Ablam doktor olarak bir hastahanedeki çalışmaya başladı. Bu sırada Almanya'dan daha iyi çalışma ve araştırma yapma imkânları kendisine sağlanınca bu ülkeye göç etti.



Selma

Köyde geçim şartlarımız çok zordu. Babam, İstanbul'da bir fabrikada iş bulunca biz de ailece İstanbul'a taşındık.



Murat

Amcam geçen yıl bir otomobil fabrikasında işçi olarak çalışmak üzere Kanada'ya göç etti.

**Yukarıdaki öğrencilerden hangisinin ifadesi, beyin göçüne örnek olarak gösterilebilir?**

A) Selma

B) Murat

C) Bekir

D) Nermin

Cevap : B

4. Aşağıdaki tabloda Türkiye'de bazı yıllara göre kent ve kır nüfusları (bin kişi) verilmiştir.

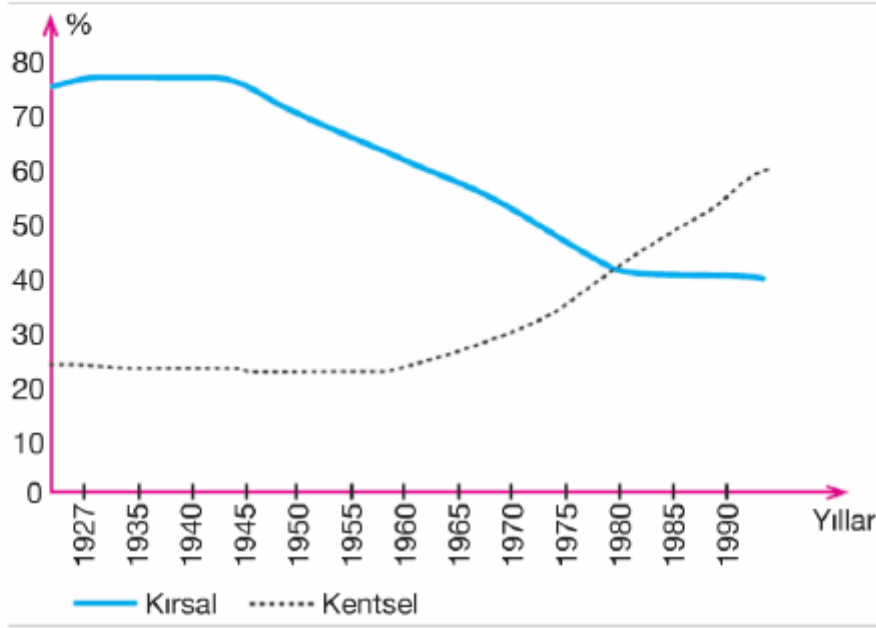
Yıllar	Kent nüfusu	Kır nüfusu
1980	19 645	25 091
1985	26 865	23 780
1990	33 326	23 147
2000	44 006	23 798

**Bu grafiğe bakılarak aşağıdakilerden hangisine ulaşamaz?**

- A) Kent nüfusunda en yüksek artış, 1985 - 1990 yılları arasındadır.
- B) Kent nüfusu düzenli bir şekilde artmıştır.
- C) 1990 - 2000 yılları arasında köy nüfusu artmıştır.
- D) Köy nüfusunda en yüksek düşüş, 1980 - 1985 yılları arasındadır.

Cevap : A

5. Aşağıdaki grafikte Türkiye'nin kırsal ve kentsel nüfusunun bazı yıllara göre değişimi verilmiştir.

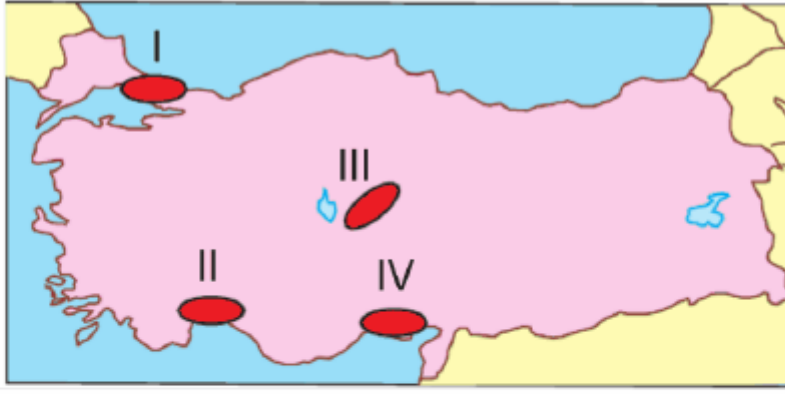


**Bu grafiğe bakılarak aşağıdakilerden hangisine ulaşılamaz?**

- A) Kentsel nüfus oranı sürekli artmıştır.
- B) 1985'ten itibaren kent nüfusu, kır nüfusunu geçmeye başlamıştır.
- C) Kentsel nüfusun en fazla olduğu yıl 1990'dır.
- D) Kırsal ve kentsel nüfusun birbirine en fazla yaklaştığı yıl 1970'tir.

Cevap : A

6.

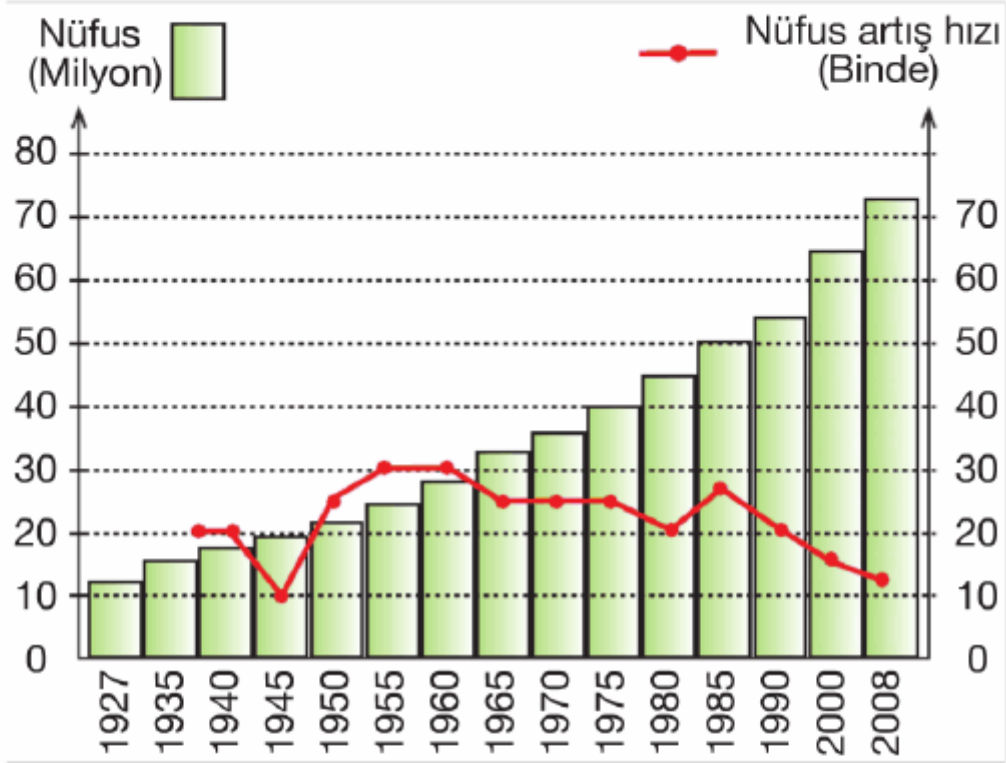


**Yukarıdaki Türkiye haritasında işaretlenen yerlerin nüfus yoğunluğu ve bu yoğunluğu etkileyen faktörlerle ilgili aşağıdakilerden hangisi söylenemez?**

- A) I numaralı bölgede, sanayi faaliyetlerinden dolayı nüfus yoğunluğu fazladır.
- B) IV numaralı bölgede, tarım ve sanayi faaliyetlerinden dolayı nüfus yoğundur.
- C) III numaralı bölgede, yer şekillerinin dağlık ve engebeli olmasından dolayı nüfus yoğunluğu azdır.
- D) II numaralı bölgede, turizm faaliyetleri nedeniyle yaz mevsiminde nüfusu artar.

Cevap : C

7. Aşağıdaki grafikte Türkiye'nin 1927 - 2008 yılları arasındaki nüfus miktarı ve nüfus artış hızı gösterilmiştir.



**Grafikteki bilgilere bakarak aşağıdaki yargılardan hangisine ulaşamaz?**

- A) Verilen yıllarda nüfus miktarı, sürekli artmıştır.
- B) 1985 yılında nüfus artışı hızı, 1960 yılından daha fazladır.
- C) 1985 yılından sonra nüfus artış hızı, düşüşe geçmiştir.
- D) Nüfus artış hızının en az olduğu yıl 1945'tir.

Cevap : B

8. Aşağıdaki tabloda bazı coğrafi bölgelerimizin nüfus miktarı ve nüfus yoğunluğu verilmiştir.

Bölgeler	Nüfus Miktarı (milyon kişi)	Nüfus Yoğunluğu (km <sup>2</sup> / kişi)
I	8.938.781	105,2
II	41.608.868	71,7
III	8.439.213	57,7
IV	6.137.414	35,9

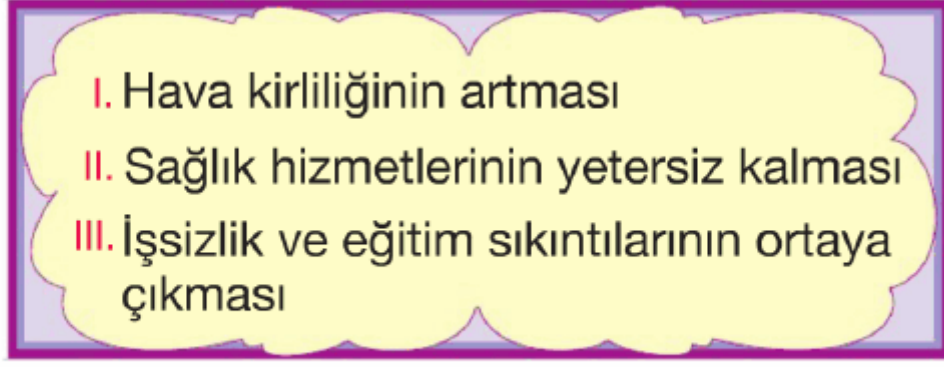
**Bu tabloya bakılarak bölgelerle ilgili aşağıdaki bilgilerden hangisi elde edilebilir?**

- A) Bölgelerin nüfus artış hızları
- B) Bölgelerin kırsal-kentsel nüfusları
- C) Bölgelerin yüzölçümleri
- D) Bölgelerin çalışan nüfus oranları

Cevap : C



9.



**Yukarıda verilenler aşağıdakilerden hangisine bağlı olarak ortaya çıkmaktadır?**

- A) Hızlı kentleşme sürecine
- B) Tarımda makineleşmenin yaygınlaşmasına
- C) Üretici nüfus sayısının azalmasına
- D) Okur-yazarlık oranının düşük olmasına

Cevap : A

**10.** Ülkemizde, kentsel nüfus oranının en fazla olduğu bölge Marmara Bölgesi'dir.

**Marmara Bölgesi'nde, kentsel nüfus oranının artmasında aşağıdakilerden hangisi etkili olmamıştır?**

- A) Sanayinin gelişmiş olması
- B) Başka bölgelerden yoğun göç alması
- C) Tarım alanlarının verimli olması
- D) İş imkânlarının fazla olması

Cevap : A

11.



1985 yılından itibaren Türkiye'den yıllık nüfus artış hızında düzenli bir düşüş görülmektedir.

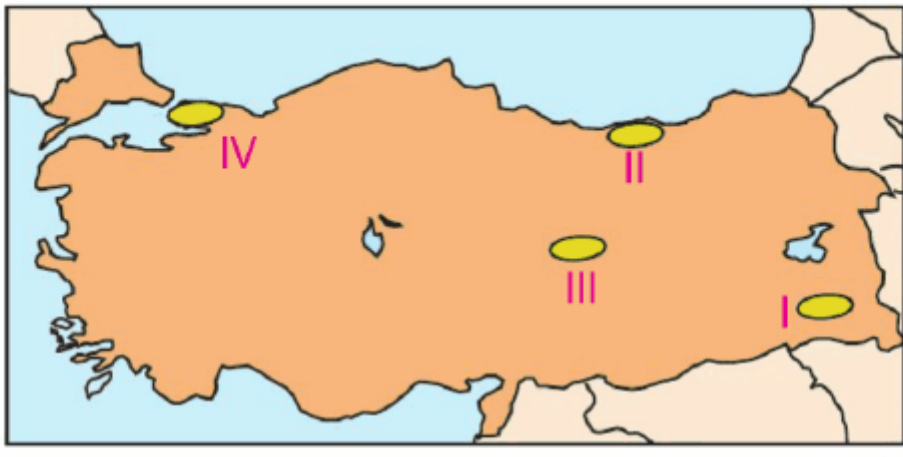
**Nüfus artış hızının düşmesinde;**

- I. Köyden kentlere olan göçlerin azalması
  - II. Doğum oranının azalması
  - III. Aile plânlaması uygulamaları
- durumlarından hangisinin ya da hangilerinin etkili olduğu söylenebilir?**

- A) Yalnız II                      B) II ve III  
C) I ve II                         D) I ve III

Cevap : B

12.



**Yukarıdaki Türkiye haritasında numaralandırılmış alanlardan hangisi diğer bölgelere göç vermez?**

- A) I                      B) II                      C) III                      D) IV

Cevap : B

**13.** Ege Bölgesi'nde nüfus yoğunluğunun yüksek olmasına rağmen bu bölge içinde yer alan Menteşe Yöresi Türkiye'nin en seyrek nüfuslu yerlerinden biridir.

**Menteşe Yöresi'nde nüfusun seyrek olmasının en önemli nedeni, aşağıdakilerden hangisidir?**

- A) Yer şekillerinin dağlık ve engebeli olması
- B) Yağış miktarının fazla olması
- C) Tarım alanlarının verimsiz olması
- D) Kentleşme oranının düşük olması

Cevap : A

14.



Türkiye'de 1927 yılında çalışan nüfusun % 90'ı tarım sektöründe çalışmakta iken bu oran 2000 yılında % 48,4'e düşmüştür.

**Bu durum;**

- I. Sanayi ve hizmet sektörünün geliştiğinin
- II. Tarım alanlarının daraldığının
- III. Kent nüfusunun arttığıının

**verilenlerden hangisi ya da hangilerinin bir göstergesidir?**

- A) Yalnız I
- B) I ve III
- C) II ve III
- D) I ve II

Cevap : B

[Online Test Çöz](#)

[Pdf İndir](#)