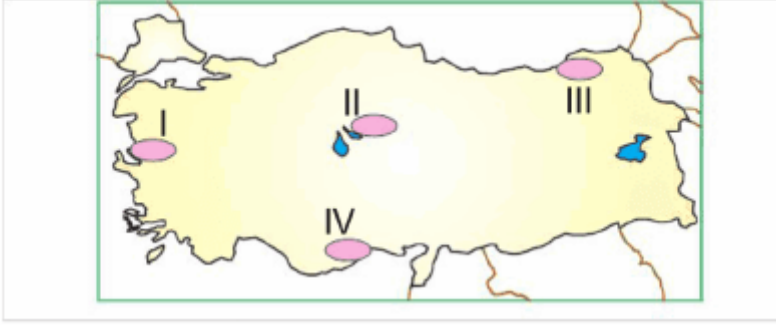


6. Sınıf Sosyal Bilgiler Türkiye'de Ve Dünya'da İklim-1 Testi Çöz

1.

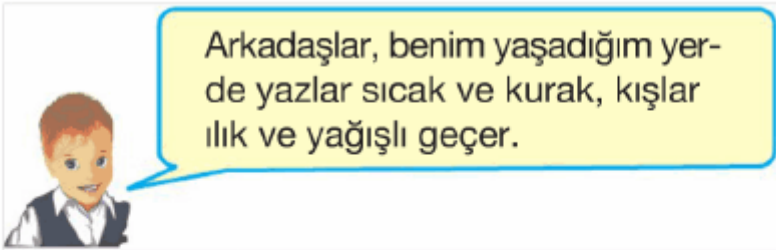


Yukarıdaki Türkiye haritasında işaretlenen merkezlerden hangisinde yıllık yağış miktarı en fazladır?

- A) I B) II C) III D) IV

Cevap : C

2.



Buna göre, bu öğrencinin anlattığı iklim bölgesinin doğal bitki örtüsü aşağıdakilerden hangisidir?

- A) Maki B) Bozkır
C) Orman D) Çayır

Cevap : A

3.




Ege Bölgesi ile Akdeniz Bölgesi'nde aynı iklim şartları yaşanmaktadır. Ancak, Ege Bölgesi'nde kıyı ile iç kesimler arasında yaşanan iklim farkı Akdeniz Bölgesi'nden daha azdır.

Bu durumun nedeni, aşağıdakilerden hangisidir?

- A) Ege Bölgesi'nin daha gür bitki örtüsüne sahip olması
- B) Akdeniz Bölgesi'nde kıyı uzunluğunun daha fazla olması
- C) Ege Bölgesi'nde dağların kıyıya dik uzanması
- D) Akdeniz Bölgesi'nin daha az yağış alması

Cevap : C

4. Yandaki grafikte bir bölgemize yıl içerisinde düşen yağış miktarının mevsimlere göre dağılımı verilmiştir.



Bu bölgemizin doğal bitki örtüsü aşağıdakilerden hangisidir?

- A) Orman
- B) Çayır
- C) Maki
- D) Bozkır

Cevap : A

5.

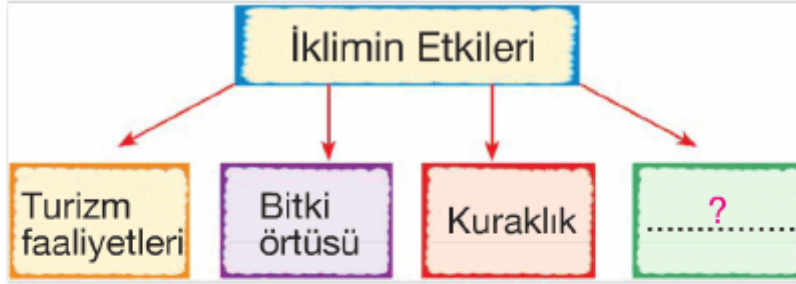
Marmara Bölgesi, denizlerle iç içe olmasına rağmen Karadeniz Bölgesi kadar yağış alamamaktadır.

Bu durumun temel nedeni, aşağıdakilerden hangisidir?

- A) Bitki örtüsünün seyrek olması
- B) Sıcaklık değerlerinin düşük olması
- C) Yükseltinin az olması
- D) Buharlaşma oranının düşük olması

Cevap : C

6.



Yukarıdaki diyagramda (?) ile gösterilen yere aşağıdakilerden hangisi yazılamaz?

- A) Tarımsal faaliyetler
- B) Giyim şekli
- C) Ulaşım faaliyetleri
- D) Maden kaynakları

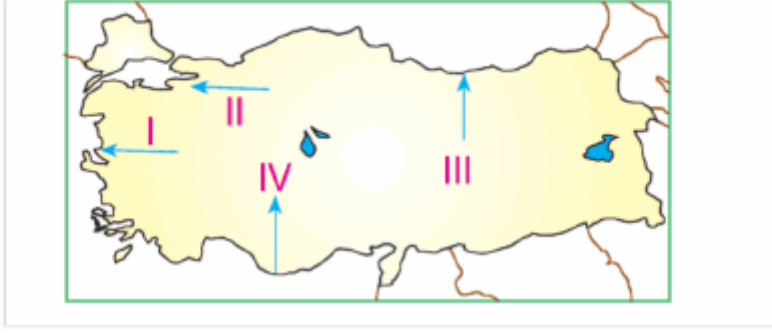
Cevap : C

7. Doğal bitki topluluklarının benzer olduğu iki bölgenin aşağıdaki özelliklerinden hangisinin benzer olduğu söylenebilir?

- A) Yer şekillerinin
- B) Sıcaklık ortalamalarının
- C) İklim özelliklerinin
- D) Maden çeşitliliğinin

Cevap : C

8.

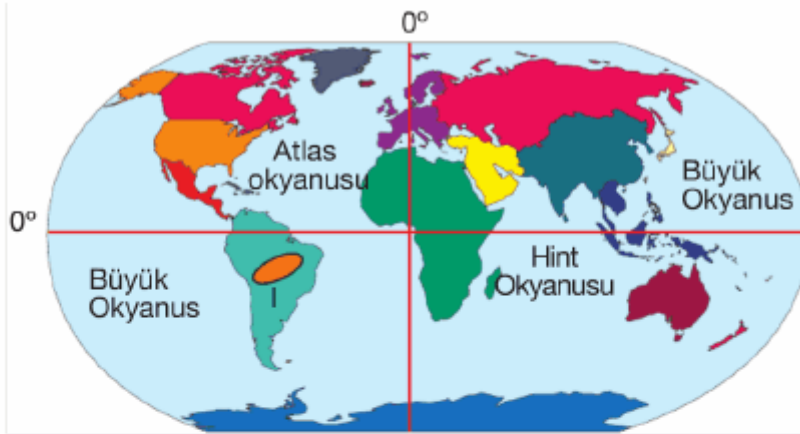


Yukarıdaki Türkiye haritasında hangi ok yönüne doğru gidildikçe yıllık sıcaklık ortalamaları azalır?

- A) I B) II C) III D) IV

Cevap : C

9.




Yukarıdaki haritada (I) ile gösterilen taralı bölgenin konumuyla ilgili aşağıdakilerden hangisi söylenemez?

- A) Afrika kıtasının batısındadır.
B) Başlangıç Meridyeni'nin doğusundadır.
C) Ekvatorun güneyinde yer alır.
D) Antartika kıtasının kuzeyindedir.

Cevap : B

10.

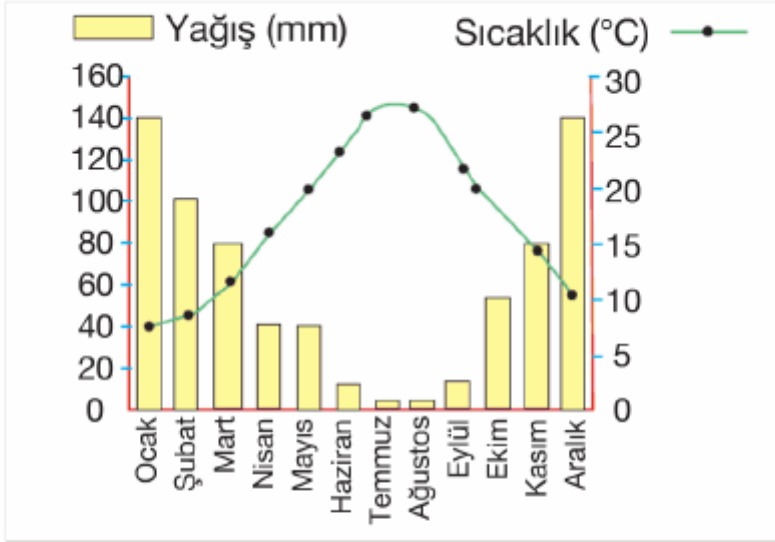


Yukarıda oluşumu gösterilen yağışların aşağıdaki yörelerimizin hangisinde daha fazla görülmesi beklenir?

- A) İzmir B) Rize
C) Antalya D) İstanbul

Cevap : B

11. Aşağıdaki bir kentimizin sıcaklık ve yağış grafiği verilmiştir.



Bu grafiğe dayanarak aşağıdakilerden hangisi hakkında bilgi elde edilemez?

- A) Yıllık yağış miktarı
- B) Toprak yapısı
- C) Yıllık sıcaklık ortalaması
- D) Doğal bitki örtüsü

Cevap : B

12.



Esmâ

Bugün hava çok güneşli geçti.



Hasan

Benim yaşadığım yerde yaz mevsimi çok kurak geçer.



Nazlı

Köyümüzde kış mevsimi çok soğuk geçer.



Kenan

Bizim şehirde her mevsim yağışlı geçer.

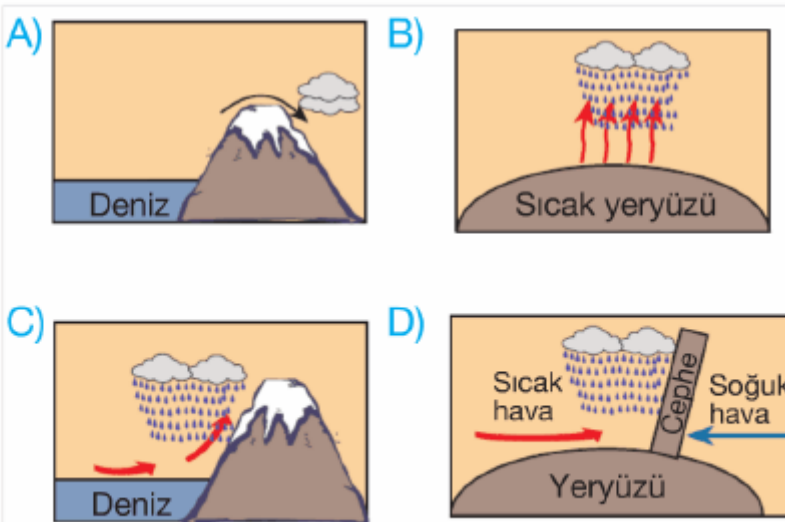
Yukarıdaki öğrencilerden hangisinin ifadesi bir yerin iklimi ile ilgili bilgi vermez?

- A) Esmâ B) Hasan
C) Nazlı D) Kenan

Cevap : A

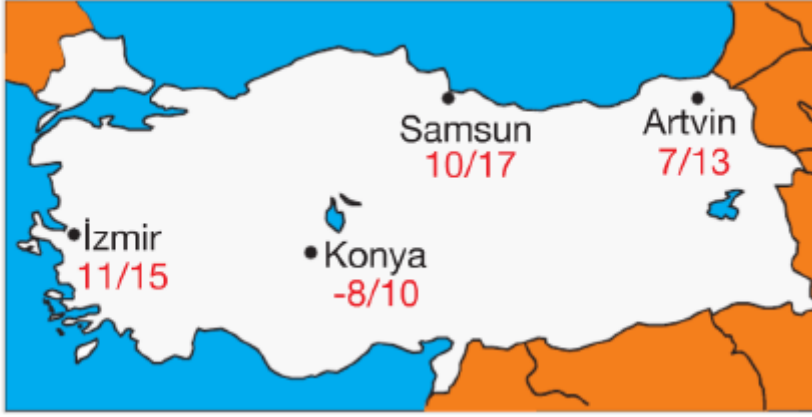
- 13.** Karasal iklimin etkili olduğu yerlerde, = ilkbaharda yeryüzünün fazla ısınması sonucunda hava kütleleri yükselir ve yükseldikçe soğuyarak yağış meydana getirir.

Buna göre, aşağıdaki yağış tiplerinden hangisi bu duruma uygunluk gösterir?



Cevap : B

14.



Yukarıdaki haritada hava durumu verilen şehirlerden hangisinde gece ve gündüz arasındaki sıcaklık farkı diğerlerinden daha fazladır?

- A) Konya B) Artvin
C) Samsun D) İzmir

Cevap : A

15. Türkiye'de görülen iklim tiplerinden biri olan karasal iklim ile ilgili verilen aşağıdaki bilgilerden hangisi yanlıştır?

- A) Doğal bitki örtüsü bozkırdır.
B) Yazlar sıcak ve kurak, kışlar soğuk ve kar yağışlıdır.
C) Yıllık sıcaklık farkı fazladır.
D) En yağışlı mevsim sonbahardır.

Cevap : A

[Online Test Çöz](#)

[Pdf İndir](#)