

## 6. Sınıf Sosyal Bilgiler Türkiye'de Ve Dünya'da İklim-2 Testi Çöz

1.



Öğretmen İsmet Bey'in bu sorusunu aşağıdaki öğrencilerden hangisi yanlış cevaplandırmıştır?

- A)  Dağların uzanışı
- B)  Denize uzaklık
- C)  Toprak çeşidi
- D)  Yükselti

Cevap : C

2.

Ganalı birçok kadın gibi kırsal bir köyde, küçük bir çiftlikte yaşıyorum. Lahana, patates, muz, şeker kamışı gibi ürünler yetiştiriyorum. Ülkemde sürekli yaz mevsimi yaşandığı için kışlık giysiye ve yakacağa ihtiyacımız yoktur.

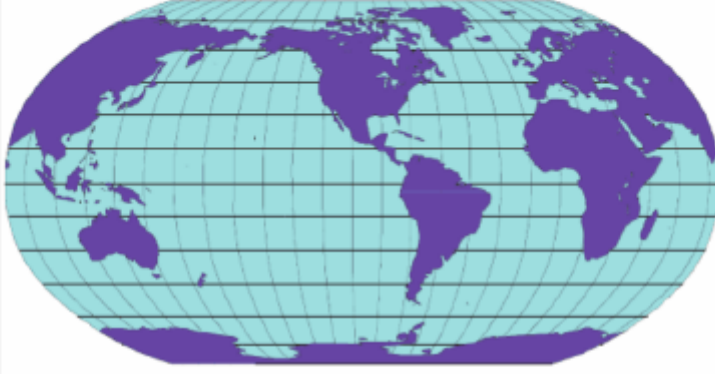


**Yukarıdaki sözleri söyleyen kadının yaşadığı yerde etkili olan iklim aşağıdakilerden hangisidir?**

- A) Muson iklimi      B) Çöl iklimi  
C) Ekvator iklimi      D) Akdeniz iklimi

Cevap : C

3. Yerkürenin en sıcak alanları Ekvator çevresinde yer alır. Ekvator'dan uzaklaştıkça sıcaklık azalır.



**Ekvator'dan kutuplara gidildikçe sıcaklığın azalmasının temel nedeni, aşağıdakilerden hangisidir?**

- A) Dünya'nın geoid şekli  
B) Yükseltinin artması  
C) Bitki örtüsünün seyrekleşmesi  
D) Buharlaşmanın azalması

Cevap : A

4. İlk Çağ Anadolu uygarlıklarının en önemli ekonomik faaliyetlerine bakıldığında; Friglerde tarımın, İyonlarda denizcilik ve deniz ticaretinin, Urartularda maden işlemeciliği ve hayvancılığın ön planda olduğu görülmektedir.

**İlk Çağ Anadolu uygarlıklarının ekonomik faaliyetlerinin farklılık göstermesinde, aşağıdakilerden hangisinin etkili olduğu söylenebilir?**

- A) Başka uygarlıklardan etkilenmelerinin
- B) Askeri yapıya önem vermelerinin
- C) Yerleştikleri coğrafi yerin özelliklerinin
- D) Gelişmiş bir kültüre sahip olmalarının

Cevap : C

5.

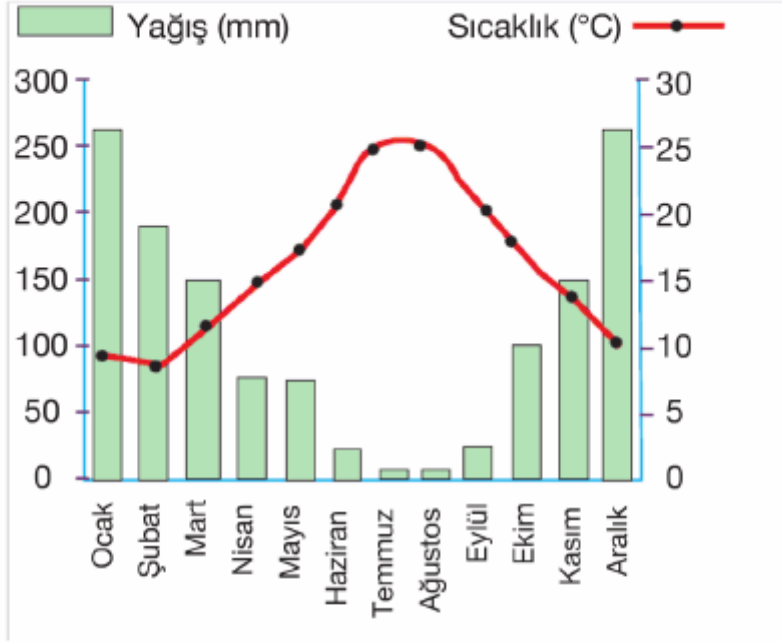
Türkiye'de kış mevsiminin en uzun olduğu, kar yağışı ve don olaylarının en fazla görüldüğü bölge Doğu Anadolu Bölgesi'dir.

**Aşağıdakilerden hangisi bu duruma yol açan etmenlerden biri değildir?**

- A) Ortalama yükseltinin fazla olması
- B) Yüzölçümünün geniş olması
- C) Yer şekillerinin dağlık ve engebeli olması
- D) Denizin ılıman etkilerine kapalı olması

Cevap : B

6. Aşağıdaki grafikte, Türkiye'de bir kentimize ait sıcaklık ve yağış değerleri verilmiştir.



**Bu grafikteki bilgilere göre, aşağıdaki yargılardan hangisine ulaşamaz?**

- A) Sıcaklık 0°C'nin altına düşmemektedir.
- B) En az yağış yaz mevsiminde görülmektedir.
- C) Yıllık yağış miktarı 2 000 mm'den fazladır.
- D) En yağışlı mevsim kıştır.

Cevap : C

7.

Gün içinde daha fazla güneş ışını alan yerler daha sıcak olur. Ülkemizde dağların güney yamaçları daha sıcak olur.

Bir yer tepelerle korunduğu, yani çukurda kaldığı için yakın çevresine göre daha sıcak ve kurak olabilir. Dağların denize bakan yamaçları daha fazla yağış alır.

Deniz seviyesinden yükseğe çıkıldıkça sıcaklık azalır. Ortalama her 100 m'de sıcaklık 0,5 °C azalır.

**Yukarıdaki bilgilerde iklimi etkileyen etmenlerden hangisine değinilmemiştir?**

- A) Yükselti
- B) Dağların güneş ışınlarına göre konumu
- C) Yer şekilleri
- D) Sıcak su akıntıları

Cevap : C

8. Yazlar sıcak ve yağışlı, kış mevsimi kurak geçen Muson iklimi, Asya'nın güney ve güneydoğusunda görülür.



**Buna göre, harita üzerinde numaralandırılan yerlerin hangisinde Muson iklimi görülür?**

- A) I
- B) II
- C) III
- D) IV

Cevap : C

9.



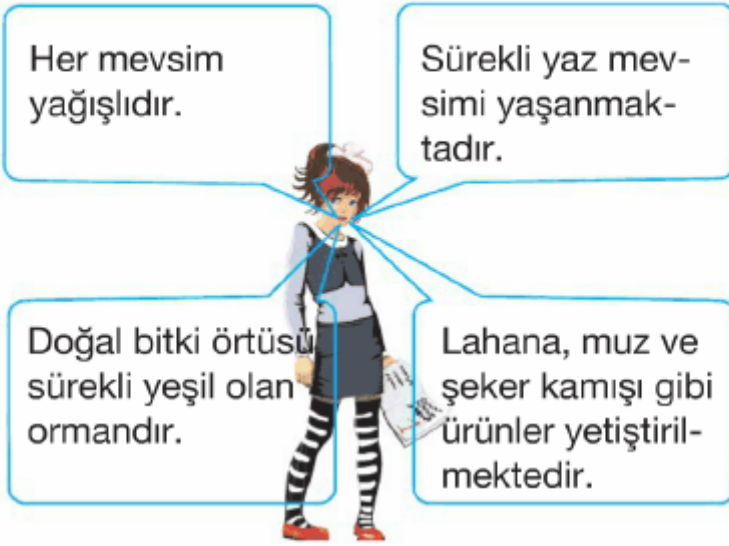
Yazlar sıcak ve kurak, kışlar soğuk ve kar yağışlı geçen karasal iklimin en önemli özelliği gece - gündüz sıcaklık farkının yüksek olmasıdır.

**Buna göre, yukarıdaki Türkiye haritasında gösterilen illerimizden hangisinde gece - gündüz sıcaklık farkı daha fazladır?**

- |             |            |
|-------------|------------|
| A) İstanbul | B) Kayseri |
| C) Adana    | D) İzmir   |

Cevap : B

10.



Yukarıda yeryüzünde etkili olan bir iklim tipinin bazı özellikleri verilmiştir.

**Yukarıdaki öğrencinin özelliklerini belirttiği iklim çeşidi aşağıdakilerden hangisidir?**

- A) Kutup iklimi      B) Muson iklimi  
C) Akdeniz iklimi      D) Ekvatorial iklim

Cevap : B

11.



**Yukarıdaki Türkiye haritasında işaretlenen alanlardan hangisinde yıllık yağış miktarı daha fazladır?**

- A) I      B) II      C) III      D) IV

Cevap : B

12. I. Akdeniz iklimi  
II. Karasal iklim  
III. Karadeniz iklimi

**Yukarıdaki iklim koşullarının yaşandığı yerlerin doğal bitki örtüleri sırasıyla aşağıdakilerden hangisinde doğru olarak verilmiştir?**

	I	II	III
A)	Orman	Maki	Çayır
B)	Maki	Bozkır	Orman
C)	Bozkır	Orman	Maki
D)	Çayır	Maki	Bozkır

Cevap : B

13.

Çin, Pakistan, Hindistan ve Güney Kore gibi Güneydoğu Asya'da görülen bu iklimde yazlar yağışlı, kışlar ılık ve kuraktır. Yıllık yağışın fazla olması nedeniyle doğal bitki örtüsü orman olup pirinç tarımı bu iklim bölgesinde yoğun olarak yapılmaktadır.

**Yukarıdaki özellikler yeryüzünde etkili olan iklim tiplerinden hangisine aittir?**

- A) Kutup iklimi  
B) Karasal iklim  
C) Muson iklimi  
D) Ekvatorial iklim

Cevap : C



14.

Ülkemizde Karadeniz kıyılarında etkili olan her mevsim yağışlı Karadeniz iklimi, Karadeniz Bölgesi'nin iç kesimlerine girememektedir.

**Bu durumun temel nedeni, aşağıdakilerden hangisidir?**

- A) Kıyı uzunluğunun fazla olması
- B) Tarım alanlarının dar olması
- C) Dağların denize paralel uzanması
- D) Bitki örtüsünün gür olması

Cevap : C

15.

I. İzmir

II. Antalya

III. Adana

IV. Trabzon

**Yukarıdaki kentlerimizden hangisinin iklim koşulları diğerlerinden farklıdır?**

- A) I
- B) II
- C) III
- D) IV

Cevap : C

[Online Test Çöz](#)

[Pdf İndir](#)