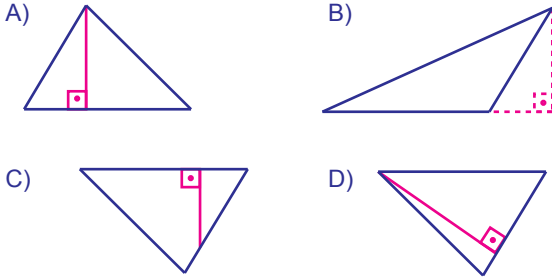


Yandaki ABC üçgeninin CB kenarına ait yüksekliği kaç birimdir?

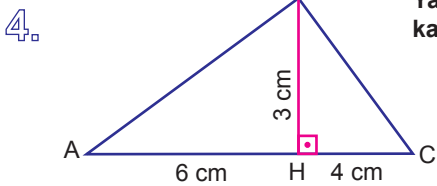
- A) 2 B) 3 C) 4 D) 5

2. Aşağıdaki paralelkenarlardan hangisinin yüksekliği yanlış çizilmiştir?



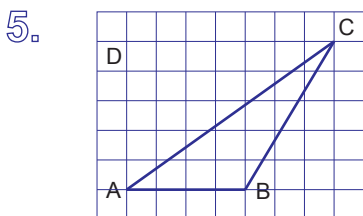
3. Aşağıdaki üçgen çeşitlerinin hangisinde yüksekliklerden biri üçgenin her zaman dış bölgesindedir?

- A) Dik üçgen B) Eşkenar üçgen
C) Geniş açılı üçgen D) İkizkenar üçgen



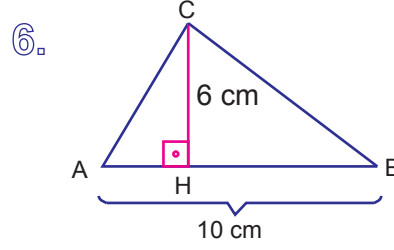
Yandaki \widehat{ABC} üçgenin alanı kaç santimetrekaredir?

- A) 18 B) 15 C) 12 D) 9



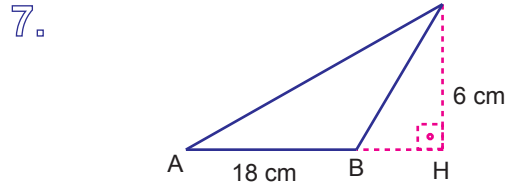
Yandaki üçgenin alanı kaç birimkaredir?

- A) 40 B) 20 C) 15 D) 10



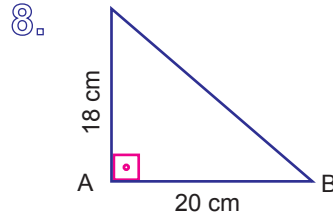
Yukarıdaki şekilde verilen üçgenin alanı kaç santimetrekaredir?

- A) 60 B) 40 C) 30 D) 20



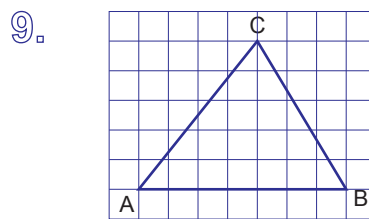
Yukarıdaki şekilde verilen üçgenin alanı kaç santimetrekaredir?

- A) 48 B) 54 C) 68 D) 104



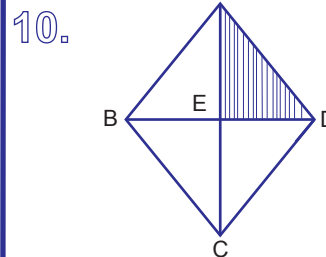
Yukarıdaki şekilde verilen diküçgenin alanı kaç santimetrekaredir?

- A) 360 B) 240 C) 180 D) 120



Yandaki üçgenin alanı kaç birimkaredir?

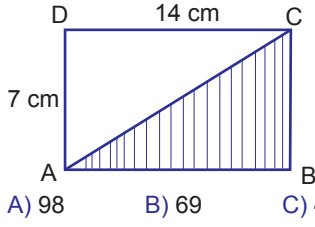
- A) 17,5 B) 22,5 C) 25 D) 35



Şekildeki eşkenar dörtgenin köşegen uzunlukları 12 cm ve 16 cm ise, taralı alan kaç santimetrekaredir?

- A) 192 B) 96 C) 48 D) 24

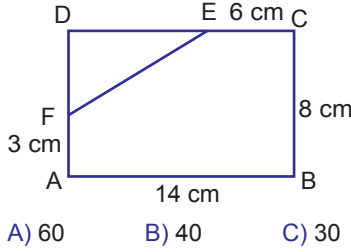
11.



ABCD bir dikdörtgen ise, ABC üçgeninin alanı kaç santimetrekaredir?

- A) 98 B) 69 C) 49 D) 34

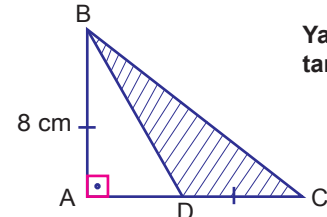
12.



ABCD bir dikdörtgen ise, DEF üçgeninin alanı kaç santimetrekaredir?

- A) 60 B) 40 C) 30 D) 20

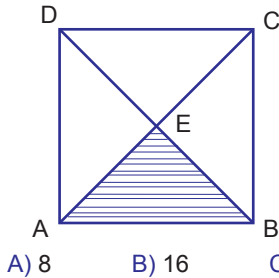
13.



Yandaki şekilde $|AB|=|DC|$ ise, taralı alan kaç santimetrekaredir?

- A) 64 B) 48 C) 32 D) 24

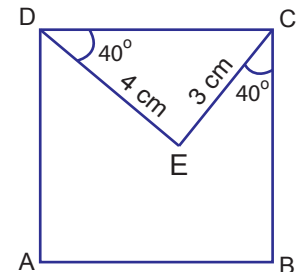
14.



Yandaki şekilde ABCD bir kare ve karenin bir köşegeni 8 cm ise, \widehat{ABE} üçgeninin alanı kaç santimetrekaredir?

- A) 8 B) 16 C) 32 D) 64

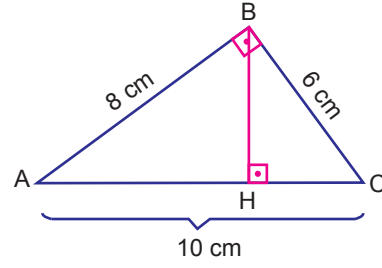
15.



Yandaki şekilde ABCD bir kare ise, DEC üçgeninin alanı kaç santimetrekaredir?

- A) 6 B) 12 C) 18 D) 24

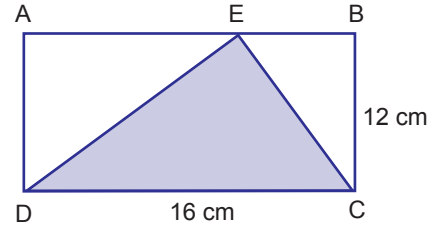
16.



Yandaki dik üçgende BH uzunluğu kaç santimetredir?

- A) 4,2 B) 4,5 C) 4,8 D) 5,2

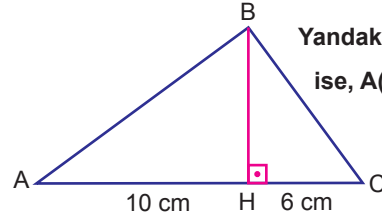
17.



Yukarıdaki boyalı üçgenin alanı kaç santimetrekaredir?

- A) 192 B) 148 C) 96 D) 48

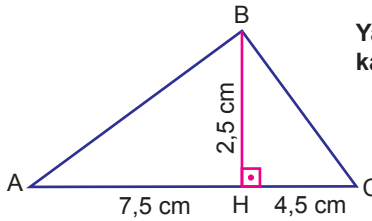
18.



Yandaki üçgende $A(\widehat{BHC}) = 18 \text{ cm}^2$ ise, $A(\widehat{AHB})$ kaç santimetrekaredir?

- A) 60 B) 45 C) 30 D) 25

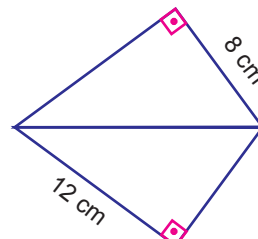
19.



Yandaki \widehat{ABC} üçgeninin alanı kaç santimetrekaredir?

- A) 60 B) 45 C) 30 D) 15

20.



Yandaki şekil iki eş dik üçgenden oluşmaktadır. Buna göre üçgenlerden birinin alanı kaç santimetrekaredir?

- A) 36 B) 48 C) 72 D) 96