

S:1

Aşağıda verilen çokgenlerden hangisinin tüm iç açılarının ölçüsü birbirinden farklı olabilir?

- Kare
 - Dikdörtgen
 - Paralelkenar
 - Yamuk
-

S:2

Yamuk ile ilgili aşağıdakilerden hangisi doğrudur?

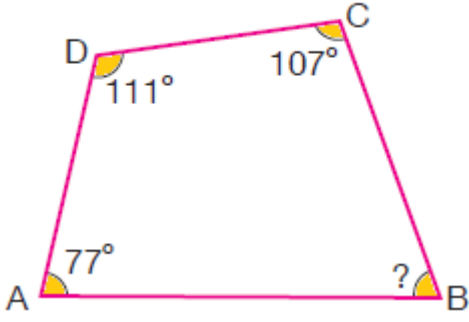
- Karşılıklı bütün kenar çiftleri paraleldir
 - Köşegenler birbirini ortalar
 - Karşılıklı kenar çiftlerinden en az biri paraleldir
 - Bütün açılarının ölçüleri birbirine eşittir.
-

S:3

Aşağıdaki dörtgenlerden hangilerinin köşegenleri dik olarak kesişir?

- Yamuk – kare
 - Paralelkenar – yamuk
 - Kare – eşkenar dörtgen
 - Dikdörtgen – kare
-

S:4



Yukarıdaki dörtgende verilmeyen açı kaç derecedir?

- 55
 - 65
 - 70
 - 75
-

S:5

Aşağıdakilerden hangisinin köşegenleri her zaman birbirini dik olarak keser?

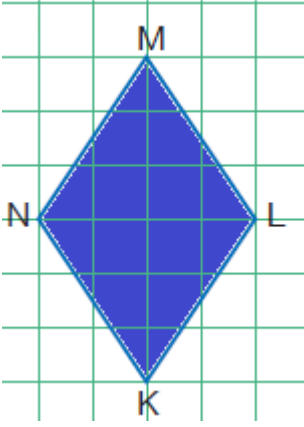
- Dikdörtgen
 - Kare
 - Yamuk
 - Paralelkenar
-

S:6

Aşağıdakilerden hangisi dört kenarlıdır?

- Yamuk
 - Altıgen
 - Üçgen
 - Beşgen
-

S:7



Yukarıda verilen dörtgenin adı aşağıdakilerden hangisidir?

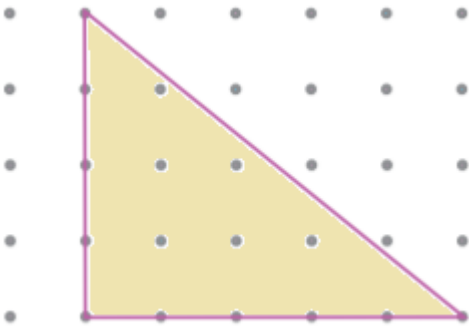
- Paralelkenar
- Eşkenar Dörtgen
- Kare
- Yamuk

S:8

Açılar ile ilgili aşağıdaki bilgilerin hangisi yanlıştır?

- İki dar açının toplamı daima geniş açıdır.
- Defferimin köşesi bir dik açı modelidir
- Ölçüsü bir doğal sayıya eşit olan en büyük dar açı 89° 'dir.
- Ölçüsü bir doğal sayıya eşit olan en küçük geniş açı 91° 'dir

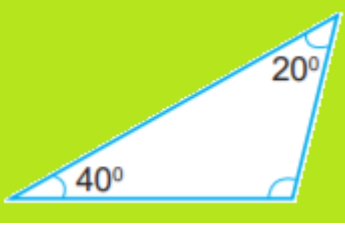
S:9



Yukarıda noktalı kağıt üzerinde çizilmiş üçgen, açılarına göre üçgen çeşitlerinden hangisi ile ifade edilir?

- Çeşit kenar üçgen
 - Geniş açılı üçgen
 - Dar açılı üçgen
 - Dik üçgen
-

S:10



Yukarıda verilen üçgenin açılarına göre çeşidi aşağıdakilerden hangisidir?

- İkizkenar Üçgen
- Dik Açılı Üçgen
- Dar Açılı Üçgen
- Geniş Açılı Üçgen