

2.SINIF

5.Ünite: Ülkemizde Hayat

1.



Yukarıdaki Türkiye haritasına bakılarak hangisi söylenemez?

- A) Türkiye'nin komşu ülkelerini gösteremeyiz.
- B) Yaşadığımız şehri gösterebiliriz.
- C) Türkiye'nin üç tarafı denizlerle çevrilidir.

2.

- Bayrağının olması
- ▲ Milli marşının olması
- Üzerinde yaşanan bir toprak parçasının olması

Yukarıdakilerden hangileri bir ülkenin bağımsız olduğunu gösterir?

- A) ■ ▲ ●
- B) ■
- C) ■ ▲

3. Bayrak töreni sırasında yapılan aşağıdaki hangi davranış yanlıştır?

- A) "Hazır ol" duruşunda durmak.
- B) Coşkuyla İstiklal Marş'ını söylemek.
- C) Arkadaşımızla konuşmak.

4.

- Şemsi Efendi İlkokulu
- Selanik Askeri Ortaokulu
- Mahalle Mektebi

Yukarıdaki Atatürk'ün gitmiş olduğu okulları sıralarsak hangi seçenekteki görünümü elde ederiz?

- A)

1
3
2
- B)

2
3
1
- C)

1
2
3




5.

1. Okul çağına geldiğinde ilk olarak Şemsi Efendi İlkokul'una gitti.
2. İlkokuldayken babası vefat etti.
3. Çok başarılı ve çalışkan bir öğrenciydi.

Atatürk'ün çocukluğuyla ilgili verilen yukarıdaki hangi bilgiler doğrudur?

- A) 2 ve 3
- B) 1, 2 ve 3
- C) 3

6. Aşağıdaki çocukların milli bayramlarımızla ilgili verdikleri bilgilerden hangisi yanlıştır?

- A)  23 Nisanda Ulusal Egemenlik ve Çocuk Bayram'ını kutlarız
- B)  30 Ağustosta Cumhuriyet Bayram'ını kutlarız.
- C)  19 Mayıs'ta Atatürk'ü Anma, Gençlik ve Spor Bayram'ını kutlarız.

5.Ünite: Ülkemizde Hayat

7. 15 Temmuzda kutlarız.

Yukarıdaki cümleyi en uygun nasıl doldurabiliriz?

- A) Zafer Bayramını
- B) Cumhuriyet Bayramını
- C) Demokrasi ve Millî Birlik Gününü

8. ■ Yardımlaşma ve dayanışma duyguları güçlenir.

★ Akrabalar ve komşular ziyaret edilir.

● Dargın olunan kişilerden uzak durulur.

Yukarıdakilerden hangileri dini günlerde yapılan davranışlardandır?

- A) ■ ★
- B) ■ ★ ●
- C) ■

9. Aşağıdaki kültürel miraslar gruplandığında hangisi grup dışı kalır?

- A) Baklava
- B) Lahmacun
- C) Horon

10. Aşağıdaki kültürel miraslar gruplandığında hangisi grup dışı kalır?

- A) Asker uğurlama
- B) Kına geceleri
- C) Keşkek yemeği

11. İnsanlar ülkelerinde karşılaştıkları bazı zorluklardan sebep başka ülkelere göç ederler.

Yukarıdaki bilgiye göre aşağıdakilerden hangisi bir insanın göç nedeni olamaz?

- A) Daha iyi bir yaşam
- B) Savaş
- C) Eğlence

12. 1. Anlayışlı olmalıyız.

2. Yaşam tarzlarına ve alışkanlıklarına saygı duymalıyız.

3. Onları kendi grubumuzdan uzak tutmalıyız.

Yukarıdaki hangi bilgiler, ülkemize göç eden insanlara karşı doğru davranış biçimidir?

- A) 1, 2, 3
- B) 1, 2
- C) 1

13. Aşağıdakilerden hangisi tarımsal bir faaliyettir?

- A) Hayvanlardan süt elde edilmesi
- B) Toprağa mısır ekilmesi
- C) Domatesten salça elde edilmesi

14. Aşağıdakilerden hangisi sanayi üretimi değildir?

- A) Patates
- B) Kumaş
- C) Meyve suyu