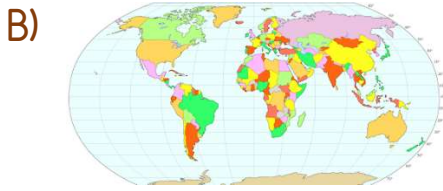
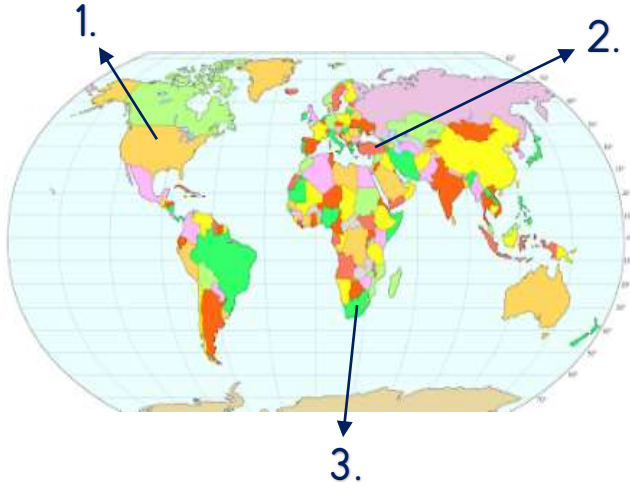


1) Aşağıdakilerden hangisi küredir?



2)



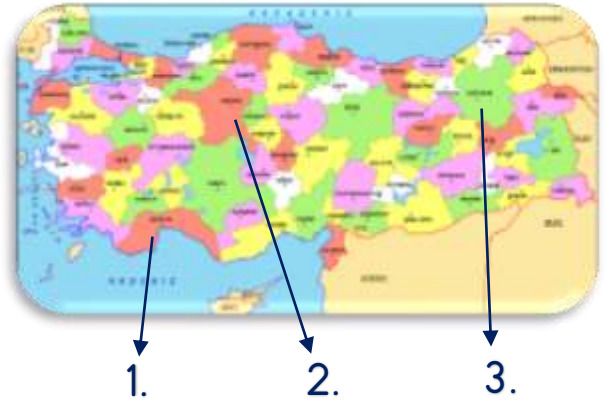
Yukarıdaki Dünya haritası üzerinde numaralandırılmış yerlerden hangisi ülkemizdir?

A) 1. B) 2. C) 3.

3) Ülkemiz ile ilgili verilen bilgilerden hangisi yanlıştır?

- A) Ülkemizin adı Türkiye'dir.  
B) Başkentimiz Ankara'dır.  
C) Ülkemiz Afrika kıtasındadır.

4)



Yukarıdaki Türkiye haritası üzerinde numaralandırılmış yerlerden hangisi başkentimizdir?

A) 1. B) 2. C) 3.

5) Ülkemizin etrafında bulunan denizler hangi seçenekte verilmiştir?

- A) Akdeniz-Karadeniz-Ege Denizi  
B) Ege Denizi-Karadeniz-Ölüdeniz  
C) Ege Denizi-Akdeniz-Gökdeniz

6) Türkiye Büyük Millet Meclisi hangi ilimizdedir?

- A) Samsun
- B) Ankara
- C) İstanbul

7) Ülkemiz ile ilgili verilen bilgilerden hangisi yanlıştır?

- A) Ülkemiz Asya kıtasındadır.
- B) Ülkemizde 81 tane il vardır.
- C) Ülkemizin her tarafı denizlerle çevrilidir.

8) Hangisi ülkemizin etrafındaki denizlerden biri değildir?

- A) Ege Denizi
- B) Karadeniz
- C) Kızıldeniz

9) Hangisi ülkemizde bulunan illerden biridir?

- A) Batman
- B) Kenya
- C) Tiflis

10) Ülkemiz hangi kıtaların birleştiği noktada bulunur?

- A) Asya ile Avrupa
- B) Avrupa ile Amerika
- C) Asya ile Amerika

11) Harita üzerinde denizler hangi renk olarak gösterilir?

- A) Beyaz
- B) Mavi
- C) Yeşil

12)



*Hayal Feriha, küre üzerinde ülkemizin yerini bulmaya çalışıyor.*

Hayal Feriha, küre üzerinde öncelikle hangisi bulursa ülkemizin yerini kolayca bulabilir?

- A) Küre üzerindeki denizlerden birini
- B) Ülkemizin etrafındaki denizlerden birini
- C) Küre üzerindeki ülkelerden birini