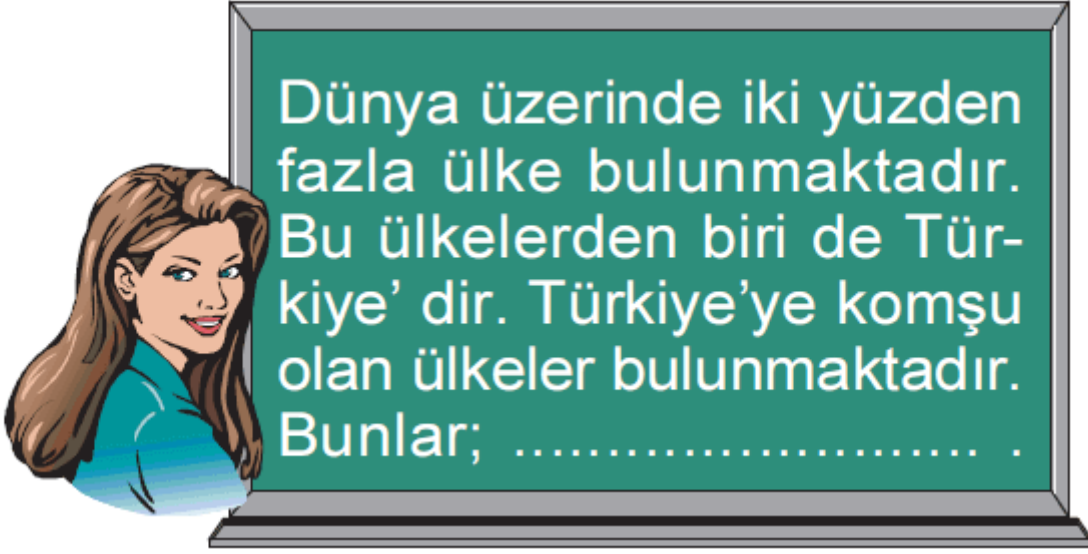


4. Sınıf Sosyal Bilgiler Uzaktaki Arkadaşlarım Testi Çöz

1.



Öğretmenin tahtaya yazdıklarını aşağıdakilerden hangisi ile tamamlarsak yanlış olur?

- A) Yunanistan
C) Afganistan

- B) Suriye
D) Gürcistan

Cevap : C

2.



Türkiye'nin Dünya üzerindeki konumundan yararlanarak aşağıdaki kıtalardan hangisi üzerinde yer aldığı söylenebilir?

- A) Amerika - Afrika
- B) Avrupa - Asya
- C) Avustralya - Avrupa
- D) Afrika - Asya

Cevap : B

3.

Yeryüzündeki büyük kara parçalarına *kıta* denir.

Buna göre, aşağıdakilerden hangisi kıtalara örnek olarak verilemez?

A) Amerika

B) Avrupa

C) Asya

D) Kanada

Cevap : B

4.

I. Japonya - Tokyo

II. Türkmenistan - Astana

III. Tunus - Tunus

IV. Azerbaycan - Bakü

Yukarıda hangi numarayla gösterilen kutuda ülke-başkent eşleştirmesi yanlış yazılmıştır?

A) I

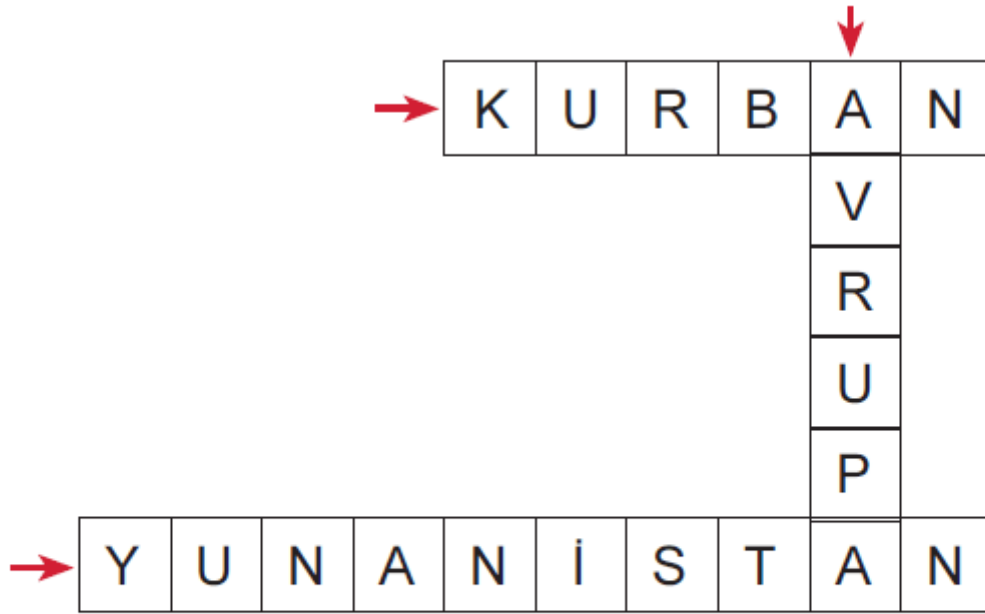
B) II

C) III

D) IV

Cevap : B

5.



Yukarıda yer alan bulmacada aşağıdaki sorulardan hangisinin cevabı yoktur?

- A) Türkiye'nin komşularından birinin adını söyleyiniz?
- B) Türkiye'nin de üzerinde toprağı bulunan kıtanın ismi nedir?
- C) Baharın gelişinin kutlandığı bayram hangisidir?
- D) Dini bayramlarımızdan birinin adını söyleyiniz?

Cevap : C

6.



Yukarıdaki haritadan yararlanarak aşağıdaki ülkelerden hangisinin Türkiye'nin komşularından olduğu söylenemez?

- A) Bulgaristan
C) Suriye

- B) Romanya
D) Irak

Cevap : B

7. Bakü - Tiflis - Ceyhan (BTC) boru hattı Avrupa'ya petrol taşımaktadır.

Buna göre, petrolün nereden nereye taşındığı aşağıdaki seçeneklerden hangisinde doğru yazılmıştır?

- A) Azerbaycan - Türkiye
- B) Türkiye - Azerbaycan
- C) Türkmenistan - Türkiye
- D) Özbekistan - Türkiye

Cevap : A

8. I. Fransa
II. Belçika
III. Almanya
IV. Suriye

Yukarıdaki ülkelerden hangisinin farklı bir kıta üzerinde yer aldığı söylenebilir?

- A) I
- B) II
- C) III
- D) IV

Cevap : A

9.

Dünya üzerinde irili, ufaklı birçok ülke vardır. Bunlardan bazılarının nüfusu çok az, bazılarının nüfusu ise çok fazladır.

Buna göre, aşağıdakilerden hangisi dünyada nüfusu en fazla olan ülkedir?




A) Türkiye

B) Çin

C) Rusya

D) ABD

Cevap : B

10.  Bařkenti Kahire'dir.
-  Asya, Avrupa ve Afrika kıtalarını birleřtiren yollar üzerindedir.
-  Nil Nehri en önemli yer Őekillerindedir.

Yukarıda özellikleri verilen Őlke ařağıdakilerden hangisidir?

A) Fas

B) Tunus

C) Mısır

D) Cezayir

Cevap : C

11.



Yukarıda verilen resimlerin altına aşağıdaki ülkelerden hangisini yazarsak yanlış olur?

A) ABD

B) Rusya

C) Mısır

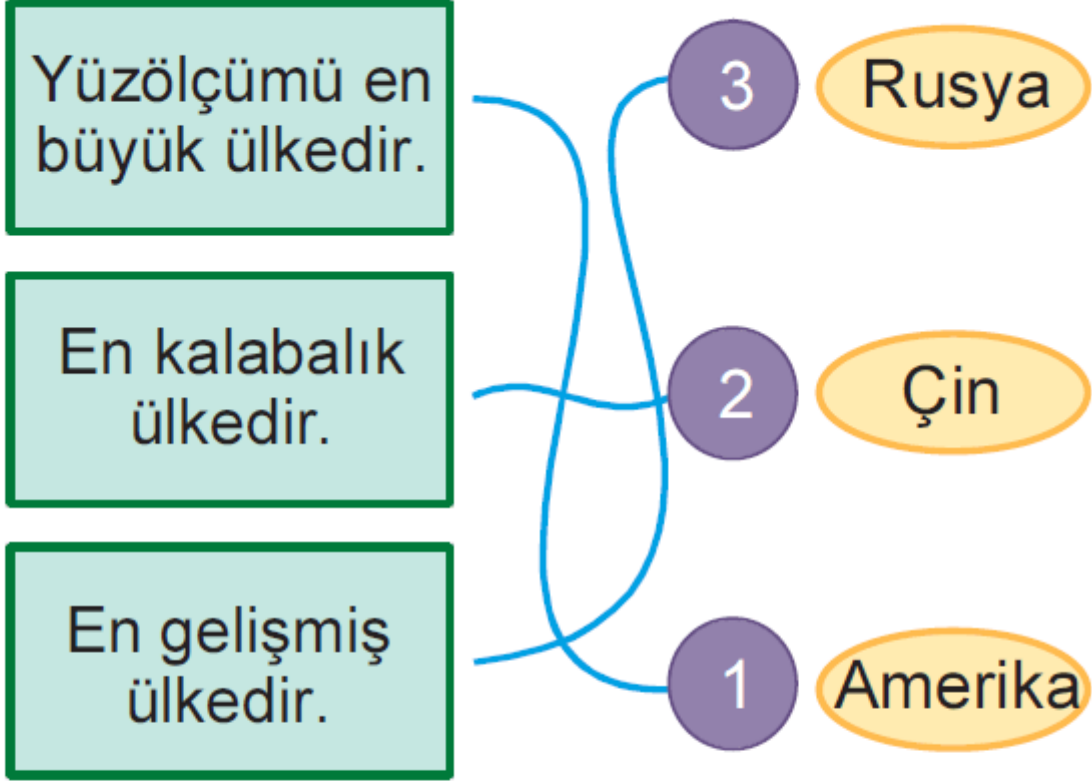
D) Fransa

Cevap : B

12.

Özellik

Ülke



Yukarıdaki özellik ve ülke eşleştirmelerinden hangileri yanlıştır?

A) Yalnız 2

B) 1 ve 2

C) 1 ve 3

D) 2 ve 3

Cevap : C

13.



Yanda fotođrafı verilen yapı ařađıdaki lkelerden hangisinde yer alır?

- A) İngiltere
- C) İtalya

- B) Fransa
- D) İspanya

Cevap : B

[Online Test öz](#)

[Pdf İndir](#)