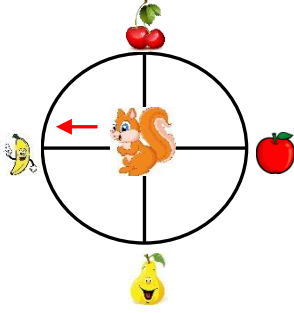



1)



Sincap saat yönünün tersine doğru 2 defa dönerse hangi meyveyi görür?

- A)  B)  C) 

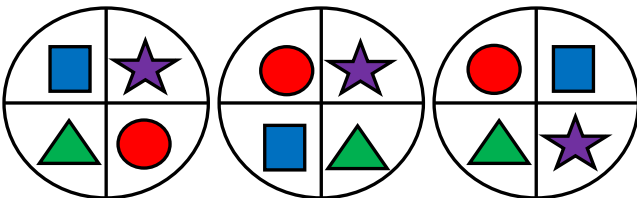
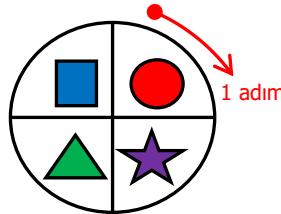
2)



Maymun hangi yönergeleri izlerse muza ulaşabilir?

- A) 2 adım aşağı, 1 adım sola  
B) 2 adım aşağı, 1 adım sağa  
C) 1 adım aşağı, 2 adım sola

3) Yandaki çember saat yönünde 3 adım döndürüldüğünde şekillerin görünümü nasıl olur?



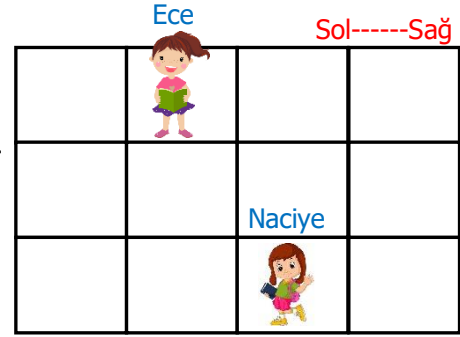
- A) B) C)

4) Yanda verilen görsele göre aşağıdakilerden hangisi yanlıştır?



- A) Kuzu ağacın altındadır.  
B) Çiçek kuzunun sağındadır.  
C) Ağaç kuzunun solundadır.

5) Ece, Naciye'nin yanına gitmek için nasıl hareket etmelidir?



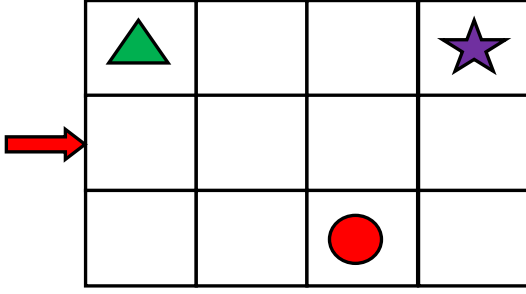
- A) 2 kare aşağıya, 2 kare sağa  
B) 3 kare aşağıya, 2 kare sağa  
C) 2 kare aşağıya, 1 kare sağa



6) Aşağıdakilerden hangisi yanlıştır?

- A) Bize göre top, çadırın solundadır.  
B) Bize göre çadır, kutunun sağındadır.  
C) Bize göre top en sağdadır.

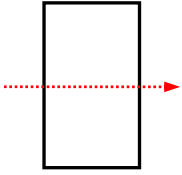
7)



Ok yönünde 3 kare düz gidiniz. Daha sonra 1 kare aşağı ininiz.  
Bu talimatlara uyan birisi hangi nesne ile karşılaşır?

- A)  B)  C) 

8)



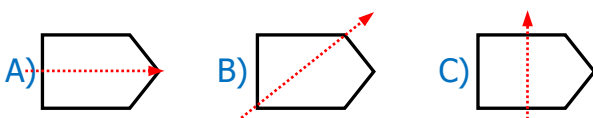
Yanda verilen şekil noktali yerden eşit olarak kesiliyor. Buna göre aşağıdakilerden hangisi yanlıştır?

- A) Oluşan şekiller eşit büyüklüktedir.  
B) Oluşan şekiller karedir.  
C) Oluşan şekiller farklı büyüklüktedir.

9) Aşağıdaki şekil yada nesnelere hangisini noktali yerlerden katladığımızda iki eş parçaya ayrılmaz?



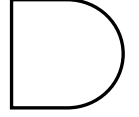
10) Aşağıdaki şekillerden hangisini noktali yerden kestığımızda eş iki şekil oluşur?



11) Aşağıdakilerden hangisi simetrik değildir?



12) Yanda verilen şeklin diğer yarısı hangisidir?



13) Yanda verilen şeklin diğer yarısı hangisidir?



14) Aşağıdaki harflerden hangisi simetrik değildir?



15) Yanda verilen nesne noktali yerden kesildiğinde parçaların görünümünü hangisi olamaz?

