

1) Aşağıdakilerden hangisi ile uzunluk ölçülmez?



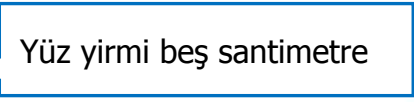

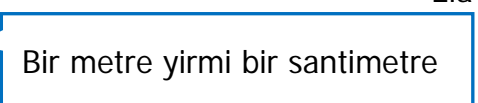
2)

★ 370 cm = 3 m 7 cm  
■ 543 cm = 5 m 43 cm  
▲ 508 cm = 5 m 80 cm

Yukarıda verilen eşitliklerden hangisi yanlıştır?



3)

Ali:   
Ela:   
Emre: 


Yukarıda boylarının uzunluklarını söyleyen öğrencilerden hangisi, diğerlerinden daha uzundur?



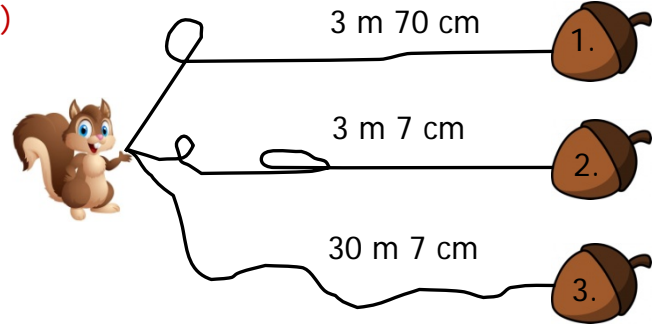
4)



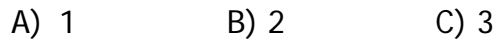
Yukarıda verilen silginin boyunu ölçmek için hangisi kullanılmaz?



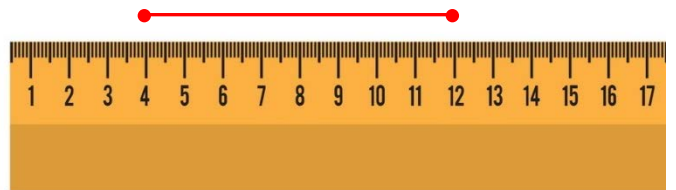
5)



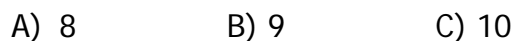
Sincabın fındığa olan uzaklığı 307 cm'dir. Buna göre hangi fındık sincaba aittir?



6)



Yukarıda çizilen doğru parçasının uzunluğu kaç santimetredir?



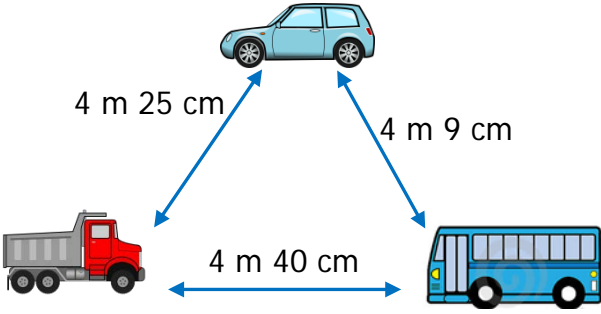
7)

6 m 50 cm

Yukarıdaki uzunluk ile verilen ifadelerden hangisi yanlıştır?

- A) 605 cm'dir.  
B) 600 cm'den uzundur.  
C) 6 m ile 7 m arasındadır.

8)



Yukarıdaki araçlardan hangileri arasındaki uzaklık en fazladır

- A) Kamyon - Otobüs  
B) Otobüs - Otomobil  
C) Kamyon - Otomobil

9)



Defterimin boyu  
25 santimetredir.

Buna göre Ayla, 1 metre uzunluğundaki bir masayı defterin boyuyla kaç defada ölçer?

- A) 3      B) 4      C) 5

10)



Murat'ın bir adımı yarım metre gelmektedir. Murat, 6 metre olan salonun boyunu kaç adımda ölçer?

- A) 12      B) 10      C) 8

11)

15 cm

Silgi

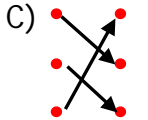
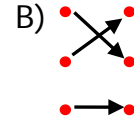
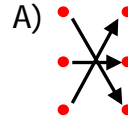
1 m

Kalem

5 cm

Atkı

Yukarıda verilen uzunluklar ile nesnelerin uzunluklarının eşleşmesinden hangisi oluşur?



12)

 $370 \text{ cm} < \triangle < 430 \text{ cm}$ 

Yukarıdaki sıralamada  $\triangle$  yerine aşağıdaki uzunluklardan hangisi gelmelidir?

- A) 3 m      B) 4 m      C) 5 m