


3. Sınıf Fen Bilimleri Varlıkların Hareket Özellikleri Testi Çöz

1)



Yukarıdaki varlıklardan hangileri hareketlidir?

- A) ★ - ■ B) ■ - ▲ C) ★ - ▲

Cevap : B

2)



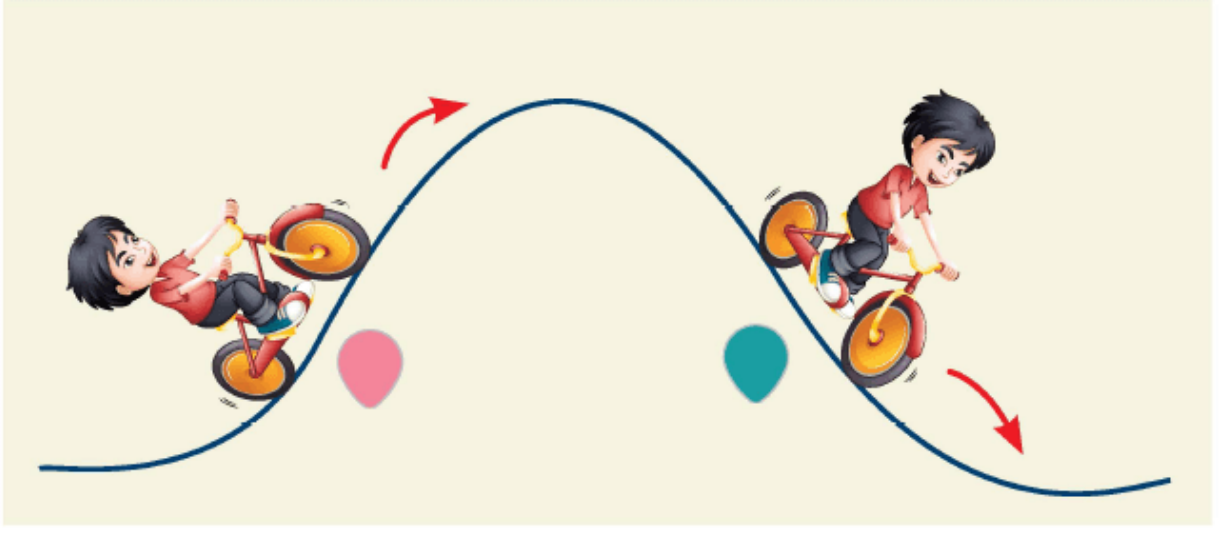


Çaço'nun yukarıya attığı topun yaptığı hareket türleri hangi seçenekte verilmiştir?







- A) 1'de hızlanan
2'de yavaşlayan
- B) 1'de yavaşlayan
2'de hızlanan
- C) 1'de hızlanan
2'de hızlanan

Cevap : A

3)



Yukarıdaki bisikletin yaptığı hareket türleri hangi seçenekte verilmiştir?

A)		dönen
		sallanan
B)		yavaşlayan
		yön değiştiren
C)		yavaşlayan
		hızlanan

Cevap : C

4)



Görseldeki araç okların gösterdiği yöne gidecektir.

Aracın yapacağı hareketler hangi seçenekte verilmiştir?

- | | |
|---------------|----------------|
| A) yavaşlayan | yön değiştiren |
| B) dönen | sallanan |
| C) hızlanan | yavaşlayan |

Cevap : A

[Online Test Çöz](#)

[Pdf İndir](#)