

1. Aşağıdakilerden hangisiyle, Beşerî Coğrafya arasında doğrudan bir ilişki yoktur?

- A) Nüfusun dağılışı B) Maden dağılışı
C) Tarımsal üretim D) Gezegenler
E) Kümes hayvancılığı

2. Aşağıdakilerden hangisi, günümüzdeki Beşerî Coğrafya anlayışının temel amacıdır?

- A) Yalnızca nüfusun artışını incelemek
B) İnsanın biyolojik yapısını incelemek
C) İnsan ve çevre ilişkilerini birlikte incelemek
D) Dağ oluşumlarının yeryüzündeki etkilerini araştırmak
E) Yalnızca çevredeki doğal olayların oluşumunu incelemek

3. I. Mağara
II. Kaçır ev
III. Prefabrik ev
IV. Ağaç kovuğu

Yukarıdakilerden hangileri, insanların ilk olarak kullandıkları barınak tiplerindedir?

- A) I ve II B) I ve IV C) II ve III
D) II ve IV E) III ve IV

4. Ekvatorial bölgede, yükseltisi 1000 - 3000 metre arasında olan bölgelerin yerleşmeye daha uygun olmasının nedeni aşağıdakilerden hangisidir?

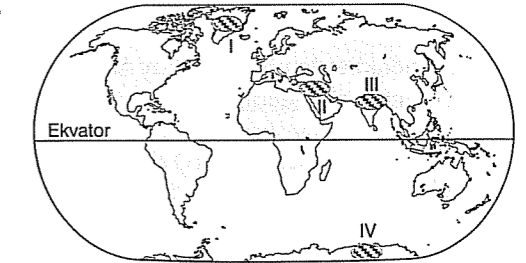
- A) Su kaynaklarının sınırlı olması
B) Karstik arazilerin yaygın olması
C) Tropikal ürünlerin yetiştirilebilmesi
D) Doğal bitki örtüsünün daha gür olması
E) Sıcaklık, yağış ve nemin alçak kesimlere göre daha az olması

5. İnsanlar, tarımı keşfetmeleriyle yerleşik hayata geçmişlerdir. Sonraki süreçte, sanayi devrimiyle birlikte fabrikalar kurulmuş, kas gücü yerine makine kullanımı yaygınlaşmış, maden yatakları ve ormanlar işlenmeye başlamış, yollar, köprüler, tüneller, limanlar inşa edilmiştir.

Aşağıdakilerden hangisi, yukarıdaki parçaya göre varılabilecek bir yargıdır?

- A) Dünya'daki nüfus artışı giderek azalmıştır.
B) Kas gücüne olan ihtiyaç her geçen gün artmıştır.
C) Doğal çevrenin insan yaşamı üzerinde bir etkisi yoktur.
D) Beşerî faktörlerin doğal çevre üzerindeki etkisi giderek artmıştır.
E) Ekonomik faaliyetler giderek daha uzun bir süreçte yapılır hâle gelmiştir.

6.



Haritada taranarak numaralandırılan bölgelerin hangilerinde, Dünya'daki ilk yerleşim alanları bulunur?

- A) I ve II B) I ve III C) II ve III
D) II ve IV E) III ve IV

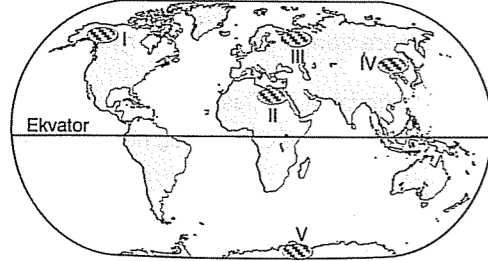
7. Aşağıdakilerden hangisi, idari şehirlerin ortaya çıkmasında etkili olan temel faktördür?

- A) Hava ulaşımının keşfedilmesi
B) Sanayi Devrimi'nin yapılması
C) Madenlerin işletilir hâle gelmesi
D) Turizm faaliyetlerinde gelişmelerin olması
E) Kalabalık şehirlerin artmasına bağlı olarak devletlerin kurulması

8. Aşağıdakilerden hangisi Avrupa Kıtası'nda yer alan liman şehirlerinden biri değildir?

- A) Sidney B) Hamburg C) Bari
D) Barselona E) Rotterdam

9.



Yukarıdaki haritada taranarak numaralandırılan alanların hangisinde yerleşik hayat yoktur?

- A) I B) II C) III D) IV E) V

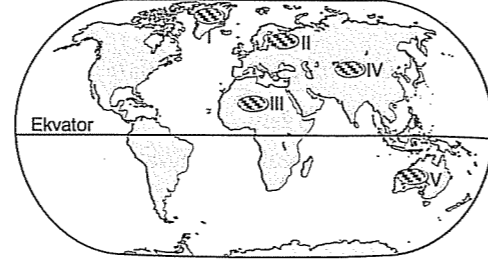
10. Aşağıdakilerden hangisi, köy altı yerleşmelerinden biri değildir?

- A) İlçe B) Oba C) Çiftlik
D) Yayla E) Mezra

11. Aşağıdaki gözlemlerden hangisi, konut yapımında kullanılan malzemelerin seçilmesinde doğal koşulların etkili olduğunu göstermez?

- A) Kuzey Afrika ülkelerindeki konutların kerpiçten yapılması
B) Japonya'da konutların hafif ve esnek malzemelerden yapılması
C) İsveç, Norveç ve Kanada'da konutların yapımında ahşap malzemelerin kullanılması
D) Eskimolar'ın iglo adı verilen barınakların yapımında malzeme olarak kar ve buzulları kullanması
E) Büyükşehirlerdeki çok katlı konutların yapımında çimento ve hazır beton gibi malzemelerin kullanılması

12. Ahşap meskenler, ağaç malzeme kullanılarak ya da ağaçların üst üste konulmasıyla yapılan meskenlerdir. Bu tür meskenlere daha çok ormanların yaygın olduğu bölgelerde rastlanır.



Buna göre, yukarıdaki haritada numaralandırılan taralı bölgelerden hangisinde bu tür meskenlere daha çok rastlanır?

- A) I B) II C) III D) IV E) V

13. Aşağıdakilerden hangisi, köy yerleşmelerinin toplu ya da dağınık olmasında daha çok etkilidir?

- A) İdari şekli
B) Nüfusun yaş durumu
C) Konut tiplerinin durumu
D) Su kaynakları ile yer şekillerinin durumu
E) Erkek nüfus ile kadın nüfus arasındaki farkın az olması

14. I. Yollar
II. Arıcılık
III. Akarsular
IV. Mera hayvancılığı

Yukarıdakilerden hangileri, çizgisel yerleşme dokusunun oluşmasında en çok etkilidir?

- A) I ve II B) I ve III C) II ve III
D) II ve IV E) III ve IV

15. Aşağıdaki ülkelerden hangisinde sanayi şehirleri yaygın olarak bulunmaz?

- A) Almanya B) İtalya C) Tunus
D) İngiltere E) ABD

1-D 2-C 3-B 4-E 5-D 6-C 7-E 8-A 9-E 10-A
11-E 12-B 13-D 14-B 15-C