

- 1. 5/A sınıfı başkanı Yusuf, sınıf defterini ve yoklama fişini ilgili müdür yardımcısının odasından alıp sınıfa getirir.**

**Yusuf'un bu davranışını, aşağıdaki kavramlardan hangisiyle ilişkilendirebiliriz?**

- A) Rol      B) Hak      C) Grup      D) Kurum

Cevap : A

- 2. İlçedeki resmî kurum ve kuruluşların tüm çalışmalarını takip eden, yönlendiren ve aralarındaki işbirliğini sağlayan yetkili, aşağıdakilerden hangisidir?**

- A) Vali  
B) Muhtar  
C) Kaymakam  
D) İlçe Millî Eğitim Müdürü

Cevap : C

- 3. I- Yazılı kurallara uymak yasal bir zorunluluktur.**  
**II- Yasalar, toplumsal yaşamımızı zorlaştırır.**  
**III- Verilen cezalara itiraz hakkımız yoktur.**  
**IV- Yazılı kuralların yaptırım gücü daha fazladır.**

**Verilen bu ifadelerden hangileri doğrudur?**

- A) I ve II  
B) I ve IV  
C) II ve III  
D) III ve IV

Cevap : B

- 4. Cumhuriyetin ilk yıllarında Etibank ve Sümerbank gibi kuruluşlar açılmıştır. Birçok yerde de şeker, çimento, demir-çelik fabrikaları kurulmuştur.**

**Bu gelişmeler, aşağıdaki Atatürk ilkelerinden hangisiyle ilişkilendirilebilir?**

- A) Halkçılık  
B) Devletçilik  
C) Milliyetçilik  
D) Cumhuriyetçilik

Cevap : B

5. Atatürk'e göre; millet egemenliğine dayanmayan kişisel yönetimlerin dünyada artık yeri yoktur.

Atatürk, aşağıdaki inkılaplardan hangisini bu görüşüne dayanarak yapmıştır?

- A) Saltanatın kaldırılmasını
- B) Ağırlık ve uzunluk ölçülerinin değiştirilmesini
- C) Tevhid-i Tedrisat Kanunu'nun kabul edilmesini
- D) Hicri ve Rumi takvim kullanımına son verilmesini

Cevap : A

6.



Atatürk öğrencilere sınıfta ders anlatıyor.



Atatürk traktörle tarla sürüyor.

Bu görsellerden Atatürk ile ilgili varılabilecek ortak yargı, aşağıdakilerden hangisidir?

- A) Modern tarıma önem vermektedir.
- B) Eğitim öğretimi desteklemektedir.
- C) Bilim ve teknolojiye değer vermektedir.
- D) Öğretmenlik mesleğini önemsemektedir.

Cevap : C

**7. Beş yaşında geçirdiği trafik kazası nedeniyle yürüyemeyen ilkokul dördüncü sınıf öğrencisi Elif'e valilik, akülü bir tekerlekli sandalye hediye etti. Elif, artık sokağa çıkıp oyun oynayabiliyor! Okulda ise bireysel ihtiyaçlarını yardım almadan karşılayabiliyor.**

**Bu parçada, teknolojik gelişmelerin en çok hangi yönü anlatılmak istenmiştir?**

- A) Maliyetlerinin pahalı olduğu
- B) Günlük hayatımızı kolaylaştırdığı
- C) İnsanları tembelliğe ittiği
- D) Valiliğin hayırsever olduğu

Cevap : B

**8. Ülkemizin, Dünya Miras Listesi'nde yer alan varlıklarını merak eden bir turiste vereceğimiz listede aşağıdakilerden hangisi yer almaz?**

- A) Pamukkale
- B) Kapadokya
- C) Beypazarı Evleri
- D) Truva Antik Kenti

Cevap : C

9. • Suyumuzu boşa akıtmayalım.  
• Eğitimde, yoksul öğrencileri destekleyelim.  
• Doğal afetlerde dünyanın her yerindeki muhtaç insanlara yardım edelim.

Bu cümleler arasında, aşağıdaki sivil toplum kuruluşlarından hangisinin amacına yönelik bir ifade yoktur?

- A) TEMA  
B) LÖSEV  
C) KIZILAY  
D) DARÜŞŞAFKA

Cevap : B

10. “Öğretmenimiz bir konu belirleyerek sınıfta tartışılmasını istedi. Konu ile ilgili düşüncesini paylaşmak isteyen bütün arkadaşlarımıza söz hakkı tanıdı.”

Buna göre öğretmen, aşağıdaki çocuk haklarından hangisinin kullanılmasına ortam hazırlamıştır?

- A) Eğitim  
B) Yaşama  
C) Dernek kurma  
D) İfade özgürlüğü

Cevap : B

11. Aşağıdakilerden hangisi Türk milletinin ortak değerlerinden biri değildir?

- A) Başkenti  
B) Resmî dili  
C) Millî marşı  
D) Eğitim süresi

Cevap : B

**12. Galileo (Galile), Dünya'nın Güneş etrafında döndüğü görüşünü, tüm baskılara rağmen sonuna kadar savundu.**

**Galile'nin bu tutumunda bilim insanının hangi özelliği görülmektedir?**

- A) Cesaret ve kararlılık
- B) Tarafsızlık ve meraklılık
- C) Eleştircilik ve evrensellik
- D) Sorgulayıcılık ve şüphecilik

Cevap : A

**13. Türkiye fiziki haritasında aşağıdakilerden hangisi yeşil renk ile gösterilir?**

- A) Antalya Ovası
- B) Konya Ovası
- C) Uzunyayla Platosu
- D) Küre Dağları

Cevap : A

**14. Türkiye'de yazların sıcak ve kurak kışların ılık ve yağışlı geçtiği bir bölge için aşağıdakilerden hangisi kesinlikle söylenebilir?**

- A) Yaz turizminin gelişmiş olduğu
- B) Tarımsal üretimin düşük olduğu
- C) Maki bitki örtüsünün yaygın olduğu
- D) Ticari faaliyetlerin önemli olduğu

Cevap : C

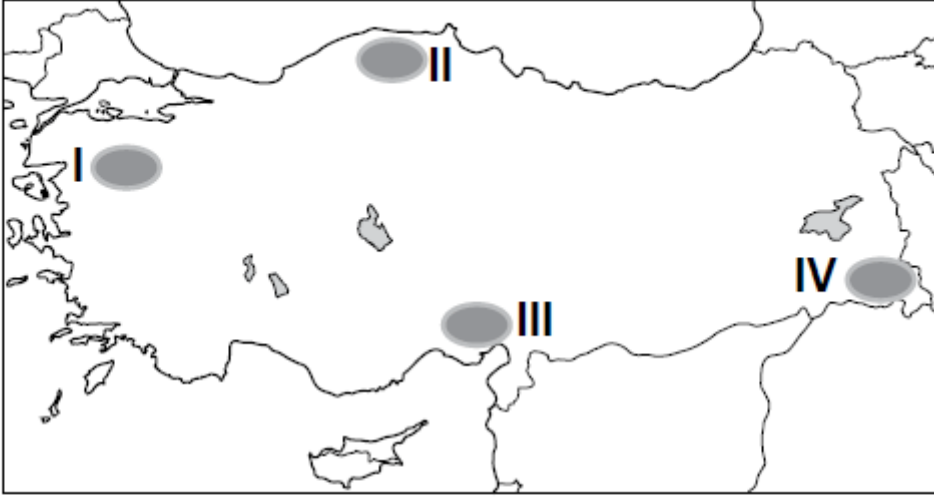


**15. Aşağıdakilerden hangisi insanların doğal ortamda yaptığı değişikliklere örnek gösterilebilir?**

- A) Peribacalarının önünde sergi açılması
- B) Göksu Nehri üzerine baraj yapılması
- C) Manyas Gölü'ndeki kuşların korunması
- D) Ormanlık alanlardaki çöplerin toplanması

Cevap : B

**16.**



**Haritada numaralandırılarak verilen alanlardan hangisinde çığ olayının görülme ihtimali daha fazladır?**

- A) I
- B) II
- C) III
- D) IV

Cevap : B


**17. Ülkemizde nüfusun en yoğun olduğu yer Marmara Bölgesi'dir.**

**Bu duruma bölgenin hangi özelliğinin etkisi en azdır?**

- A) İkliminin ılıman olması
- B) Sanayisinin gelişmiş olması
- C) Arazisinin düz ve verimli olması
- D) Komşu ülkelere sınırının olması

Cevap : B

**18. Aşağıda Akdeniz Bölgesinde yetişen bazı ürünlerin Türkiye üretimindeki payı grafiklerle gösterilmiştir.**



**Grafikler incelendiğinde aşağıdakilerden hangisi söylenebilir?**

- A) Bölgede pamuk ipliği ihracatı fazladır.
- B) Akdeniz de yeşil zeytin üretimi fazladır.
- C) Muzun tamamı Akdeniz bölgesinde yetişir.
- D) Üretilen üzümün hepsi bölge içinde tüketilir.

Cevap : C



**19.** Nüfusunun önemli bir kısmı ticaret, turizm ve eğitim kuruluşlarında çalışan bir ilde hangi sektörün daha çok geliştiği söylenebilir?

- A) Tarım  
B) Hizmet  
C) Sanayi  
D) Madencilik

Cevap : B

**20.** Ülkeler arası ticaretin gelişmesinde aşağıdakilerden hangisinin etkisi en azdır?

- A) Taşıma araçlarının  
B) Reklam ve tanıtımların  
C) Haberleşme sistemlerinin  
D) Konaklama tesislerinin

Cevap : B

**21.**




**Bu şemada soru işareti yerine aşağıdakilerden hangisi gelmelidir?**

- A) Vicdan  
B) Duygu  
C) Yorum  
D) Akıl

Cevap : B


**22. Aşağıdaki öğrencilerden hangisi duanın anlamını ve nasıl yapılması gerektiğini kavrayamamıştır?**

A) Anneme ilaçlarını verdim ve iyileşmesi için Allah'a dua ettim.




Zeynep

B) Ders çalışmak istemiyorum, ama düşük not almamak için Allah'a dua ediyorum.




Ali

C) Babam her sabah işe giderken helal kazanç vermesi için Allah'a dua eder.



Sena

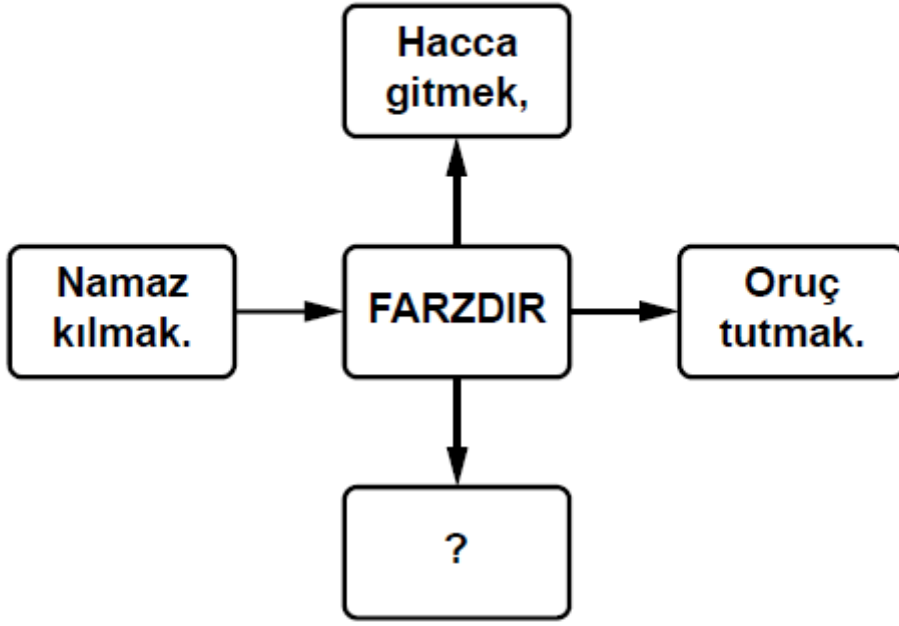
D) Depremde evsiz kalan çocuklar için yardım gönderdik ve onlar için Allah'a dua ettik.



Semih

Cevap : B

23.



**Soru işareti bulunan yere aşağıdakilerden hangisi gelmelidir?**

- A) Dua etmek
- B) Selam vermek
- C) Zekat vermek
- D) Umre yapmak

Cevap : C

**24.** Kur'an-ı Kerim'in özelliklerinden biri de insanı iyiye, güzele yönlendirmesi ve kötülüklerden sakındırmasıdır.

**Aşağıdaki ayetlerden hangisi Kur'an-ı Kerim'in bu özelliğine örnek oluşturmaz?**

- A) *"Allah kimseye gücünün üstünde bir yük yüklememiştir."* (Bakara suresi, 286. ayet)
- B) *"... Hiç şüphe yok ki Allah iyi davrananlarla beraberdir."* (Ankebût suresi, 69. ayet)
- C) *"Sevdiğiniz şeylerden Allah yolunda harcamadıkça iyiliğe eremezsiniz..."*  
(Al-i İmran suresi, 92. ayet)
- D) *"Allah adaleti, iyiliği, akrabaya yardım etmeyi emreder; kötü işleri, fenalığı ve azgınlığı da yasaklar ..."* (Nahl Suresi, 90. ayet)

Cevap : A

**25.** *"Müminler, birbirlerini sevmeye, korumada ve birbirlerine acımada bir vücut gibidirler. Vücudun herhangi bir organı rahatsız olunca diğer organları da rahatsız olur."* (Hadis-i Şerif)

**Peygamberimizin bu sözünü benimseyen bir kişinin aşağıdaki davranışlardan hangisini yapması beklenir?**

- A) Akrabalarının sıkıntılarını görmezden gelmesi
- B) Yardıma muhtaç insanlara duyarsız kalması
- C) Arkadaşının sırrını başkalarıyla paylaşması
- D) İnsanlara sevgi ve şefkatle yaklaşması

Cevap : A

**Online Test Çöz**

**Pdf İndir**