


- 31) Basit bir elektrik devresinde hangisinin sayısı artırılırsa ampulün parlaklığı artar?

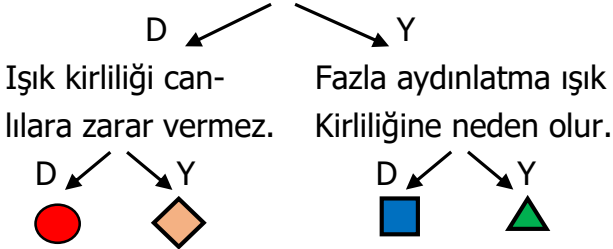


- 32) Buse : Ülke ekonomisine katkı sağlar.
Taner: Doğal kaynaklar çabuk tükenir.
Utku: Çöp miktarı azalır.
Gaye: Çevre kirliliği azalır.

Öğretmen öğrencilere geri dönüşümün faydalarını sormuş. Yanlış cevap veren öğrenci sınıf başkanymış. Buna göre sınıf başkanı kimdir?

- A) Gaye B) Utku
C) Taner D) Buse

- 33) Doğru aydınlatmada ışık doğrudan göze gelmemelidir.



Yukarıdaki ifadelerin doğru ve yanlış olmalarını dikkate alarak ilerlersek hangi şekle ulaşırız?

- A) B) C) D)

- 34) Pelin: Dün teyzemlerde ayran içtim.
Okan: Babam çaya şeker atmaz.
Betül: Ablam güzel salata yapar.

Üç arkadaşın söyledikleri altı çizili maddele ilgili aşağıdakilerden hangisi doğrudur?

	Pelin	Okan	Betül
A)	Karışım	Karışım	Saf
B)	Saf	Saf	Karışım
C)	Karışım	Saf	Karışım
D)	Karışım	Karışım	Karışım

- 35) I – Isı vererek gerçekleşir.

II- Isı alarak gerçekleşir.

Yukarıda bahsedilen olaylar aşağıdakilerden hangileridir?

- A) I – Erime II – Donma
B) I – Erime II – Buharlaşma
C) I – Kaynama II – Donma
D) I – Donma II – Erime

- 36) K ve L maddenin iki farklı halidir.

☆ K ısı alarak L haline dönüşür.

☆ L sıkıştırılabilir.

Yukarıdaki ifadelere göre K ve L hallerine örnek verilebilecek maddeler hangileridir?

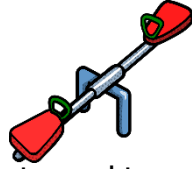
	K	L
A)	taş	süt
B)	pekmez	buhar
C)	demir	doğal gaz
D)	su	buz

37) Yandaki dereceli kaptan 85 mL su bulunmaktadır. Kabin içine bir taş bırakılıyor. Su 130 mL'ye kadar yükseliyor. Buna göre taşın hacmi ne kadardır?



- A) 45 mL B) 215 mL
C) 55 mL D) 35 mL

38) Yandaki tahterevallinin dengede durabilmesi için oturma yerlerine maddelerin ortak özelliklerini söyleyen çocuklar oturacaktır.



Mert : Renk Tuğçe : Hacim
Oğuz: Kütle Sinem : Sertlik
Yukarıdaki ifadeye göre hangi çocuklar oturursa tahterevalli dengede olur?

- A) Mert - Oğuz
B) Tuğçe - Sinem
C) Oğuz - Sinem
D) Tuğçe - Oğuz

39)



I - II

Ela



I - IV

Kerem



II - III

Zeynep



III - IV

Kayra

Öğretmen mıknatısın çekim etkisinin güçlü olduğu yerleri sormuş. Buna göre kim doğru cevap vermiştir?

- A) Kayra B) Ela
C) Kerem D) Zeynep

40)

Proteinler büyümeyi ve gelişmeyi sağlar. Doktor, Elif'e daha iyi büyümesi için proteini bol yiyecekler yemesini söylemiş.

◇ fasulye

○ makarna

▣ piriç

△ yumurta

Yukarıdakilerden hangileri doktorun söylediği yiyeceklerdendir?

A) ◇ ▣

B) ◇ △

C) △ ○

D) ▣ ○