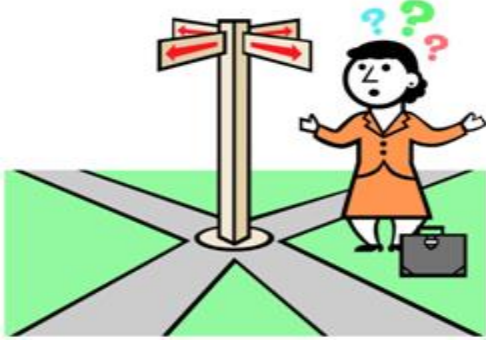


1)



Aşağıdakilerden hangisi **yönleri** bilmenin bize sağlayacağı faydalardan değildir?

- A) Kendimize olan güvenimizi artırmaz.
- B) Aradığımız yeri kolayca bulabiliriz.
- C) Kaybolma tehlikesi yaşamayız.
- D) Gideceğimiz yere kolayca ulaşırız.

2)



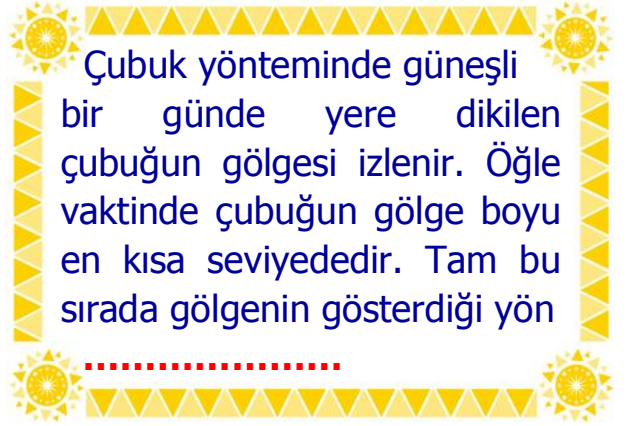
Öğretmen, öğrencilerden **ara yönlere** örnek vermelerini istemiştir. Buna göre kaç öğrenci yanlış cevap vermemiştir?

- A) 1
- B) 2
- C) 3
- D) 4

3) Serhat, Güneş'in doğduğu yere sağ kolu, güneşin battığı yere sol kolu gelecek şekilde kollarını açmıştır. Buna göre Serhat'ın **arkasında** hangi yön kalır?

- A) Kuzey
- B) Doğu
- C) Batı
- D) Güney

4)



Yukarıdaki metinde, **noktalı yere** aşağıdakilerden hangisi gelmelidir?

- A) batıdır.
- B) kuzeydir.
- C) güneydir.
- D) doğudur.

5)

Yosunlar	Müslüman Mezarı	Dürbün Yöntemi
Bulutlar	Kutup Yıldızı	GPS Teknolojisi

Yön bulma yöntemlerini içeren kutuları boyarsak ortaya nasıl bir şekil çıkar?

- A)
- B)
- C)
- D)

6) **Yer altından çıkardıkları toprağı, yuva girişinin kuzeyine yığarlar. Yuvanın açık olan ağız güney yönüne bakar.** Yukarıdaki açıklamada, bize yön bulmada kolaylık sağlayan **havyan** hangisidir?

- A) Yılan
- B) Solucan
- C) Karınca
- D) Köstebek

7)	Yüzümüzü Kutup Yıldızı'na dönersek arkamız güneyi gösterir	
	Bu yıldız halk arasında Gümüşkazık da denir.	
	Yüzümüzü Kutup Yıldızı'na dönersek solumuz doğuyu gösterir	
	Kutup Yıldızı'nı bulabilmek için Büyükayı takımyıldızından yararlanırız.	

Yukarıda **Kutup Yıldızı** ile alakalı bilgilerden doğru olana **D**, yanlış olana **Y** yazarsak nasıl bir görüntü oluşur?

- A)

D
D
Y
D

 B)

Y
Y
D
Y

 C)

Y
D
Y
D

 D)

D
Y
Y
D



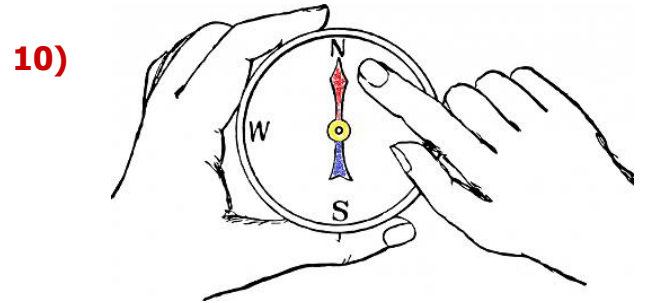
Yukarıdaki **Türkiye** haritasında ok ile gösterilen şehirler ülkemizin hangi yönlerindedir?

- 2 1
- A) Güneydoğu – Kuzeybatı
 B) Kuzeydoğu – Güneydoğu
 C) Güneybatı – Kuzeybatı
 D) Kuzeydoğu – Güneybatı



Güneşin **batış** yönüne arkasını dönen birinin sol kolu hangi yönü gösterir?

- A) Kuzey B) Doğu
 C) Batı D) Güney



Pusula **yatay** olarak tutulduğunda kırmızı renkli ucun gösterdiği yöne dönersem park solumda, eczane ise sağımda kalmaktadır. Buna göre eczane bulunduğum yerin hangi yönünde kalmaktadır?

- A) Batı B) Doğu
 C) Kuzey D) Güney

11) Pusula ile ilgili aşağıda verilen bilgilerden hangisi yanlıştır?

- A) Sağlıklı bir yön tayini yapmak için pusula düz bir zemine konulmalıdır.
 B) Kullanım esnasında pusulaya yakın mıknatis bulunmamalıdır.
 C) Pusula yatay olarak tutulduğunda renkli uç güneyi gösterir.
 D) Pusula metal eşyalardan uzak tutulmalıdır.