

1) Yarım saat kaç dakika eder?

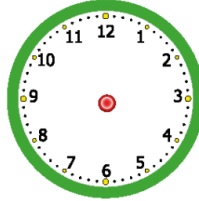
- A) 15
- B) 30
- C) 60

2) Yanda verilen saatten tam üç saat sonra saat kaç olur?



- A) 8.00
- B) 9.00
- C) 6.00

3) Yanda verilen saatin 05.00 olması için akrep ve yelkovan nerede olmalıdır?




- A) Akrep 5,yelkovan 12'nin üstünde
- B) Akrep 12,yelkovan 4'ün üstünde
- C) Akrep ve yelkovan 12'nin üstünde

4) Yanda verilen saatten iki saat önce saat kaç idi?



- A) 10.00
- B) 09.00
- C) 08.00

5)



Saatinizi öğleden sonra saat sekize ayarlayınız.

Hangi öğrenci saatini doğru ayarlamıştır?

- A) 3
- B) 2
- C) 1

6)

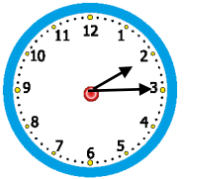
Saat sekiz ile on arası canlı dersim var.



Zeynep kaç saat canlı ders yapmıştır?

- A) 3 saat
- B) 1 saat
- C) 2 saat

7) Yanda verilen saatten yarım saat sonra saat kaç olur?



- A) 2.45
- B) 2.30
- C) 2.15

8) Yanda verilen saatten 15 dakika sonra saat kaç olur?

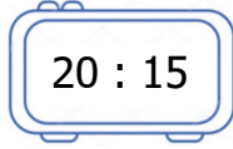


- A) Saat on iki on beş
- B) Saat on iki
- C) Saat on bir otuz

9) Aşağıda verilen saatlerden hangisi öğleden sonra 1'e ayarlanmıştır?

- A) 01:00
- B) 13:00
- C) 22:00

10) Yandaki saatin okunuşu aşağıdakilerden hangisi olamaz?



- A) Öğleden önce sekiz on beş
- B) Öğleden sonra sekiz on beş
- C) Öğleden sonra sekiz çeyrek

11) Yanda verilen saati 05.30'a nasıl ayarlamalıyız?



- A) Akrep 3 ile 4'ün tam ortasına, yelkovan ise 6'nın üzerine gelmelidir.
- B) Akrep 5 ile 6'nın tam ortasına, yelkovan ise 6'nın üzerine gelmelidir.
- C) Akrep 5 ile 6'nın tam ortasına, yelkovan ise 5'in üzerine gelmelidir.

12)



11:00



15:15



06:00



Yukarıdaki analog ve dijital saatlerden aynı zamanı gösteren saat hangisidir?

- A)
- B)
- C)

13)

01:45

İkiye çeyrek var.



03:15

İkiyi çeyrek geçiyor.



02:30

Üçe çeyrek var.



Yukarıdaki saat ve okunuş eşleştirmelerinden hangisi doğrudur?

- A)
- B)
- C)

14) Aşağıdaki bilgilerden hangisi doğrudur?

- A) 07.00, öğleden önceki bir zamandır.
- B) Bir saatte 30 dakika vardır.
- C) 09.00, öğleden sonraki bir zamandır.

15) Aşağıdaki saatlerden hangisi öğleden önceki zamanı gösterir?

- A) Saat 16.00
- B) Saat yirmi bir on beş
- C) Saat 10.30