

Zaman Ölçme - Saatler

1.






Yukarıdaki saatin okunuşu aşağıdakilerden hangisidir?

- A) Saat 10'u 20 geçiyor.
- B) Saat 9'u 4 geçiyor.
- C) Saat 11'e 20 var.

2.



Yukarıdaki saatin okunuşunun dijital saatle gösterimi aşağıdakilerden hangisidir?

- A) 
- B) 
- C) 

3. Emine'nin çok sevdiği çizgi film akşam saat 19.30'da başlayacak.

Çizgi filmin başlama saatini gösteren saat aşağıdakilerden hangisidir?

A)



B)



C)



4.



Yukarıdaki saatin okunuşu aşağıdakilerden hangisi olamaz?

- A) Saat 11.10'dur.
- B) Saat 23.10'dur.
- C) Saat 12'ye 10 var.

Zaman Ölçme - Saatler

5.



Yukarıdaki saat, yarım saat sonra kaç gösterir?

A)



B)



C)



6.



Yukarıdaki dijital saatin analog saat üzerinde gösterimi hangisidir?

A)



B)



C)



7. Fırat sabah yedi elli beşte uyanı.

Fırat'ın uyanıđı zamanı gösteren saat hangisidir?



A)



B)



C)



8. Aşağıdaki dijital saat okunuşlarından hangisi yanlıştır?

A)



Saat ikiyi çeyrek geçiyor.

B)



Saat on bire çeyrek var.

C)



Saat altıya çeyrek var.