

1. Aşağıdakilerden hangisi çıkarma işlemi ile ilgili bir ifade değildir?

A) Azalma

B) Fark

C) Toplam

2. Masanın üzerindeki elmalar-
dan her çocuk birer tane
alırsa masanın üzerinde kaç
elma kalır?

A) 9

B) 8

C) 7




3. Tabaktaki 9 armudun 6'sı alınırsa tabakta
kaç armut kalır?

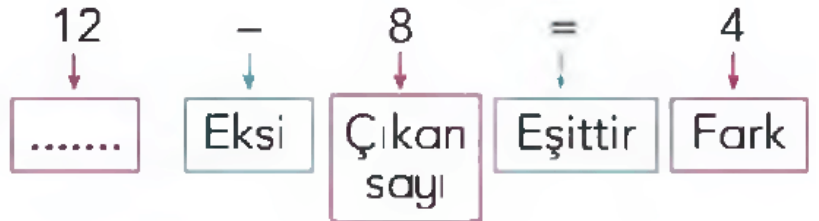
A) 3

B) 4

C) 5



4. Yandaki boş kutuya
aşağıdakilerden han-
gisi yazılmalıdır?



A) Sonuç

B) Toplanan sayı

C) Eksilen sayı

5. Sonucu 4 olmayan işlem hangisidir?

A) $16 - 11$

B) $8 - 4$

C) $18 - 14$

6.



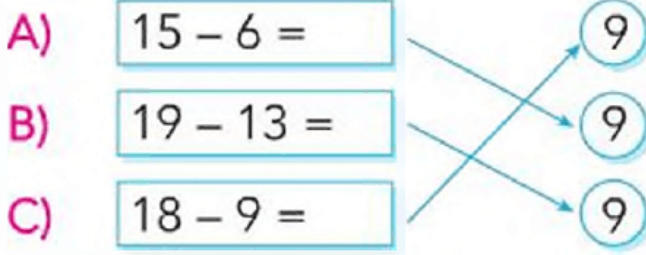
Yukarıda otomobillerle gösterilen çıkarma işlemi aşağıdaki-
lerden hangisidir?

A) $4 - 6 = 2$

B) $10 - 4 = 6$

C) $10 - 6 = 4$

7. Aşağıdaki eşleştirmelerden hangisi yanlıştır?



8. Aşağıdaki işlemlerin hangisinin sonucuna 6 yazılırsa işlem yanlıştır?

A) $15 - 9 =$

B) $9 - 3 =$

C) $18 - 14 =$

9. Bir baloncu, elinde bulunan 17 balonun 8'ini sattı.
Baloncunun kaç balonu kaldı?



10. Bir kutuda 12 çikolata vardı. Kutudan 5 çikolata alınırsa ku-
tuda kaç çikolata kalır?

A) 5

B) 6

C) 7