

1. Yanda görülen buzdolabı hangi geometrik cisme benzer?

A) Küp

B) Küre

C) Prizma



2. Aşağıdakilerden hangisi küreye benzemez?



3. Hangisi küpe benzemez?



4.



Yukarıdaki şekillerden kaç tanesi silindire benzer?

A) 3

B) 4

C) 5

5. Dondurma külahı hangi geometrik cisme benzer?

A) Silindir




B) Koni

C) Küre







6. Yandaki cismin eşi aşağıdakilerden hangisidir?



7. Aşağıdaki eşleştirmelerden hangisi yanlıştır?

- A)  → Prizma
- B)  → Silindir
- C)  → Küp

8. Aşağıdaki eşleştirmelerden hangisi yanlıştır?

- A)  → 
- B)  → 
- C)  → 

9. ve 10. soruları aşağıdaki resme göre yanıtlayınız.



9. Yukarıdaki resimde kızlar kızlarla, erkekler erkeklerle eşleşirse geriye kaç kız kalır?

- A) 1 B) 2 C) 3

10. Spor yapmak için ikişerli sıra olunursa aşağıdakilerden hangisi yanlış olur?

- A) İkişerli sıra olunursa 1 sıra olabilir.
- B) İkişerli sıra olunursa 1 kız artabilir.
- C) İkişerli sıra olunursa 1 erkek artabilir.

www.supersoru.com

Cevaplar :

1)C, 2)B, 3)C, 4)A, 5)B, 6)A, 7)B, 8)B, 9)A, 10)A,