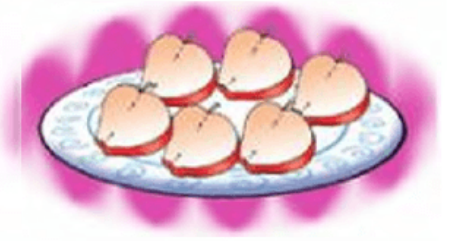


1. "Tabakta 6 yarım elma var. 6 yarım elma bütün elma eder." cümlesinde boş bırakılan yere hangi sayı yazılmalıdır?



A) 2

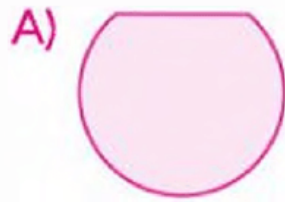
B) 3

C) 4

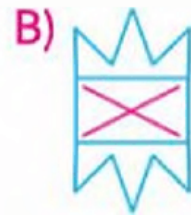
2. Hangisi yarım ekmeği ifade eder?



3. Yandaki geometrik şekil iki eş parçaya bölünürse hangisi elde edilmez?



4. Yanda yarısı verilmiş olan şeklin tamamı hangisidir?



5. Yandaki pastalar kaç yarım pasta eder?



A) 6

B) 7

C) 8

6.





Yukarıdaki ay bardaklarının iindeki yarım ay, ka dolu bardak ay yapar?

- A) 4 B) 5 C) 6

7. Annem, pişirilmiş 6 yumurtayı her tabađa yarımşar olarak koydu.

Annem ka tabađa yumurta koymuştur?

- A) 8 B) 10 C) 12



8.

Yukarıdaki kâğıtlardan ka yarım kâğıt elde edilir?

- A) 4 B) 5 C) 10

9. Her gn iki buuk ekmek tketilen bir ailede, bir haftada ka ekmek tketilir?

- A) 14 ekmek B) 18 buuk ekmek C) 17 buuk ekmek

10. Selahattin, elindeki 7 misketi arkadaşı Yunus'a gstererek "Misketlerimin yarısı 7 tane ise tamamı ka tanedir?" diye sordu.

Selahattin'in sorusuna Yunus'un yanıtı aşıđıdakilerden hangisi olmalıdır?

- A) 14 B) 15 C) 16