


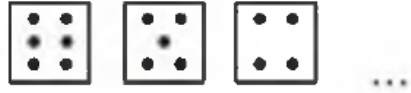
1.





Yukarıdaki örüntüde boş bırakılan yere hangi nesne gelmelidir?



2.



Yukarıdaki örüntüde boş bırakılan yere hangisi gelmelidir?



3.

Aşağıdakilerden hangisi bir örüntü değildir?



4.



Yukarıdaki örüntüde "?" yerine hangisi gelmelidir?



5.



Yukarıdaki örüntüde boş bilyelerin üzerine aşağıdakilerden hangileri yazılmalıdır?

A) 40 ve 80

B) 30 ve 40

C) 40 ve 70

6.



Yukarıdaki çiçeklerin oluşturduğu örüntü ile aynı kurala sahip örüntü hangisidir?

A) 2 2 3 3 2 2

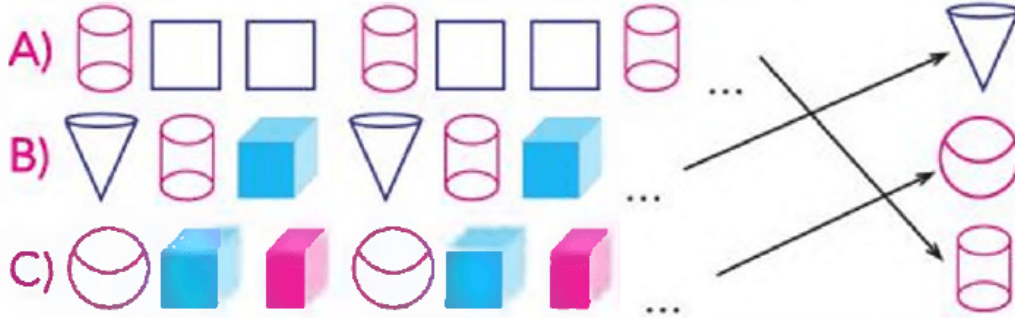
B)  $\Delta$   $\bullet$   $\square$   $\square$ 

C) Köpek-İnek-Eşek

7.

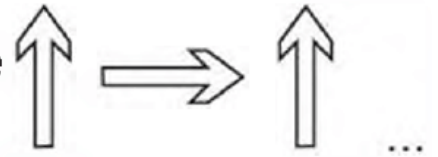
Aşağıdaki örüntülerde bir sonra gelecek olan şekiller eşleştirilmiştir.

Eşleştirmelerden hangisi yanlıştır?



8.

Yandaki örüntüde boş bırakılan yere hangi şekil gelmelidir?

A)  $\rightarrow$ B)  $\leftarrow$ C)  $\downarrow$ 

9.

Yandaki süslemede hangi şekil ku-  
lanılmamıştır?

A)

B)

C)



1)B, 2)A, 3)B, 4)B, 5)C, 6)C, 7)A, 8)A, 9)B,