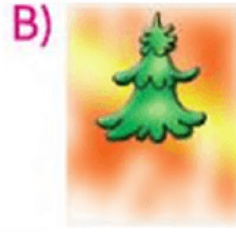



1. En uzun ağaç hangisidir?



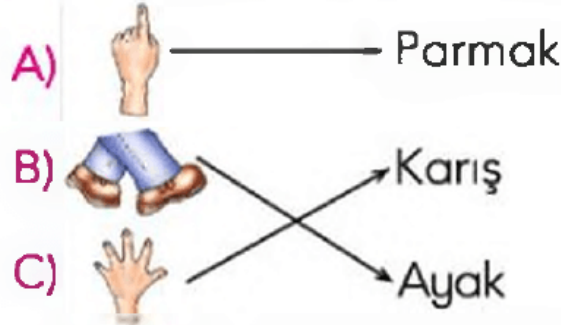
2. En kısa çocuk hangisidir?



3. Defterimizin uzunluğunu aşağıdakilerin hangisiyle ölçmemiz uygun olmaz?

- A) Parmak ve karışımızla  
B) Kalem ve ataşla  
C) Adımla ve kulaçla

4. Aşağıdaki eşleştirmelerden hangisi yanlıştır?



5. Boya kalemimin boyu 6 parmaktır. Defterimin eni ise 2 boya kalemi uzunluğundadır.

Defterimin eni kaç parmak uzunluğundadır?

- A) 10 B) 11 C) 12



3 karış

5 karış

4 karış

Yukarıdaki atkılardan uzundan kısaya doğru sıralanışında renkleri nasıl olur?

- A) Kırmızı, sarı, mavi
- B) Kırmızı, mavi, sarı
- C) Sarı, mavi, kırmızı

7. Sınıfımızın uzunluğunu Gizem 8 adım 3 ayak, Ufuk 7 adım, Yağmur ise 9 adım 4 ayak olarak ölçmüşlerdir.

Bu ölçümde adımı en uzun olan kimdir?

- A) Ufuk
- B) Yağmur
- C) Gizem

8. Benim bir karışım 14 santimetre, Selin'ininki ise 11 santimetre uzunluğundadır.

Hangimizin karışı daha kısadır?

- A) Benim
- B) Selin'in
- C) İkimizinki de eşit uzunluktadır.

9.



Yukarıdaki öğrencileri kısıdan uzuna doğru sıralarsak ikinci öğrenci kim olur?

- A) İrem
- B) Erdem
- C) Selma

Cevaplar :

1)C, 2)A, 3)C, 4)B, 5)C, 6)B, 7)A, 8)B, 9)A,