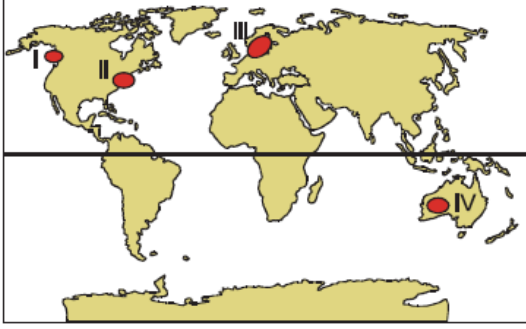


1. Bir yerde ulaşımın gelişmesi sanayi, turizm, ticaret gibi ekonomik etkinlikleri artırır. Artan ekonomik faaliyetler için duyulan iş gücü gereksinimi de orada nüfusun yoğunlaşmasına neden olur.



Buna göre, yer şekillerinin ulaşım etkisi düşünüldüğünde yukarıdaki haritada işaretli alanlardan hangilerinde ulaşımına bağlı olarak nüfusun yoğun olduğu söylenemez?

- A) I ve II      B) I ve IV      C) II ve III  
D) II ve IV      E) III ve IV

2. Yeryüzünde yükseltinin fazla olduğu yerler genel olarak az nüfuslanmıştır.

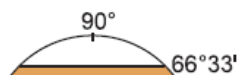
**Bu durumun temel nedeni aşağıdakilerden hangisidir?**

- A) Yağışın azalması  
B) Toprağın verimsizleşmesi  
C) Bitki örtüsünün seyrekleşmesi  
D) Sıcaklığın azalması  
E) Basıncın artması

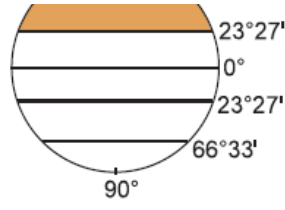
3. **Coğrafi özellikleri göz önüne alındığında aşağıdaki kara parçalarından hangisinde nüfus ve yerleşme bakımından diğerlerine göre daha elverişsiz bir durum gözlenir?**

- A) Avrupa      B) Kuzey Amerika  
C) Grönland Adası      D) Asya  
E) Avustralya

4. Şekildeki küre üzerinde dünya nüfusunun en fazla



olduğu alanlar taranmıştır.  
**Buna göre, dünya nüfusunun taralı alanda fazla olmasının temel nedeni aşağıdakilerden hangisidir?**



- A) Sıcak okyanus akıntılarının fazla olması – Yükseltinin fazla olması
- B) Yağış miktarının fazla olması – Sıcaklık farkının az olması
- C) Karaların fazla olması – Ilıman iklimin yaşanması
- D) Yüzey şekillerinin sade olması – Karstik arazinin yaygın olması
- E) Dağların doğu–batı yönde uzanması – Yağış rejiminin düzensiz olması

5. **Aşağıdaki yerlerden hangisi Kuzey Yarımküre'deki yoğun nüfuslu yerler arasında gösterilemez?**

- A) Kanada'nın kuzey kıyıları
- B) Kuzeybatı Avrupa
- C) Muson Asya'sı
- D) Nil deltası
- E) ABD' nin doğu kıyıları

6. I. Yer şekilleri  
II. Ulaşım imkanları  
III. Su kaynakları  
IV. Sanayi  
V. İklim özellikleri

**Yukarıda verilen nüfusun dağılışını etkileyen faktörlerden hangileri doğal faktörler içinde yer almaz?**

- A) Yalnız II
- B) Yalnız IV
- C) I ve III
- D) II ve IV
- E) III ve V

7. **Orta Kuşak'ta, denizden uzak ve yükseltinin fazla olduğu bir bölgede;**

- I. nüfus yoğunluğunun az olması

- II. hidroelektrik enerji potansiyelinin fazla olması
  - III. yıllık sıcaklık farkının az olması
  - IV. tarım ürünü çeşidinin az olması
- gibi özelliklerden hangileri genellikle görülemez?**

- A) Yalnız I      B) Yalnız II      C) Yalnız III  
D) I ve II      E) III ve IV

**8. Aşağıda verilen;**

- I. su kaynakları
- II. turizm
- III. sanayi

**gibi faktörlerden hangileri bir yerin nüfuslanmasında etkili olan doğal koşullar arasındadır?**

- A) Yalnız I      B) Yalnız II      C) Yalnız III  
D) I ve II      E) II ve III

- 9. I. ABD'de nüfusun daha çok doğuda toplanması**  
**II. Batı Avrupa'nın yoğun nüfuslanması**  
**III. Rusya'nın kuzeyinde nüfusun çok seyrek olması**  
**Yukarıda verilen bilgilerden hangileri beşeri faktörlerin nüfus dağılışına etkileri ile açıklanamaz?**

- A) Yalnız I      B) Yalnız II      C) Yalnız III  
D) I ve II      E) II ve III

- 10. I. Büyük Sahra**  
**II. Himalayalar**

Yukarıda Dünya üzerinde nüfusun seyrek olduğu bazı yerler verilmiştir.

**Bu merkezlerde yerleşmeyi olumsuz etkileyen faktörler aşağıdaki seçeneklerden hangisinde doğru verilmiştir?**

- I              II      
A) Kuraklık      Yükselti  
B) Yer şekilleri      Yükselti

- C) Bataklıklar Kuraklık  
D) Yükselti Kuraklık  
E) Kuraklık Bataklık

11. Aşağıdaki tablolarla kıtaların, dünya nüfusu içindeki payları ve nüfus artış hızları gösterilmiştir.

Kıta	Dünya Nüfusu içindeki payı %	Nüfus Artış Hızı ‰
Asya	58	27
Avrupa	13	3
Afrika	14	30
Amerika	14	18
Okyanusya	1	5
Antarktika	–	–

**Buna göre, aşağıdakilerden hangisine sadece bu tabloya bakılarak ulaşamaz?**

- A) Nüfus artışı en hızlı olan kıta, Afrika'dır.  
B) En fazla nüfusa sahip olan kıta, Asya'dır.  
C) Yerleşme ve nüfuslanmanın olmadığı kıta, Antarktika'dır.  
D) Kırsal nüfus oranı en yüksek olan kıta, Okyanusya'dır.  
E) Nüfus artış hızı en yavaş olan kıta, Avrupa'dır.

[www.supersoru.com](http://www.supersoru.com)

Cevaplar :

1)B, 2)D, 3)C, 4)C, 5)A, 6)D, 7)C, 8)A, 9)C, 10)A, 11)D,