

1. Doğumların ölümlerden fazla olması doğal nüfus artışına neden olur. Ülkemizde yıllık nüfus artışı binde 13'tür.



Buna göre, yukarıdaki harita üzerinde işaretli yerlerden hangisinde doğal nüfus artışı ülkemizden, daha yüksektir?

- A) I B) II C) III D) IV E) V

2. Doğumların ölümlerden fazla olmasıyla meydana gelen doğal nüfus artış hızı gelişmiş ülkelerde daha düşüktür.

Ülke	Doğum oranı (%)	Ölüm oranı (%)
Japonya	12	8
Meksika	17	6
Fransa	13	10
Hindistan	31	10
Kenya	47	10

Buna göre, yukarıdaki tabloda doğum ve ölüm oranları verilen ülkelerin nüfus artış hızları dikkate alındığında hangisinin daha gelişmiş olduğu söylenebilir?

- A) Japonya B) Meksika C) Fransa
D) Hindistan E) Kenya

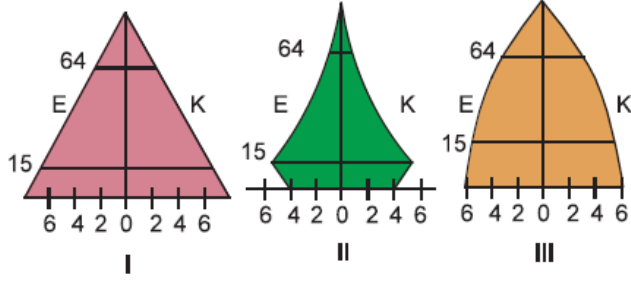
3. Aşağıdaki tabloda beş farklı ülkede çalışan nüfusun tarım, hizmet ve sanayi sektörlerindeki dağılım oranları verilmiştir.

Ülkeler	Tarım(%)	Hizmet(%)	Sanayi(%)
I	68,5	16,0	15,5
II	12,1	48,9	39
III	40,8	38,5	20,7
IV	24,5	45,0	30,5
V	50,1	30,9	19,0

Buna göre, hangi ülkede genç nüfus oranı en azdır?

- A) I B) II C) III D) IV E) V

4.



Yukarıda üç ülkeye ait yaş piramidleri verilmiştir. **Bu ülkelerin gelişme düzeyleri dikkate alındığında; olgun nüfus oranının fazla olandan az olana doğru sıralanışı aşağıdakilerden hangisidir?**

- A) I, II ve III B) I, III ve II C) II, III ve I
D) III, I ve II E) III, II ve I

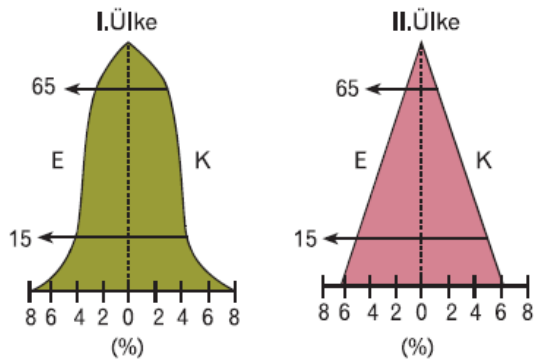
5. Yandaki tabloda beş ülkenin toplam nüfusları içerisinde yaşlı nüfuslarının oranları verilmiştir.

Ülke	Yaşlı Nüfus oranı (%)
I	19
II	18
III	17
IV	15
V	13

Bu ülkelerden hangilerinin gelişmişlik düzeyinin en ileri ve en geri olduğu söylenebilir?

- A) I ve V B) II ve IV C) III ve IV
D) V ve II E) IV ve I

6. Aşağıdaki grafikler, iki ülkede nüfusun yaş gruplarına göre dağılımını göstermektedir.



Grafiklerdeki bilgilere göre, aşağıdakilerden hangisine ulaşamaz?

- A) I. ülkede kişi başına düşen milli gelir daha fazladır.
B) II. ülkede bağımlı nüfus oranı daha fazladır.

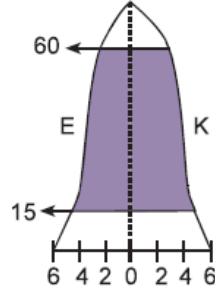
5) ... ülkesi başına düşen milli gelir daha fazladır.

C) Ülkelerin nüfus miktarları birbirine eşittir.

D) I. ülkede yaşlı nüfus oranı daha fazladır.

E) II. ülkede işsizlik oranı daha fazladır.

7. Nüfus piramidi yandaki gibi olan bir ülke için aşağıdakilerden hangisi söylenemez?



A) Kalkınmasını tamamlamamıştır.

B) Doğum oranları son zamanlarda artmıştır.

C) İhracat gelirleri fazladır.

D) Yaşlı nüfus oranı yüksektir.

E) Kişi başına düşen milli gelir fazladır.

8. Bir ülkede yaşlı nüfusun fazla olması o ülkenin gelişmiş olduğunun kanıtıdır.

Buna göre, aşağıdakilerden hangisi bir ülkede yaşlı nüfusun fazla olduğunun kanıtı olarak gösterilebilir?

A) Endüstri gelişmiştir.

B) Okuryazar oranı azdır.

C) Tarımda çalışan nüfus fazladır.

D) Alt yapı ve gecekondulaşma sorunları vardır.

E) Kişi başına düşen milli gelir oldukça azdır.

9. Aşağıdaki özelliklerden hangisinin bir ülkenin gelişmişlik derecesini ifade ettiği söylenemez?

A) Eğitim ve okuryazarlık durumu

B) Faal nüfusun sektörel dağılışı

C) Ortaöğretimdeki öğrenci sayısı

D) Kentsel ve kırsal nüfus oranları

E) Ortalama yaşam süresi

10. I. Nüfus artış hızı

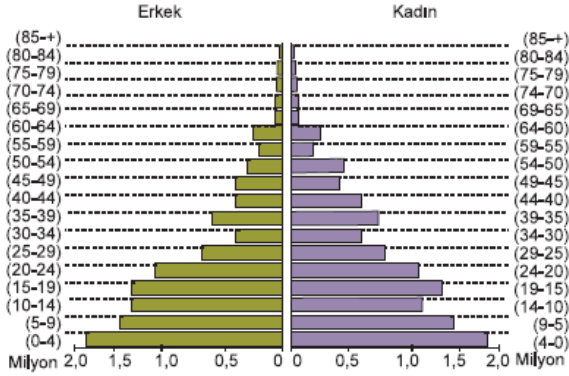
II. Çalışan nüfusun meslek gruplarına göre dağılışı

- III. Yönetim biçimi
- IV. Kırsal ve kentsel nüfus oranları
- V. Nüfusun eğitim durumu

Yukarıdaki özelliklerden hangisine bakılarak bir ülkenin gelişmişliği ile ilgili bir yorum yapılamaz?

- A) I B) II C) III D) IV E) V

11.



Nüfusun yaş gruplarına göre dağılışı yukarıdaki gibi olan bir ülke ile ilgili,

- I. Ekonomisi sanayiye bağlıdır
- II. Nüfus artış hızı fazladır.
- III. Demografik yatırımlar fazladır.

yargılarından hangilerine ulaşamaz?

- A) Yalnız I B) Yalnız II C) Yalnız III
D) I ve II E) I ve III

12. Bir ülkede doğurganlık oranı hızla artıyorsa; nüfus piramidi kenarları içe dönük üçgene benzer.

Buna göre;

- I. Hollanda
- II. Meksika
- III. Fransa

gibi ülkelerden hangilerinin piramidi kesinlikle içe dönük üçgene benzemez?

- A) Yalnız I B) Yalnız II C) Yalnız III
D) I ve III E) II ve III

Cevaplar :

1)D, 2)C, 3)B, 4)E, 5)A, 6)C, 7)A, 8)A, 9)C, 10)C, 11)A, 12)D,