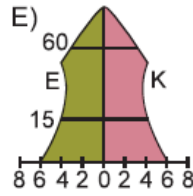
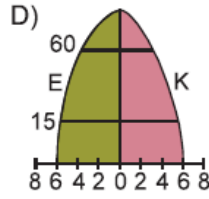
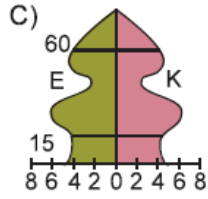
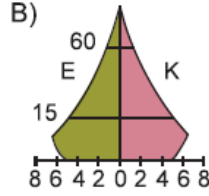
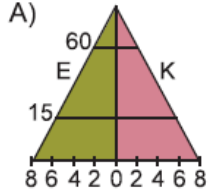
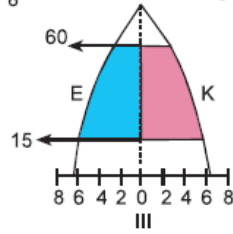
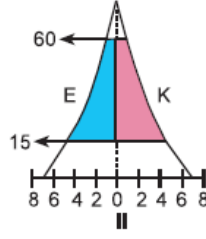
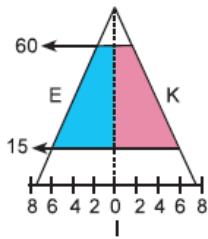


1. Üçüncül faaliyetler pazarlama, turizm, eğitim, sağlık, bankacılık, ulaşım gibi hizmetlerin ticari yönünü içine alır.

**Bu hizmetlerin geliştiği alanların özellikleri dikkate alındığında, üçüncül faaliyetlerin aşağıda nüfus piramitleri verilen ülkelerden hangisinde en az geliştiği söylenebilir?**



2.



Yukarıda üç ülkeye ait nüfus piramitleri verilmiştir. **Piramitler incelendiğinde bu ülkeler ile ilgili aşağıda verilen yargılardan hangisinin doğru olduğu söylenemez?**

- A) I. ülkede doğum ve ölüm oranları yüksektir.  
B) II. ülkede yaşlı nüfus oranı en yüksektir.  
C) III. ülkede doğum oranları en düşüktür.  
D) I. ülkede doğum oranları III. ülkeden fazladır.  
E) Genç nüfus oranı en az olan III. ülkedir.
3. 15-64 yaş grubundaki çalışma çağındaki nüfusa

aktif nüfus denir.

**Çalışma çağına olup da çalışmayan nüfusun fazla olduğu bir ülke ile ilgili;**

- I. Okuryazar oranı düşüktür.
- II. Kişi başına düşen milli gelir yüksektir.
- III. Yaşam standartı düşüktür.
- IV. Doğum ve ölüm oranları düşüktür.

**gibi yargılardan hangilerine ulaşılabilir?**

- A) I ve II      B) I ve III      C) II ve III  
D) II ve IV      E) III ve IV

4. Türklerin binlerce yıl boyunca hareket halinde bulunmaları, ana yurtlarından çıkarak Dünya'nın çeşitli bölgelerine yayılmaları büyük bir tarihi oluşumdur.

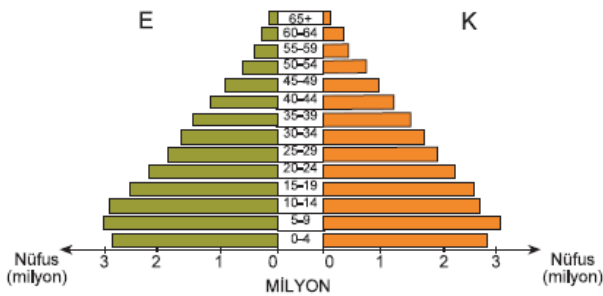
**Bu durum,**

- I. toprakların verimsizleşmesi
- II. kurak bir iklim hüküm sürmesi
- III. iş imkanlarının azalması
- IV. otlakların daralması
- V. doğum oranlarının yüksek olması

**gibi nedenlerden hangisiyle açıklanamaz?**

- A) I      B) II      C) III      D) IV      E) V

5. Nüfusun yaş ve cinsiyet dağılımını gösteren şekillerde nüfus piramidi adı verilir.



**Buna göre, yukarıda pramidi verilmiş ülkenin,**

- I. genç nüfusun yaşlı nüfusa oranı
- II. kadın nüfusun erkek nüfusa oranı
- III. çalışma çağındaki nüfusun miktarı
- IV. toplam nüfus
- V. çalışan nüfusun sektörel dağılımı

**gibi özelliklerinden hangisine ulaşamaz?**

- A) I      B) II      C) III      D) IV      E) V

6. Yandaki tabloda bir ülkede nüfusun

| Yaş | Nüfus (%) |
|-----|-----------|
|-----|-----------|

yaş gruplarına göre dağılışı verilmiştir.

|              |      |
|--------------|------|
| 0-14         | 37,8 |
| 15-64        | 57,6 |
| 65 yaş üzeri | 4,4  |

**Bu ülke ile ilgili;**

I. Olgun nüfusun ülke nüfusuna oranı yarıdan fazladır.

II. Yaşlı nüfus oranı azdır.

III. Nüfus artış hızı yüksektir.

IV. Sanayisi gelişmiştir.

**gibi özelliklerden hangisine ulaşamaz?**

- A) Yalnız II      B) Yalnız IV      C) I ve II  
D) II ve IV      E) III ve IV

7. 0-10 arasındaki yaş grubuna çocuk nüfus denir.

**Aşağıda verilen;**

I. Türkiye

II. İngiltere

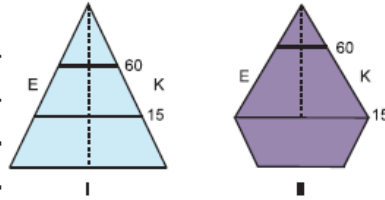
III. Nijerya

IV. İran

**gibi ülkelerden çocuk nüfus oranı en az ve en fazla olan sırasıyla aşağıdakilerden hangisidir?**

- A) II ve IV      B) II ve III      C) III ve II  
D) IV ve I      E) IV ve II

8. Nüfus piramitlerinin şekli ülkeler için kalıcı değildir. Ülkelerin nüfus yapısındaki değişiklikler piramitlerin şeklinin değişmesine neden olur.

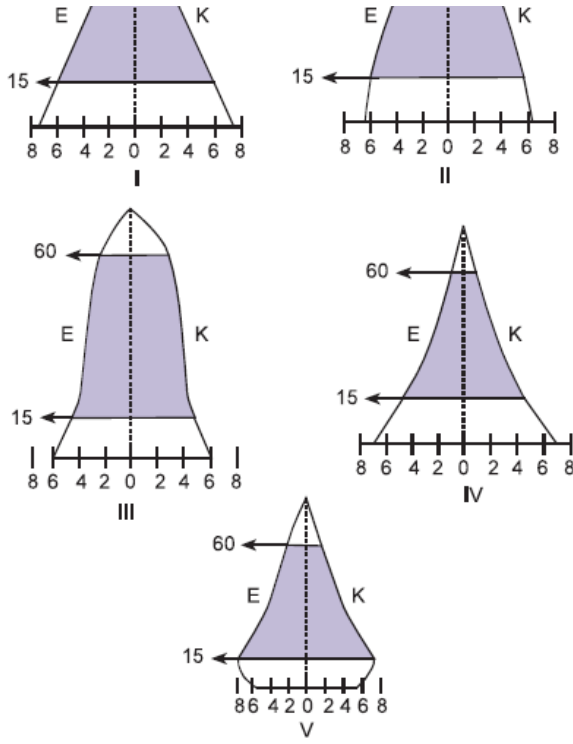


**Buna göre, nüfus piramidi 15 yıl içinde I. şekilden II. şekle gelen bir ülke için aşağıdakilerden hangisi söylenemez?**

- A) Doğum oranı azalmıştır.  
B) Nüfus artış hızı azalmıştır.  
C) Kentleşme oranı artmıştır.  
D) İşsizlik oranı artmıştır.  
E) Bebek ölümleri azalmıştır.

9. Aşağıda bazı ülkelerin nüfus piramitleri verilmiştir.





**Bu ülkelerden hangisinde geçmişte doğum oranları düşük olmasına rağmen son zamanlarda devletin de teşvikiyle artmıştır?**

- A) I      B) II      C) III      D) IV      E) V

10.

| Ülkeler | Nüfusun Yaş Gruplarına Dağılımı |           |         |
|---------|---------------------------------|-----------|---------|
|         | 0-14 (%)                        | 15-64 (%) | 65+ (%) |
| I       | 15                              | 65        | 20      |
| II      | 35                              | 55        | 10      |
| III     | 20                              | 60        | 20      |

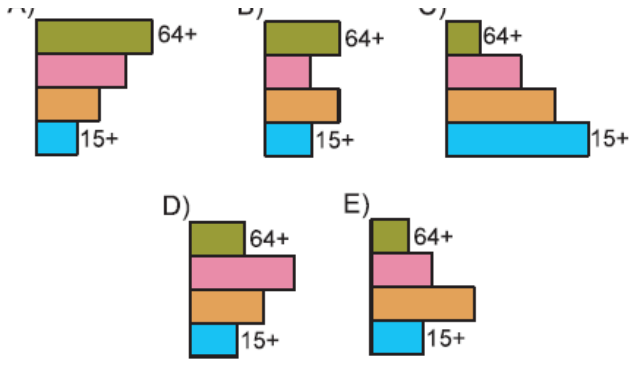
Yukarıdaki tabloda üç ülkedeki nüfusun yaş gruplarına göre dağılımı gösterilmiştir.

**Buna göre, ülkelerle ilgili olarak aşağıdaki sonuçlardan hangisine ulaşamaz?**

- A) II. ülkede tarımsal nüfus oranı en fazladır.  
 B) I ve III. ülkelerin yaşlı nüfus miktarları eşittir.  
 C) Olgun nüfus oranı en yüksek olan ülkenin genç nüfus oranı en düşüktür.  
 D) I. ülkede nüfus artış hızı en azdır.  
 E) II. ülke en az gelişmiştir.

11. **Yargı:** Gelişmiş ülkelerde yaşlı nüfus oranı fazladır. **Yukarıda verilen yargıdan yararlanılarak aşağıdaki grafiklerden hangisinde gelişmişlik düzeyinin daha fazla olduğu söylenebilir?**

- A)      B)      C)



12. Genç nüfus oranının yüksek olduğu ülkeler genellikle az gelişmiş iken düşük olduğu ülkeler çok gelişmiştir.

|   | Ülkeler    | 0-14 yaş grubu |
|---|------------|----------------|
| 1 | İngiltere  | % 20           |
| 2 | Fransa     | % 22           |
| 3 | Yunanistan | % 22           |
| 4 | İran       | % 44           |
| 5 | Belçika    | % 25           |

Buna göre, yukarıdaki tabloda verilen ülkelerden hangisinde

- bölgeler arasında göçün en fazla,
- Okuryazar oranının en az,
- ortalama yaşam süresinin en kısa olduğu söylenebilir?

- A) 1    B) 2    C) 3    D) 4    E) 5

13. Yukarıda nüfus piramidi verilen ülke I. konumdan II. konuma geçmiştir.

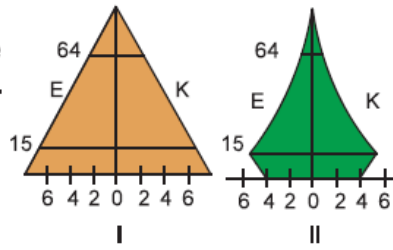
**Bu ülke ile ilgili;**

I. Yaşlı nüfus oranı artmıştır.

II. Genç nüfus oranı artmıştır.


III. Gelişme göstermiştir.

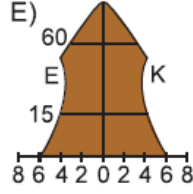
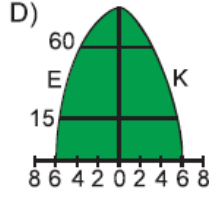
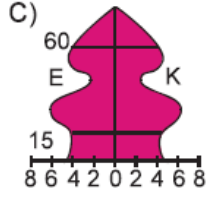
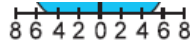
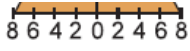
**bilgilerinden hangilerinin doğruluğuna ulaşılabilir?**



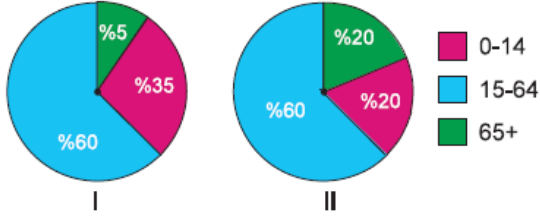
- A) Yalnız I    B) Yalnız II    C) I ve III  
D) II ve III    E) I, II ve III

14. Genç nüfus oranı hızla azalan bir ülkenin nüfus piramidi aşağıdakilerden hangisidir?





15. Yaş grupları bir ülkedeki nüfusun yapısı ve doğurganlık oranını açıkça gösterir.



**Buna göre, yukarıda geniş yaş gruplarına nüfusun dağılış oranlarının gösterildiği ülkelerle ilgili aşağıdakilerden hangisi söylenemez?**

- A) I numaralı ülkede eğitim, sağlık, beslenme, vb. sorunlar yaşanmaktadır.
- B) II numaralı ülkede okuryazar oranı daha yüksektir.
- C) I numaralı ülkede doğum oranları daha düşüktür.
- D) II numaralı ülkede nüfus artış hızı daha düşüktür.
- E) I numaralı ülkede yaşlı nüfus oranı daha düşüktür.

[www.supersoru.com](http://www.supersoru.com)

Cevaplar :

1)A, 2)B, 3)B, 4)E, 5)E, 6)B, 7)B, 8)D, 9)C, 10)B, 11)A, 12)D, 13)C, 14)B, 15)C,