

1. Akarsular tarafından derin vadilerle yarılmış düzlüklere plato denir. Platolar çeşitli yükseltilerde bulunurlar.

Ülkemizdeki platolardan;

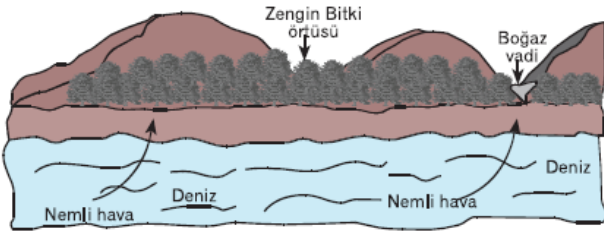
- I. Haymana
- II. Obruk
- III. Çatalca - Kocaeli
- IV. Erzurum - Kars

gibi örneklerden hangisinin yükseltisinin en az, hangisinin yükseltisinin en fazla olduğu söylenebilir?

Yükseltisi En Az Yükseltisi En Fazla

- | | | |
|----|-----|-----|
| A) | I | II |
| B) | II | III |
| C) | III | IV |
| D) | IV | I |
| E) | IV | III |

2.



Yukarıdaki şekilde verilen bilgilere dayanarak aşağıdakilerden hangisine ulaşamaz?

- A) Batı ve Doğu Karadeniz kıyıları boyunca görülür
 - B) Dağlar kıyıya paralel uzanır.
 - C) Yağış miktarı fazladır.
 - D) Tarım alanları geniştir.
 - E) Delta oluşumu zordur.
3. Türkiye'de yer alan başlıca sıradağ ve volkanik dağların araştırılması için bir arazi çalışması düzenleniyor. Bu çalışmada, Kuzey Anadolu dağlarından başlayarak, Ağrı ve Erciyes dağları ile Batı Toroslar'a gidilecektir.
- Buna göre, yukarıdaki arazi çalışmasında sırasıyla gidilen bölgeler aşağıdakilerden hangisinde gösterilmiştir?**

- A) Ege - Akdeniz - Marmara - Doğu Anadolu
- B) Karadeniz - Doğu Anadolu - İç Anadolu - Akdeniz
- C) Marmara - Ege - Akdeniz - İç Anadolu
- D) Doğu Anadolu - Karadeniz - İç Anadolu - Ege
- E) Akdeniz - Ege - İç Anadolu - Karadeniz

4.



Yukarıdaki Türkiye haritasında Batı Anadolu dağlarının uzanış doğrultusu gösterildiği gibi olsaydı;

- I. Ege kıyıları fazla girintili çıkıntılı olmazdı.
- II. Kıyıda doğal liman, koy ve körfezler azalır.
- III. Falezler artar, kıyı plajları daralır, deniz turizminin önemi azalır.
- IV. Kıyı ile iç kesimler arasında iklim farklılıkları artardı.
- V. Kıyı ile iç kesimler arasında ulaşım imkanları artardı.

yargılarından hangisinin gerçekleşmesi beklenmez?

- A) I
- B) II
- C) III
- D) IV
- E) V

5. Ovalar, çevrelerine göre alçakta bulunan ve akarsular tarafından derince yarılmamış olan düzlüklerdir. Konum, denize uzaklık, biçim ve yükselti bakımından ovalar çeşitli özellikler gösterir.

Buna göre, ülkemizdeki ovalarla ilgili aşağıdaki yargılardan hangisinin doğruluğuna ulaşamaz?

- A) Kıyı ve iç bölge ovaları olarak iki ana bölüme ayrılırlar.
- B) İklim koşulları genellikle tarıma elverişlidir.
- C) Kayak ve kış sporları için elverişli alanlardır.
- D) Genellikle nüfusun yoğun olduğu yerlerdir.
- E) Tarım ve hayvancılığın en fazla geliştiği alanlardır.

6 İzmir'den Adana'ya ara tatil için giden Neslihan otobüs-

6. İzmir den Ağrı ya da taarruflu giden Resimhan otobüs-
le yaptığı yolculuğu boyunca;
- Sıradağlar ve volkanik dağlar ile
 - Çöküntü ve yüksek ovalarla
 - Vadilerle parçalanmış platolarla
 - Yükseltinin artmasıyla
 - Yol boyunca delta ovalarıyla karşılaşmıştır.

**Gözlemlerinden hangisinin kesinlikle doğru oldu-
ğu söylenemez?**

- A) I B) II C) III D) IV E) V

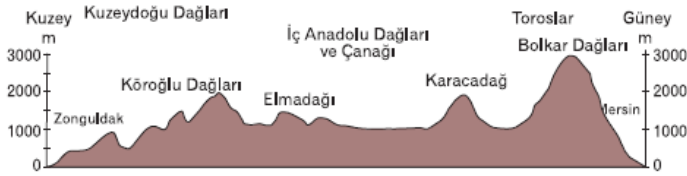
7.



Yukarıdaki Türkiye haritasında gösterilen Antalya ilinden aynı günde oklar yönünde hareket eden coğrafya öğretmenleri ulaştıkları yerlerde aşağıdaki özelliklerden hangisinin benzer olduğunu söyleyebileceklerdir?

- Dağların yükseltilerinin
- Yıllık yağış miktarlarının
- Dağların uzanış doğrultularının
- Nüfus yoğunluğunun
- Yetiştirilen tarım ürünlerinin

8.



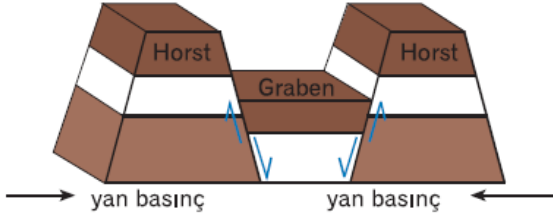
Ülkemizin Zonguldak-Mersin arasındaki profiline bakılarak aşağıdakilerden hangisine ulaşamaz?

- İç Anadolu çanağı kuzey ve güneyden yüksek dağlarla çevrilidir.
- Deniz etkisi yüksek dağlar nedeniyle İç Anadolu'da pek hissedilmez.
- İç Anadolu'nun ortalama yükseltisi 500 metrenin altındadır.
- Bolkar dağlarının yüksekliği Köroğlu dağlarından

daha fazladır.

- E) Karacadağ ve Köroğlu dağlarının yükseklikleri birbirine yakındır.

9.



Yukarıdaki oluşum ülkemizde aşağıdakilerden hangi sisteme en iyi örnektir?

- A) Aydın, Boz dağları, Gediz grabeni
B) Malatya, Bey dağları, Elazığ grabeni
C) Rize, Giresun dağları, Kelkit grabeni
D) Toros, Tahtalı dağları, Çukurova grabeni
E) Kayış, Çamlıca tepeleri, Çatalca grabeni

www.supersonu.com

Cevaplar :

1)C, 2)D, 3)B, 4)E, 5)C, 6)E, 7)C, 8)C, 9)A,