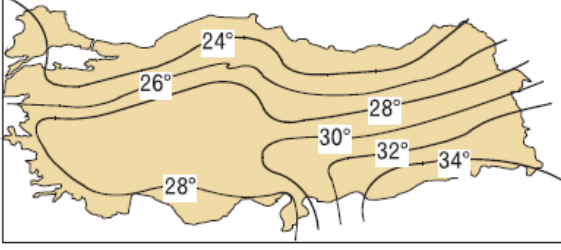


1. Aşağıda Türkiye Temmuz Ayı indirgenmiş sıcaklık haritası verilmiştir.



Buna göre;

1. Türkiye'de yıllık sıcaklık ortalamalarına
2. Türkiye'de Temmuz ayında en sıcak yerlere
3. Türkiye kıyılarında Temmuz ayı sıcaklık değerlerine
4. Türkiye'de Temmuz ayında en sıcak yerlerle en soğuk yerler arasındaki farka
5. Aynı sıcaklık değerlerine sahip olan yerlere ulaşılabilir.

Bilgilerinden hangisinin doğru olduğu söylenemez?

- A) 1 B) 2 C) 3 D) 4 E) 5

2. Türkiye, mevsimlere göre etki alanları ve şiddetleri değişen çeşitli basınç merkezlerinin etkisinde kalmaktadır.

Bunlardan;

- I. Asor yüksek basıncı yıl boyu
- II. İzlanda alçak basıncı kışın
- III. Sibiryada alçak basıncı yazın
- IV. Basra alçak basıncı yazın etkilidir.

Bilgilerinden hangilerinin doğruluğu savunulamaz?

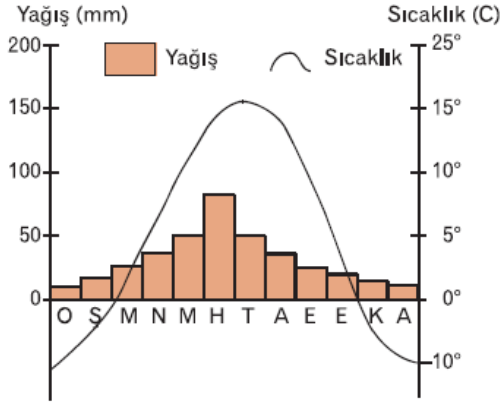
- A) Yalnız II B) Yalnız III C) I ve II
D) II ve III E) III ve IV

3. Türkiye'de kışın karasallığın etkisiyle Doğu Anadolu'dan iç kesimlere doğru sokulan bir yüksek basınç alanı meydana gelir. Buna karşılık Karadeniz ve Akdeniz üzerinde basınç düşüktür. Bu durum hava şartları ve rüzgar yönleri üzerinde belirleyici rol oynar.

Buna göre, kış mevsimi boyunca ülkemiz genelinde hakim rüzgar yönünün nasıl olması beklenir?

- A) Kuzeyden güneye doğru
- B) Batıdan doğuya doğru
- C) İç kesimlerden kıyılara doğru
- D) Güneyden kuzeye doğru
- E) Kıyılardan iç kesimlere doğru

4.



Yukarıdaki yağış ve sıcaklık grafiğinin aşağıdaki kentlerden hangisine ait olduğu söylenebilir?

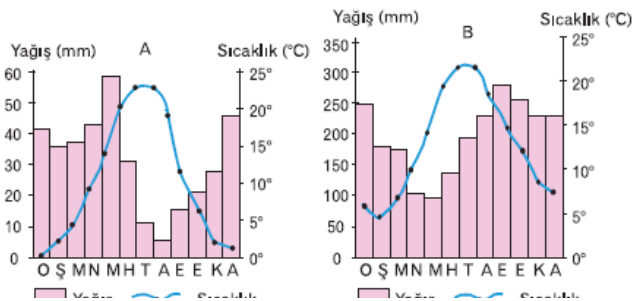
- A) Antalya
- B) Bursa
- C) Erzurum
- D) Konya
- E) Kütahya

5. İstanbul'da yatılı okulda okuyan iki arkadaşın Mesud, her yaz köyüne gittiğinde fındık toplarken; Yunus Emre pamuk toplamaktadır.

Buna göre, Mesud ve Yunus Emre'nin köylerinde aşağıdaki iklimlerden hangileri yaşanmaktadır?

- A) Karadeniz ve Akdeniz iklimleri
- B) Akdeniz ve Step iklimleri
- C) Sert Karasal ve Karadeniz iklimleri
- D) Step ve Akdeniz iklimleri
- E) Sert karasal ve Akdeniz iklimleri

6.



Yukarıda, Türkiye'de yer alan iki merkezin aylara göre sıcaklık ve yağış grafiklerine bakılarak aşağıdakilerden hangisine ulaşamaz?

- A) A merkezinde kışlar daha sert geçer.
- B) B merkezinde en soğuk ay Şubat'tır.
- C) B merkezinde yıllık yağış miktarı daha fazladır.
- D) A merkezinde yıllık sıcaklık farkları daha azdır.
- E) B merkezinde kurak mevsim yoktur.

7. Yaz tatilini geçirmek üzere Antalya'dan deniz yoluyla Fethiye, Marmaris, Çeşme ve Ayvalık'tan geçerek Çanakkale'ye giden Cihan, geminin uğradığı yerlerde sürekli maki bitki türleriyle karşılaşmıştır.

Cihan'ın yaşadığı bu durumun temel nedeni aşağıdakilerden hangisiyle açıklanabilir?

- A) Bitkilerin deniz kıyısında yer almalarıyla
- B) Yol boyunca Akdeniz iklim özelliklerinin görülmesiyle
- C) Dağların doğu batı yönünde uzanmasıyla
- D) Ülkemizin Orta Kuşak'ta yer almasıyla
- E) Geminin aynı enlem boyunca hareket etmesiyle

8. Ali ve Orhan kışların ılık ve yağışlı, yazların sıcak ve kurak geçtiği kentlerimizden birinde yaşamaktadır.

	Yaşadıkları kent	Ortalama Sıcaklık		Yıllık Yağış Miktarı (mm)
		Ocak	Temmuz	
I	Antalya	10,0	28,2	1052
II	Trabzon	7,2	23,2	836
III	Ankara	-0,2	23,3	380
IV	Erzurum	-12,0	17,0	510
V	Sivas	-6	20,0	450

Buna göre, Ali ve Orhan'ın yaşadıkları kente ait bilgilerin yukarıdakilerden hangisinde gösterildiği söylenebilir?

- A) I B) II C) III D) IV E) V

9. Bu iklim tipinde, yazlar ılık ve yağışlı geçip buharlaşma şiddeti azdır. Yıllık yağış ortalaması 1000 mm'nin üzerindedir.

Buna göre, yukarıdaki özellikler aşağıdaki iklim

Buna göre, yukarıdaki özellikler aşağıdaki iklim tiplerinden hangisine aittir?

- A) Karadeniz iklimi
- B) Karasal step iklimi
- C) Sert karasal iklim
- D) Akdeniz iklimi
- E) Marmara geçiş iklimi

10. İstanbul'da öğrenim gören bir grup öğrenci yaz tatilini geçirmek üzere Giresun, Rize, Trabzon ile Ordu kentlerine gittiler ve bu illerde gördükleri bitki ve tarım ürünleri türlerinin birbirine benzediğini gözlemlediler.

Bu durum, yukarıdaki illerin hangi özelliğinin benzerliğinden kaynaklanmaktadır?

- A) Deniz kıyısında yer almalarının
- B) İklim özelliklerinin
- C) Ekvator'a göre konumlarının
- D) Dağların uzanış doğrultularının
- E) Yıllık yağış miktarlarının

11. Rize'den Samsun'a gelen Aslı, Samsun'da yağış miktarının azaldığını ve en fazla yağışın sonbahardan kış mevsimine geçtiği gözlemlenmiştir.

Bu durumun nedenini coğrafya öğretmeninden öğrenmek isteyen Aslı'nın aşağıdaki cevaplardan hangisini alması beklenemez?

- A) Dağların, hakim rüzgar yönüne dik olup olmaması
- B) Dağların kıyıya paralel uzanıp uzanmaması
- C) Dağların kıyıya yakınlığı ve yükseltisi
- D) Nemli hava kütlelerinin dağlara çarpıp yağış bırakması
- E) Şehirlerin Ekvator'a göre konumlarının farklı olması