

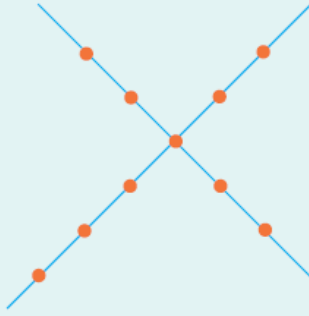
1. 8 doğrunun kesişmesiyle en çok kaç tane nokta oluşur?

- A) 16 B) 20 C) 24 D) 28 E) 36

2. Üç tanesi birbirine paralel 7 tane doğrunun kesişmesiyle en çok kaç nokta oluşur?

- A) 24 B) 21 C) 18 D) 16 E) 12

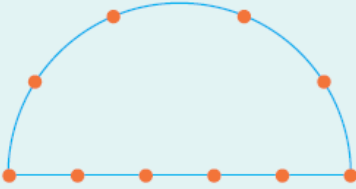
3.



Köşeleri yukarıdaki noktalar olan kaç üçgen çizilebilir?

- A) 100 B) 90 C) 84 D) 72 E) 60

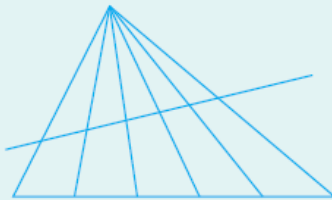
4.



Köşeleri yandaki noktalar olan kaç üçgen çizilebilir?

- A) 60 B) 72 C) 84 D) 90 E) 100

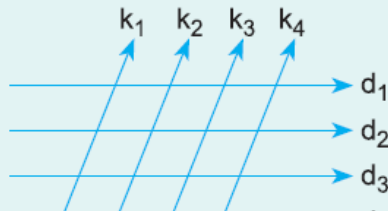
5.



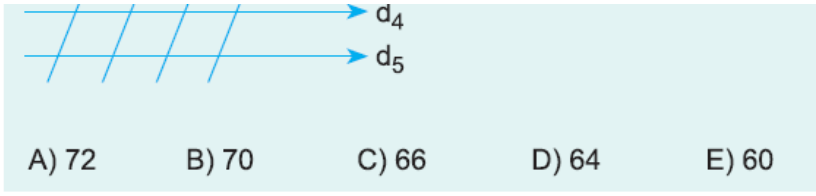
Yandaki şekilde kaç tane üçgen vardır?

- A) 24 B) 30 C) 32 D) 34 E) 36

6.



$d_1 \parallel d_2 \parallel d_3 \parallel d_4 \parallel d_5$ ve $k_1 \parallel k_2 \parallel k_3 \parallel k_4$ olmak üzere yanda kaç tane paralel kenar vardır?



www.supersoru.com

Cevaplar :

1)D, 2)C, 3)B, 4)E, 5)B, 6)E,