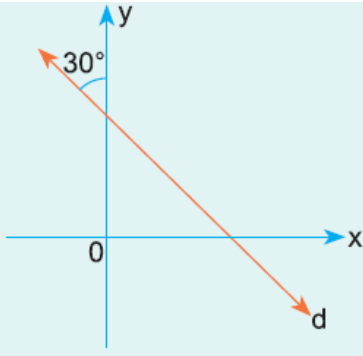


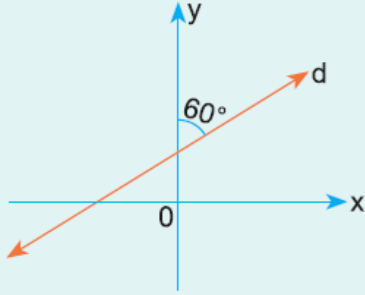
1.



Şekildeki d doğrusunun eğim açısı kaç derecedir?

- A) 30 B) 60 C) 120 D) 135 E) 150

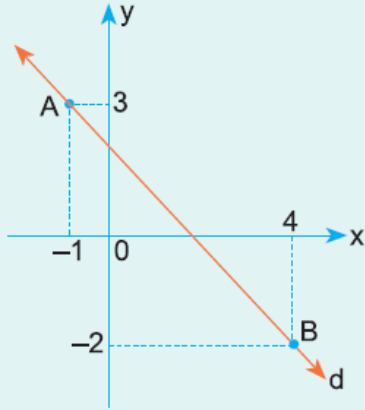
2.



Şekildeki d doğrusunun eğimi kaçtır?

- A) 30 B) 60 C) 120 D) 135 E) 150

3.



A ve B noktalarından geçen şekildeki d doğrusunun eğimi kaçtır?

- A) -1 B) $-\frac{5}{4}$ C) $-\frac{4}{5}$ D) $\frac{5}{4}$ E) 1

4. A(2, 6) ve B(4, a) noktalarından geçen AB doğrusunun eğimi 2 dir.

Buna göre, K(a, 5) ve L($\frac{a}{2}$, 10) noktalarından geçen KL doğrusunun eğimi kaçtır?

A) -2

B) -1

C) $-\frac{1}{2}$

D) $\frac{1}{2}$

E) 1

www.supersoru.com

Cevaplar :

1)C, 2)A, 3)A, 4)B,