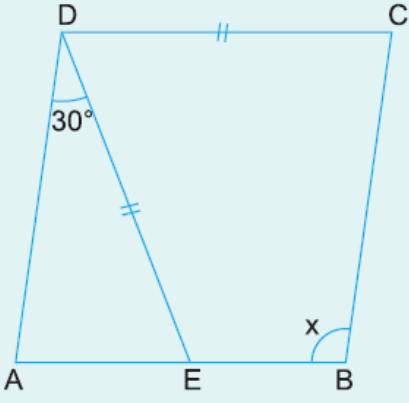


1.

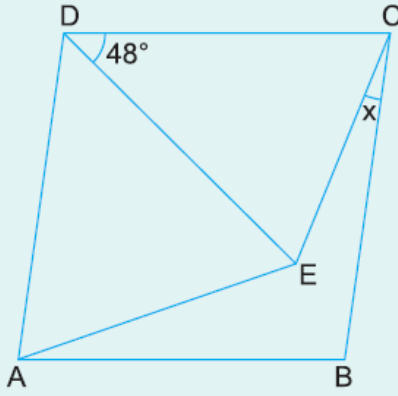


ABCD bir eşkenar
dörtgen
 $m(\widehat{ADE}) = 30^\circ$
 $|DE| = |DC|$

Yukarıdaki verilere göre, $m(\widehat{ABC}) = x$ kaç derecedir?

- A) 105 B) 110 C) 115 D) 120 E) 125

2.

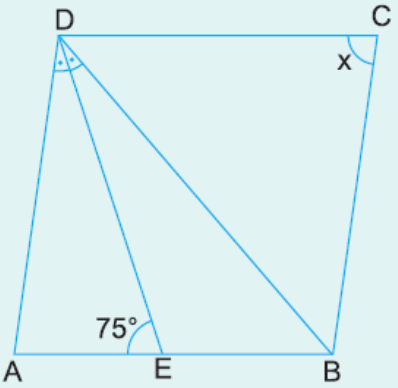


ABCD bir eşkenar dörtgen
ADE eşkenar üçgen,
 $m(\widehat{EDC}) = 48^\circ$

Yukarıdaki verilere göre, $m(\widehat{ECB}) = x$ kaç derecedir?

- A) 24 B) 16 C) 12 D) 8 E) 6

3.



ABCD bir eşkenar dörtgen
[DE] açıortay
 $m(\widehat{DEA}) = 75^\circ$

Yukarıdaki verilere göre, $m(\widehat{DCB}) = x$ kaç derecedir?

- A) 85 B) 80 C) 75 D) 70 E) 65

4.



ABCD bir eşkenar dörtgen
D, B, E doğrusal
 $m(\widehat{DAB}) = 68^\circ$

$|AB| = |BE|$

68°

A B E

Yukarıdaki verilere göre, $m(\widehat{BCE}) = x$ kaç derecedir?

A) 24 B) 26 C) 28 D) 30 E) 32

www.supersoru.com

Cevaplar :

1)A, 2)E, 3)B, 4)C,