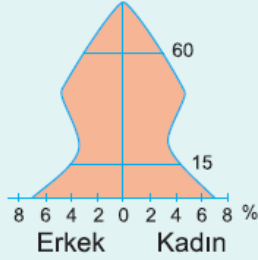


1. Dünyadaki bazı ülkelerde, nüfus artış hızını düşürmeye yönelik birtakım uygulamalar yapılmaktadır. Bu uygulamalar genellikle devlet eliyle yapılan kampanyalar şeklindedir. **Bu bilgiye göre, aşağıdaki ülkelerden hangisinde yukarıdaki gibi bir durum görülür?**

A) Türkiye                      B) Fransa                      C) Belçika  
D) Çin                              E) Danimarka

2. Yanda, bir ülkenin nüfusunun yaş gruplarına göre dağılımını gösteren piramit verilmiştir. **Piramit incelendiğinde bu ülkenin nüfusu ile ilgili aşağıdakilerden hangisi söylenemez?**

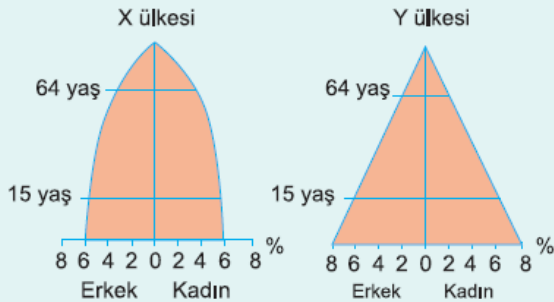


- A) Son 15-20 yıldır doğum oranı artmaktadır.  
B) Nüfusun cinsiyet yapısı dengelidir.  
C) Yaşlı nüfus yaş ilerledikçe azalmaktadır.  
D) Doğum oranları önce azalmış sonra artmıştır.  
E) 15 yaş nüfus oranı 60 yaş nüfus oranından azdır.

3. Fransa'nın nüfusunun ikiye katlanma süresi Mısır'ın nüfusunun ikiye katlanma süresinden daha uzundur. **Bu durumun nedeni aşağıdakilerden hangisidir?**

- A) Mısır'ın nüfus artış hızının düşük olması  
B) Fransa'nın nüfus yoğunluğunun fazla olması  
C) Mısır'ın doğum oranının Fransa'dan daha yüksek olması  
D) Fransa'da nüfus dağılımının düzensiz olması  
E) Mısır'da cinsiyet dengesinin olmaması

4. Aşağıda, iki farklı ülkenin nüfus piramitleri verilmiştir.

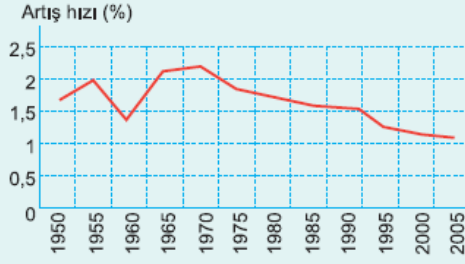


- Bu iki ülke nüfusu ile ilgili aşağıdaki yargılardan hangisi doğrudur?**

- A) İki ülkenin de nüfus artış hızları aynıdır  
B) İki ülke de aynı nüfus politikasını uygulamaktadır.  
C) Y ülkesinin nüfus artış hızı daha düşüktür.

- D) X ülkesi Ekvatora daha yakındır.  
E) X ülkesindeki 0-15 yaş arası nüfus oranı Y ülkesinden azdır.

5. Yandaki grafikte Dünya nüfusunun 1950-2005 yılları arasındaki artış hızları verilmiştir. Bu grafiğe göre, aşağıdaki yargılardan hangisi söylenemez?



- A) En az nüfus artışı 2005'de olmuştur.  
B) Dünya nüfusu 1970'den 1990'a kadar sürekli olarak azalmıştır.  
C) En fazla artış 1970'de gerçekleşmiştir.  
D) 1950'deki artış 1960'dan fazladır.  
E) Dünya nüfus artışında dalgalanmalar yaşanmıştır.
6. Hollanda, Belçika ve Fransa gibi gelişmiş Avrupa ülkeleri yıllardır bir yandan vatandaşlarını çocuk sahibi olmaya teşvik etmeye çalışırken diğer yandan özellikle bazı Afrika asıllı yabancılara çalışma ve oturma izni vermektedir. Avrupa ülkelerin bu gibi uygulamalar yapmalarının temel amacı aşağıdakilerden hangisinde verilmiştir?
- A) Nüfusun nitelik ve niceliğini iyileştirmek  
B) Vergi gelirlerini arttırmak  
C) Kırsal nüfusu arttırmak  
D) Köyden kente olan göçleri azaltmak  
E) Nüfus artış hızını düşürmek

7. Aşağıdaki tabloda İngiltere ve Hindistan'ın yıllara göre nüfus miktarları verilmiştir.

Yıllar	İNGİLTERE	HİNDİSTAN
	Nüfus	Nüfus
1960	43.983.300	443.000.000
1970	45.870.100	553.000.000
1990	48.067.300	838.114.000
2000	49.138.831	1.004.591.054
2010	50.762.900	1.134.303.000

Bu tabloya göre aşağıdaki yorumlardan hangisi doğrudur?

- A) 1960'da İngiltere'nin nüfus artışı Hindistan'dan fazladır.  
B) 1970-1980 arası her iki ülke de aynı miktarda artmıştır.  
C) Verilen yıllar içinde iki ülkenin nüfusu sürekli artmıştır.  
D) 2010'da Hindistan'ın nüfusu İngiltere'nin 10 katıdır.  
E) Hindistan'dan İngiltere'ye işçi göçleri yaşanmıştır.

8. Dünya nüfusu son 40 yıldaki artma hızı ile artmaya devam ederse 2050 yılında 12 milyara 2100 yılında ise 16 milyara ulaşacak. Ancak olayın en kritik noktası şu ki dünya nüfusu aynı hızla artmıyor. Nüfus artış hızı hızla düşüyor. Kadın başına düşen çocuk sayısı Dünya da 2012 tahmini göre 2.47 ve bu rakam hızla düşüyor. Buna rağmen Afrika Kıtası'nda doğum oranı hala Dünya ortalamasının çok üzerindedir.

**Buna göre, bu durum Afrika Kıtası'nda aşağıdakilerden hangisine neden olmuştur?**

- A) Doğan nüfusa yeteri kadar kaynak ayırlamamasına
- B) Ortalama yaşam süresinin uzamasına
- C) Nüfusun ikiye katlama süresinin uzamasına
- D) Çalışan nüfusun oranının artmasına
- E) Yerleşmelerin daha çok yüksek dağlar ile deniz kıyılarına yapılmasına

9. Dünyadaki birçok ülke nüfus durumuna göre nüfus politikası uygular. Uygulanan nüfus politikaları ülkeden ülkeye farklılık gösterebilir. Bazı ülkeler ise yıllara göre değişen politikaları uygulayabilir.

**Buna göre, ülkeleri nüfus politikaları uygulamaya yönelten temel faktör aşağıdakilerden hangisinde verilmiştir?**

- A) Nüfusun fazla olan kısmının ülke dışına göç etmesini sağlamak
- B) Sanayide çalışacak işçileri yetiştirmek
- C) Ülkenin askeri gücünü arttırmak
- D) Bir yandan kalkınmayı, diğer yandan bunu destekleyecek nüfusu sağlamak
- E) Toplumun sosyolojik değişimini ve dönüşümünü sağlamak

10.

Uygulama	Nüfus artış hızını artırır.	Nüfus artış hızını azaltır.
Evlenme yaşının küçültülmesi	✓	
Doğum kontrolüyle ilgili araç gereçlerin ücretsiz dağıtılması	✓	
Doğum yapan kadınlara ücretli ve uzun süreli izin verilmesi		✓
Çok çocuklu ailelerin bazı vergilerden muaf tutulması	✓	
Çok çocuklu ailelere ev verilmesi	✓	
Çocukların masraflarının devlet tarafından karşılanması		✓

**Yukarıdaki tabloda nüfus artışı ile ilgili yapılan eşleştirmelerden kaç tanesi yanlış verilmiştir?**

- A) 1
- B) 2
- C) 3
- D) 4
- E) 5

**11.** Gelişmiş ülkelerde nüfus artış hızının düşük olması, birçok sorun ortaya çıkarmaktadır. Bu sorunlardan biri, üretim çağında olan genç nüfusun az olmasıdır. Buna karşılık sanayileşme düzeyinin yüksek olması, iş gücüne olan ihtiyacı artırmaktadır. Bu durum, başka ülkelerden göç almayı zorunlu kılmaktadır. Göç almak ise ihtiyacın üzerinde göçmen nüfusun birikmesine neden olmaktadır. Bu durumun ileri boyutlara ulaşması, gelişmiş ülkelerde de işsizliğe yol açmaktadır. Ayrıca kültürel çatışmalar ve yabancı düşmanlığı gibi sorunlar da gelişmiş ülkelerin önemli problemlerindedir. Gelişmiş ülkelerin bu konuda geliştirdikleri ve yakın zamanda yaygınlaşan bir politika ise iş gücü göçü almak yerine, iş alanlarını göç ettirmektir. Bu uygulama ile az gelişmiş ülkelere iş alanları kurulmaktadır. Böylece ucuz iş gücü ve ham madde bulunmakta, üretilenlerin pazar alanlarına ulaştırılma süresinin kısaltılması ve ulaşım maliyeti de büyük oranda düşürülmektedir. Sonuç olarak denebilir ki:

.....  
**Yukarıda verilen parça aşağıdakilerden hangisi ile tamamlanmalıdır?**

- A) Gelişmiş ülkeler göç almaya devam ettikleri sürece sanayide işgücü açığı yaşamayacaklardır.
- B) Bu uygulamalar sayesinde gelişmiş ülkeler, kâr oranlarını artırmakta, göçler önlenmekte ve az gelişmiş ülkelerin işsizlik oranı azalmaktadır.
- C) Geri kalmış ülkeler her zaman gelişmiş ülkelere muhtaç halde olacaklardır.
- D) Geri kalmış Afrika ülkelerinden gelişmiş olan Avrupa ülkelerine ister yasal isterse kaçak her zaman işçi göçü yaşanacaktır.
- E) İşçi göçünden en çok etkilenecek olan ülkeler; Kuzey Avrupa ülkeleri ile Güney Amerika ülkeleridir.

[www.supersoru.com](http://www.supersoru.com)

Cevaplar :

1)D, 2)E, 3)C, 4)E, 5)B, 6)A, 7)C, 8)A, 9)D, 10)C, 11)B,