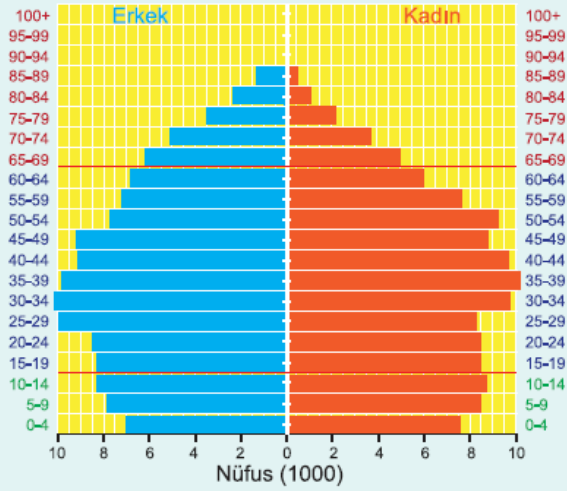
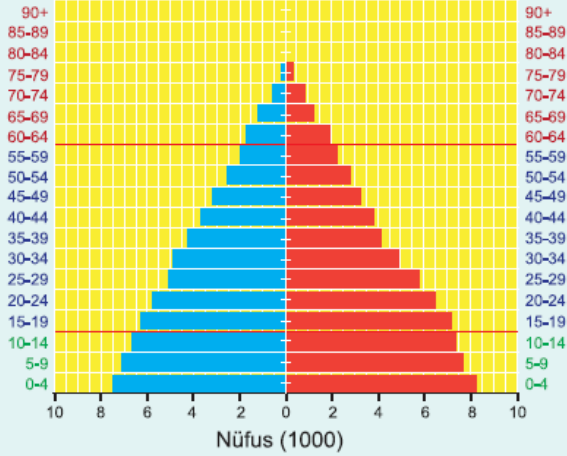


1. Aşağıdaki nüfus piramitlerinden ilki, bir ülkenin 1960 yılına ait olan nüfusunu göstermekte iken, ikinci piramit aynı ülkenin 2010 yılındaki durumunu göstermektedir.



Buna göre, bu ülke sırasıyla 1960'a kadar nasıl bir nüfus politikası, 1960-2010 yılları arasında da nasıl bir nüfus politikası uygulamış olabilir?

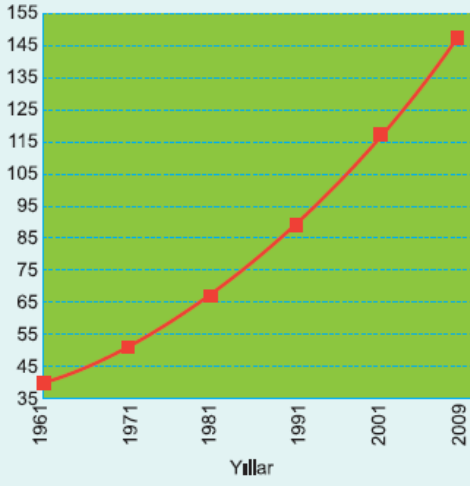
- A) Dengeleyici, arttırıcı
- B) Arttırıcı, arttırıcı
- C) Azaltıcı, arttırıcı
- D) Arttırıcı, azaltıcı
- E) Azaltıcı, azaltıcı

2. Aşağıdakilerden hangisi bir ülkede genç nüfusun fazla olduğunu göstermez?

- A) Çalışan nüfusun yaş ortalamasının düşük olması
- B) Ortalama yaşam süresinin uzun olması
- C) Doğum oranlarının yüksek olması
- D) Çocuk sayısının fazla olması
- E) Erken yaşta evliliklerin olması

3. Aşağıdaki grafik yıllara göre Nijerya'nın nüfus artışını göstermektedir.

Nüfus (milyon kişi)



Grafikten aşağıdaki bilgilerden hangisine ulaşılabılır?

- A) Nijerya'da kadın nüfus daha fazladır.
- B) Nijerya'da halkın en önemli geçim kaynağı tarımdır.
- C) Nijerya nüfusu 1961-2009 yılları arasında 3 kattan fazla artmıştır.
- D) Nijerya nüfusu bazı yıllarda azalmıştır.
- E) Nijerya nüfusunda yaşlı sayısı önemli bir yer tutmaktadır.

4. Avrupa'da bulunan bir ülkede, 1950 - 2000 yılları arasında;

- başka ülkelere gelecek işçilere ihtiyaç duyulmuş,
- kişi başına düşen milli gelir yükselmiş,
- yaşlı nüfus oranı giderek artmış,
- genç nüfus oranı düşmüştür.

Buna göre, bu Avrupa ülkesiyle ilgili aşağıdaki yargılardan hangisinin doğruluğu savunulabilir?

- A) Ülke geliştikçe nüfus artış hızı azalmıştır.
- B) Ülkenin kalkınma hızı azalmıştır.
- C) Ülkeden başka ülkelere olan göçler artmıştır.
- D) Kırsal kesimden kentlere doğru göçler yaşanmıştır.
- E) Ülke nüfusu ciddi oranda azalmıştır.

5. Birbirine komşu olan iki ülkeden;

- X ülkesinde 20-40 yaş arası nüfus hızla artmakta,
- Y ülkesinde ise 0-19 yaş arası nüfus hızla artmaktadır.

Buna göre, bu iki ülke ile ilgili olarak aşağıdakilerden hangisi söylenemez?

- A) X ülkesi yoğun şekilde göç almaktadır.
- B) Y ülkesinde doğum oranı fazladır.
- C) X ülkesinde erkek nüfus fazladır.
- D) X ülkesinde sanayi ve hizmet sektörü gelişmiştir.
- E) Y ülkesinde bağımlı nüfus oranı azdır.

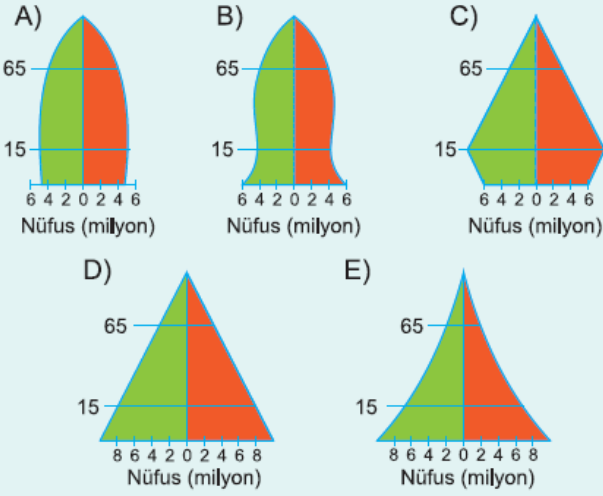
ÖZELLİKLER	Ürdün	Japonya
Genç nüfus oranı fazladır.	✓	
Nüfusu artırmaya yönelik çalışmalar yapılır.	✓	

Ortalama yaşam süresi uzundur.		✓
Kentsel nüfus oranı daha yüksektir.	✓	
Nüfus artış hızı kalkınma hızından yüksektir.		✓
Nüfus artış hızını azaltmaya çalışır.		✓
Çalışan nüfusun çoğu hizmet ve sanayi sektöründedir.		✓

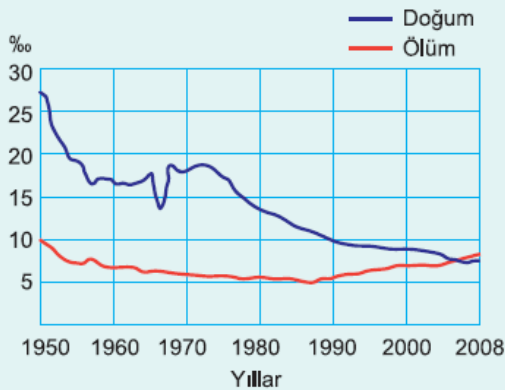
Yukarıdaki tabloda Ürdün ve Japonya ile ilgili yapılan eşleştirmelerden kaç tanesi **yanlış** verilmiştir?

- A) 1 B) 2 C) 3 D) 4 E) 5

7. Aşağıda nüfusun yaş gruplarına göre dağılımı verilen ülkelerden hangisi uyguladığı nüfus politikalarıyla son 15 yıldır doğum oranını azaltmış durumdadır?



8. Aşağıdaki grafik, Japonya'nın 1950 ile 2008 yılları arasındaki doğum ve ölüm oranlarını göstermektedir.

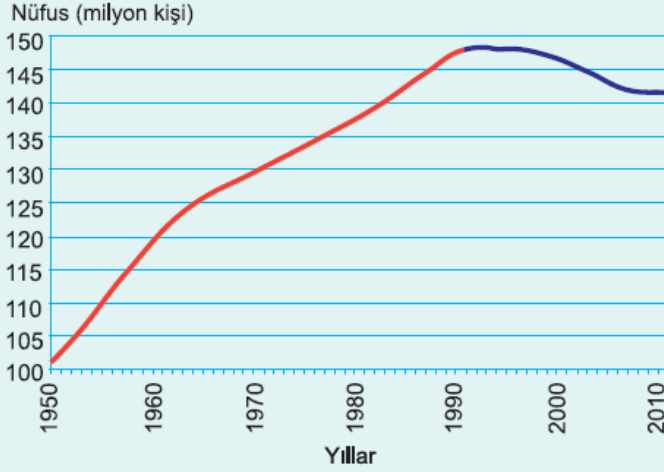


Buna göre, Japonya ile ilgili olarak aşağıdakilerden hangi-

si söylenemez?

- A) Japon nüfusu en çok 1950'de artmıştır.
- B) Japonya nüfusu sürekli artmıştır.
- C) Japonya nüfusu süratle yaşlanmaktadır.
- D) Doğum oranları ölüm oranlarına göre daha dalgalı bir seyir izlemiştir.
- E) 1950-1960 yılları arasında doğum oranı çok keskin bir şekilde düşmüştür.

9. Aşağıdaki grafik, Rusya'nın 1950 ile 2010 yılları arasındaki nüfusunu yansıtmaktadır.



Grafikten aşağıdaki bilgilerden hangisi elde edilemez?

- A) Rusya nüfusu 50 senede ikiye katlanmıştır.
- B) 1990'lı yıllarda nüfus artışı durağanlaşmıştır.
- C) Nüfus 1950-1970 yılları arasında daha hızlı artmıştır.
- D) Rusya nüfusu hiçbir zaman 150 milyon olamamıştır.
- E) Son dönemde Rusya nüfusu azalmıştır.

www.supersoru.com

Cevaplar :

1)D, 2)B, 3)C, 4)A, 5)E, 6)D, 7)C, 8)B, 9)A,