

1. Aşağıda ekonomik faaliyet türleri verilmiştir.

K Ürün ve hizmetlerin sağlanmasıdır.

L Ürün ve hizmetlerin pazarlara ulaştırılmasıdır.

M Ürün ve hizmetlerin kullanılmasıdır.

**Ekonomik faaliyet türleri ile ilgili aşağıda verilen eşleştirmelerden hangisi doğru yapılmıştır?**

	K	L	M
A)	Tüketim	Dağıtım	Üretim
B)	Tüketim	Üretim	Dağıtım
C)	Dağıtım	Üretim	Tüketim
D)	Tüketim	Üretim	Dağıtım
E)	Üretim	Dağıtım	Tüketim

2. Üretim, dağıtım ve tüketim faaliyetlerini etkileyen doğal faktörler arasında aşağıdakilerden hangisi sayılamaz?

A) Turizm faaliyetleri

B) Su kaynakları

C) Bitki örtüsü

D) İklim özellikleri

E) Yer şekilleri

3. Ulaşım, modern dünyanın en önemli faaliyetlerindedir.



**Buna göre, aşağıdakilerden hangisi doğal faktörlerin ulaşımı etkilediğine kanıt olarak gösterilemez?**

A) Türkiye'de kara ulaşımının doğu-batı yönünde daha kolay yapılması

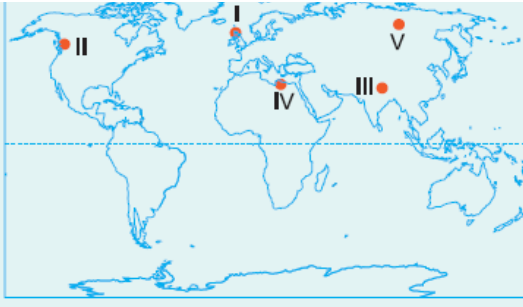
B) Karadeniz'in kıyı kesimi ile iç bölgeler arasında ulaşımın bazı geçitlerle yapılması

C) Kuzeydoğu Anadolu'da karayollarının yapım maliyetinin fazla olması

D) Karayolu yapımında tünel ve viyadük yapımına ihtiyaç duyulması

E) Türkiye'nin üç tarafı denizlerle çevrili olduğu halde ulaşım-da denizden yeterince yararlanılamaması

4. Ürün ve hizmetlerin pazarlara oradan da kullanıcıya ulaştırılmasına dağıtım adı verilir. Dağıtım, birçok faktörden etkilenir.



Buna göre, yukarıdaki haritada numaralandırılarak verilmiş bölgelerden hangilerinde dağıtımı etkileyen başlıca faktör yer şekillerinin olumsuzluğudur?

- A) I ve II                      B) I ve IV                      C) II ve III  
D) III ve IV                      E) III ve V

5. Aşağıda verilenlerden hangisi iklimin üretim faaliyetleri üzerinde etkisine örnek olarak verilemez?

- A) Çayın Rize ve çevresinde yetiştirilmesi  
B) Hurma üretiminin çöl ortamlarında daha fazla yapılması  
C) Türkiye’de en çok balığın Karadeniz’de avlanması  
D) Kahvenin Brezilya’da çok yetiştirilmesi  
E) Güney Doğu Asya’da pirinç tarımının daha fazla yapılması

6. I. Gemi yapan tesislerin ılıman iklim bölgelerinde kurulması  
II. Çiğ düşen yerlerde yolların tünellerden geçirilerek yapılması  
III. Termik santrallerin çoğunun kömür madenlerinin yakınında kurulması  
IV. Bazı limanların başka yerlere karayolu ve demiryoluyla bağlanması

Yukarıda verilenlerden hangileri, iklim koşullarının üretim, dağıtım ve tüketim faaliyetlerine etkisine örnek olarak gösterilebilir?

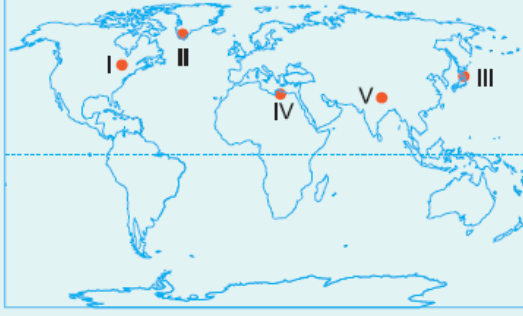
- A) Yalnız I                      B) I ve II                      C) II ve III  
D) II ve IV                      E) III ve IV

7. I. Petrol  
II. Demir-çelik  
III. Tuğla  
IV. Seramik

Yukarıda verilen sanayi kollarından hangilerinde hammadde kaynağı olarak toprak kullanılır?

- A) I ve III                      B) I ve IV                      C) II ve III  
D) II ve IV                      E) III ve IV

8. Aşağıdaki haritada bazı yerler numaralandırılarak verilmiştir.



Bu bölgelerden hangilerinde üretim, dağıtım ve tüketim sektörlerinin daha fazla geliştiği ileri sürülebilir?

- A) I ve III                      B) I ve II                      C) II ve IV  
D) III ve V                      E) IV ve V

9. Doğal faktörler ekonomik faaliyet türleri üzerinde önemli etkiye sahiptir.

**Buna göre;**

- I. gübre kullanılan tarım alanlarında verimliliğin artması,
- II. Türkiye’de Erzurum, Kars ve Ardahan yörelerinde büyükbaş hayvancılığının gelişme göstermesi,
- III. hinterlandı geniş olan limanlarda ticari faaliyetlerin daha fazla gelişmesi,
- IV. İstanbul Boğazı çevresinde balıkçılığın gelişmesi

**faaliyet türlerinden hangilerinin doğal faktörlerden etkilendiği ileri sürülebilir?**

- A) Yalnız III                      B) I ve II                      C) II ve III  
D) II ve IV                      E) III ve IV

10. Ulaşım sistemleri; üretim, dağıtım ve tüketim faaliyetleri arasında rol oynayan önemli faktörlerin başında gelir. K kenti Güney Amerika’da batı sahilinde, L Kenti ise Güney Doğu Asya’da doğu sahilinde yer almaktadır.

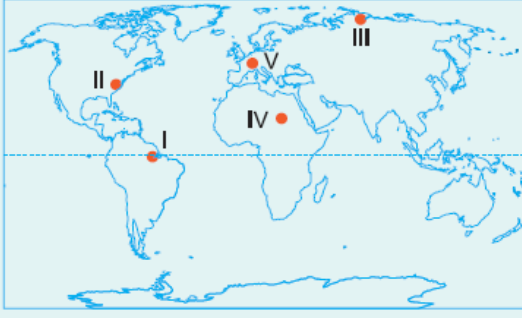
**Buna göre, bu iki kent arasında yapılan bir ticari ürün taşımacılığında;**

- I. kara yolu,
- II. deniz yolu,
- III. demir yolu,
- IV. hava yolu

**gibi ulaşım sistemlerinden hangileri kullanılamaz?**

- A) Yalnız I                      B) I ve III                      C) II ve III  
D) II ve IV                      E) III ve IV

11. Ülkelerin gelişmişlik düzeyinin artması, doğal faktörlerin ekonomik faaliyetler üzerindeki olumsuz etkilerinin azaltılmasına yol açar.



Buna göre, yukarıdaki haritada numaralandırılarak verilen yerlerden hangilerinde doğal koşulların ekonomik faaliyetler üzerindeki olumsuz etkisi **daha azdır**?

- A) Yalnız II                      B) I ve III                      C) II ve V  
D) III ve IV                      E) IV ve V

**12.** Aşağıdakilerden hangisi, üretim faaliyetleri üzerinde doğal faktörlerin belirgin bir etkisinin olduğunu **göstermez**?

- A) Ormanlık ve çayırılık alanlarda balçılık faaliyetinin daha fazla yapılması  
B) Az yağış alan yerlerde bazı ürünlerin dışarıda depolanması  
C) Gemi ve uçak üretiminin çok sıcak veya çok soğuk iklim bölgelerinde yapılmaması  
D) Ülkemiz akarsularının genelde ilkbahar mevsiminde taşkın yapıp çevrelerine zarar vermeleri  
E) Ülkemizde en çok balığın Karadeniz'de avlanması

[www.supersoru.com](http://www.supersoru.com)

Cevaplar :

1)E, 2)A, 3)E, 4)C, 5)C, 6)B, 7)E, 8)A, 9)D, 10)B, 11)C, 12)D,