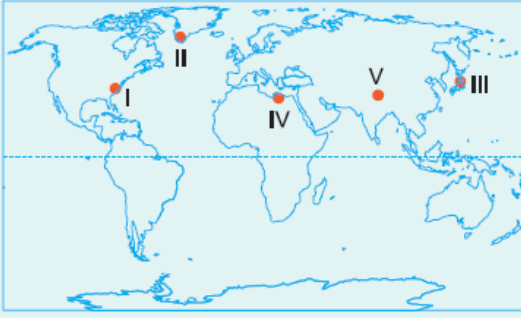


1. Aşağıdaki haritada bazı yerler numaralandırılarak verilmiştir.



Bu yerlerden hangisinde yaşayan insanların gelir seviyesi fazla olduğu için tüketim miktarı da daha fazladır?

- A) I ve III B) I ve IV C) II ve IV
D) III ve V E) IV ve V

2. Aşağıdaki resimler Hong Kong'un 1920 ile günümüzdeki durumunu göstermektedir.



Buna göre, bir yerde sanayi kuruluşlarının artması aşağıdakilerden hangisi üzerinde etkili olmaz?

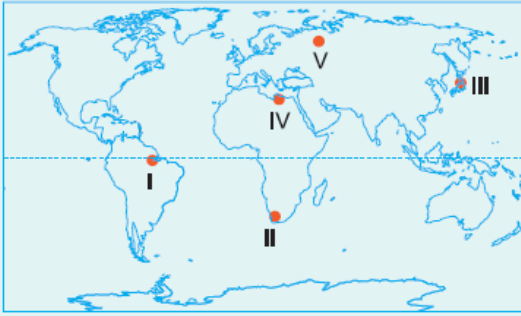
- A) Bina sayısının artmasında
B) Enerji tüketiminin fazlalaşmasında
C) Nüfusun artmasında
D) Konut ihtiyacının artmasında
E) Tarım ürünleri üretiminin artmasında

3. Bazı bölgeler arasında ulaşım faaliyetleri yoğun olarak yapılırken bazı bölgeler arasında ulaşım son derece az olabilir.
Buna göre, aşağıda verilen yerlerden hangisinde ulaşım

Buna göre, aşağıda verilen yerlerden hangisinde ulaşım faaliyetlerinin yoğun olarak yapıldığı söylenemez?

- A) Tarımsal ürün üretim ve tüketim bölgeleri arasında
- B) Hammadde üretimi bölgeleri ile sanayi bölgeleri arasında
- C) Büyük kentler ile turizm bölgeleri arasında
- D) Sanayi bölgeleri ile tenha bölgeler arasında
- E) Başkent ile büyük kentler arasında

4. Tropikal bir ağaç olan kauçuk ağacı, Türkiye'de süs bitkisi olarak yetiştirilse de tropikal bölgelerde yetişen ağaçlarda sanayide kullanılan lateks elde edildiğinden, ticari önem taşır. Kauçuk, silgi, ayakkabı tabanı, eldiven, araba lastiği gibi gündelik hayatımızda sıkça kullandığımız bir materyal olmuştur. Kahve ve muz gibi kauçuk ağacı da tarımı yapılan bitkilerden biridir.



Buna göre, yukarıdaki haritada numaralandırılan bölgelerin hangisinde kauçuk tarımı yapılmaktadır?

- A) I
- B) II
- C) III
- D) IV
- E) V

5. Çay işleyen fabrikalar genellikle hammadde kaynaklarına yakın yerlerde bulunmaktadır.

Bu durumun en önemli nedeni aşağıdakilerden hangisinde verilmiştir?

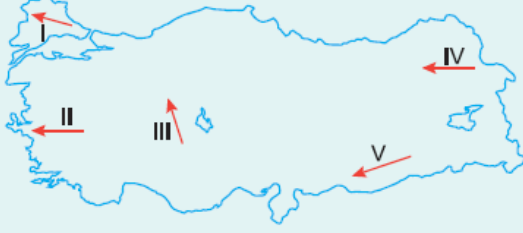
- A) Pazara yakın olmak
- B) Ürünleri bozulmadan işlemek
- C) Fazla işgücüne ihtiyaç duymamak
- D) Ürünün ihracatını sağlamak
- E) Ulaşım giderlerini azaltmak

6. Buğday, bütün dünyada ıslahı yapılmış otsu bir bitkidir. Karasal iklimi tercih eder. Buğday; un ve yem üretilmesinde kullanılan temel bir besin maddesidir. Kabuğu ayrılabilceği gibi kabuğu ile de öğütülebilir. Buğday aynı zamanda çiftlik hayvanları için bir yem maddesi olarak da yetiştirilmektedir. Hasattan sonra atık ürün olarak saman çıkar. Dünya çapında en fazla ekimi yapılan tahılların başında gelir.

Buğdayın dünya çapında çok üretilen bir ürün olmasının nedenleri arasında aşağıdakilerden hangisi söylenemez?

- A) Doğal yetiştirme alanının geniş olması
- B) Temel besin maddesi olması
- C) Yıl boyunca ürün vermesi
- D) Kurak bölgelerde sulama yapılmadan da yetiştirilmesi
- E) Tarımının kolay yapılması

7. Elektrik enerjisinin uzak mesafelere taşınması enerji nakil hatları ile gerçekleşir. Nakil hatlarının geçtiği yerlerde doğal koşullar çok önemlidir. İklim koşullarının uygun olmadığı yerlerde enerji nakil hatlarının yer altına alınması gerekmektedir.



Buna göre, iklim koşulları göz önünde bulundurulduğunda, yukarıdaki haritada numaralandırılarak gösterilen doğrultudan hangisi üzerinde yapılacak olan enerji nakil hatlarının yer altına alınması daha çok gereklidir?


- A) I
- B) II
- C) III
- D) IV
- E) V

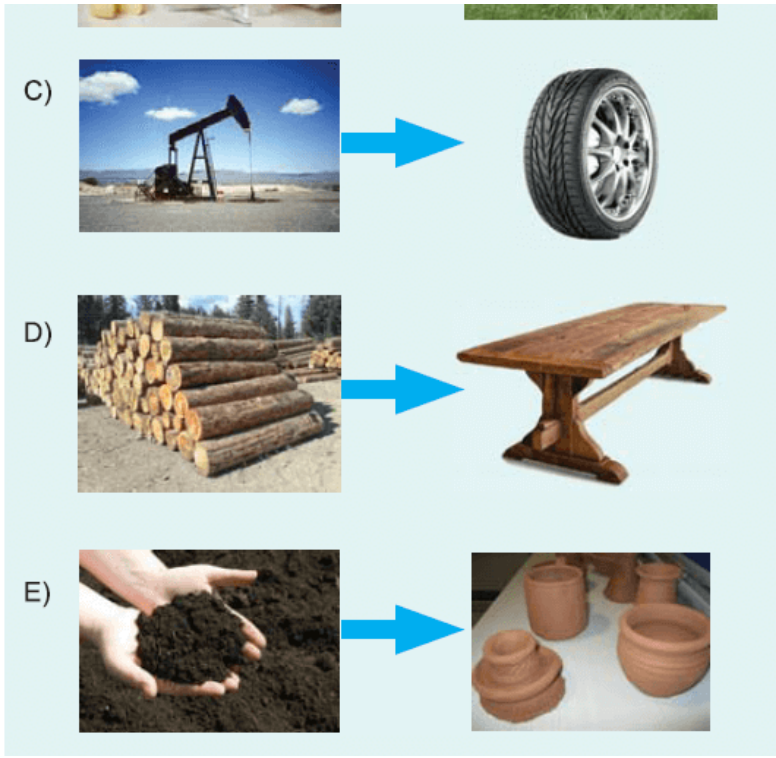
8. Bir sanayici yeni bir tuğla fabrikası kurmayı düşünmektedir. Bu girişimci ürettiği tuğlaları açık alanda depo edip masrafını azaltmak istemektedir.

Buna göre, bu sanayicinin kurmak istediği tesisin yer seçiminde aşağıdakilerden hangisine öncelikle dikkat etmelidir?

- A) Yer şekillerine
- B) Ulaşım özelliklerine
- C) İklim özelliklerine
- D) Pazara yakınlığına
- E) Enerji kaynaklarına yakınlığına

9. Aşağıdakilerden hangisinde üretim ve tüketim ilişkisi yanlış verilmiştir?





10. Türkiye bazı yıllar buğday ihraç ederken bazı yıllar da yurt dışından buğday almak zorunda kalmaktadır. Bu durumdan hem üretici hem de tüketici zarar görmektedir. **Buna göre, gerek üreticinin gerekse tüketicinin zarar görmemesi için aşağıdakilerden hangisi yapılmalıdır?**

- A) İletişim araçları kullanılarak halkın buğday tüketimi artırılmalıdır.
- B) Buğday fiyatları artırılmalıdır.
- C) Buğdaylar üretildiği yerde işlenmelidir.
- D) Buğday eken çiftçi sayısı azaltılmalıdır.
- E) Teknoloji kullanılarak üretimde istikrar sağlanmalıdır.

www.supersoru.com

Cevaplar :

1)A, 2)E, 3)D, 4)A, 5)B, 6)C, 7)D, 8)C, 9)B, 10)E,