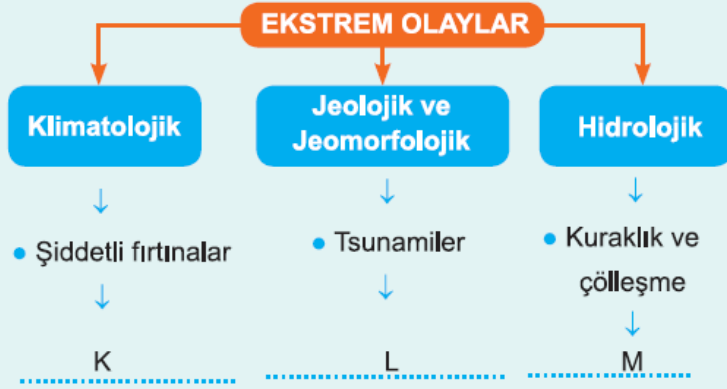


1. Aşağıdakilerden hangisi tektonik depremler sonucunda doğada meydana gelen değişimlerden biri değildir?

- A) Göl ve yer altı sularında seviye değişimleri
- B) Yer kabuğunda yarık ve çatlak oluşumu
- C) Denizde görülen deprem sonucu tsunami oluşumu
- D) Antiklinal ve senklinallerin oluşması
- E) Zemin sıvılaşması sonucu çamur akıntılarının görülmesi

2.



Yukarıda ekstrem olaylarla ilgili bir kavram haritası verilmiştir. Buna göre, K, L, M'ye aşağıdakilerden hangileri gelmelidir?

K	L	M
A) Depremler	Sel ve taşkınlar	Heyelanlar
B) Aşırı soğuklar	Çığ olayları	Volkan püskürmeleri
C) Volkan püskürmeleri	Depremler	Kütle hareketleri
D) Aşırı soğuklar	Volkan püskürmeleri	Aşırı yağışlar
E) Sel ve taşkınlar	Depremler	Erozyon

3. Türkiye'de görülen ekstrem düşük sıcaklıklarla ilgili;

- I. Balkanlar ve Doğu Anadolu üzerinden gelen soğuk hava akımları etkili olur.
- II. 30° enlemleri üzerinden gelen dinamik yüksek basınçlar sıcaklığı çok düşürür.
- III. Sibiryaya üzerinden gelen termik alçak basınç şiddetli kar yağışlarına sebep olur.

**Bilgilerinden hangileri doğrudur?**

- A) Yalnız I
- B) Yalnız II
- C) I ve II
- D) I ve III
- E) I, II ve III

4. Yağışların mevsim ve yıllık ortalamaların oldukça altına düşmesi sonucunda başlayan, yer üstü ve yer altı sularının azalması sonucunda devam eden olaylar zinciri kuraklık ortaya çıkmaktadır. Uzun süreli yüksek sıcaklıkların kuraklığa sebep olması çok görülen durumlar arasındadır.

Buna göre, aşağıdakilerden hangisi kuraklığın etkilerinden biri değildir?

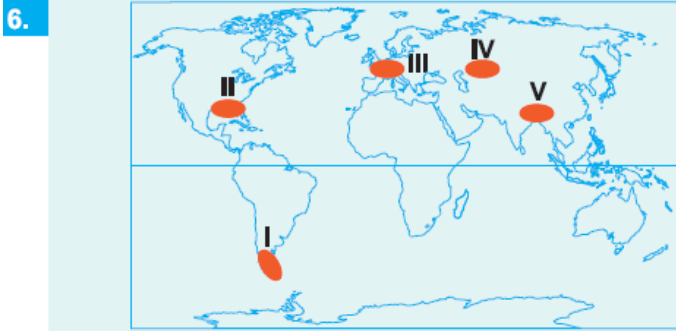
- A) Hidroelektrik üretimin azalması
- B) Doğal nedenli orman yangınlarının artması
- C) Göl ve akarsulardaki canlılarda toplu ölümlerin görülmesi
- D) Nadasa bırakılan tarım topraklarının azalması
- E) Otlakların zayıflayarak mera hayvancılığının zarar görmesi

5. I. Erzurum - Aşkale                      II. Van - Çaldıran  
III. Asya - Üst Nera                      IV. Antarktika - Vostok  
V. Kanada - Ottawa                      VI. Libya - El Aziziyah  
VII. İspanya - Madrid

"Dünya'da ölçülen en yüksek sıcaklık ..... 57,8 °C ile 13 Eylül 1922 tarihinde, en düşük sıcaklık ise ..... -89,2 °C'dir. Türkiye'de ise en düşük sıcaklık -46,4 °C ile ..... 9 Ocak 1990 tarihine aittir."

Yukarıdaki anlatımda boşluk bırakılan alanlara sırasıyla kaç numaralı yerler gelmelidir?

- A) IV - VI - I                      B) VI - V - II                      C) VI - IV - II  
D) III - IV - I                      E) VII - V - II



Ekstrem olaylar içinde yer alan şiddetli fırtına ve kasırgalar yukarıdaki harita üzerinde numaralandırılmış yerlerden hangilerinde daha sık görülür?

- A) I ve II                      B) I ve IV                      C) II ve V  
D) III ve IV                      E) III ve V

7. – Ağaçlar, bitkiler, toprak tabakası ile birlikte anakayanın bir kısmının sökülerek yamaç boyunca taşınması  
– Killi toprak tabakası ile kaya katmanlarının eğim yönünde uzanması önemli nedenlerdir.

Yukarıdaki özellikler aşağıdaki hangi ekstrem olaylara işaret etmektedir?

- A) Heyelan
- B) Depremler
- C) Tsunami
- D) Çok düşük sıcaklıklar

D) Çökme ve kayma olayları

E) Erozyon

8. Türkiye'de aşağıdaki ekstrem doğa olaylarından hangisinin yaşanma olasılığı daha azdır?

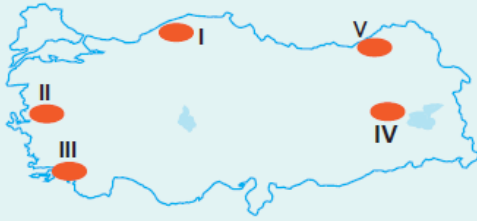
- A) Şiddetli kuraklıklar
- B) Tayfunlar
- C) Tektonik depremler
- D) Aşırı soğuklar
- E) Sel ve taşkınlar

9. Vietnam'daki Lekima tayfununda yüzlerce ev sular altında kaldı. Ülkenin orta kesiminde toprak kaymaları ve su baskınlarına neden oldu. 15 bin hektar pirinç tarlası zarar gördü. Felaketin faturası 40 milyon dolardan fazla. Tayvan'da yaşanan Krosa tayfunu ise Çin kıyılarında tropik fırtınaya dönüşerek sağanak yağışlara ve sellere neden oldu. Asya ülkelerinden Çin, Tayvan, Filipinler ve Japonya'da ağustos ayında başlayan tayfunlar yıl sonuna kadar devam ediyor.

Yukarıda ekstrem olaylardan biri olan tayfunlar hakkında aşağıdakilerden hangisine değinilmemistir?

- A) Bazı ülkelerde görüldüğü döneme
- B) Tayfunların başka ekstrem olaylara sebep olduğuna
- C) Tarım faaliyetlerini olumsuz etkilediğine
- D) Hangi sebeplerden ötürü ortaya çıktıklarına
- E) Yerleşme yerlerine zarar verdiğine

10.



Yukarıdaki Türkiye haritası üzerinde numaralandırılmış yerler ile aşağıda ekstrem doğa olayları eşleştirilmiştir.

Bu eşleştirmelerden hangisinin verildiği yer yanlıştır?

- A) I - Sel ve taşkın
- B) II - Depremler
- C) III - Kuraklık ve çölleşme
- D) IV - Çiğ olayları
- E) V - Heyelanlar

11.

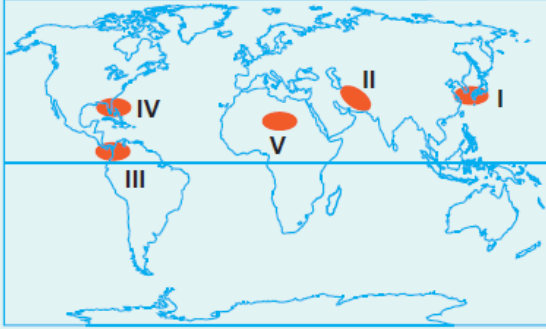
- I. ABD'nin güneydoğusu
- II. Kuzey Avrupa
- III. Güney Asya kıyıları
- IV. Avustralya'nın kuzeydoğusu

Yukarıdaki bölgelerden hangilerinde kasıraa. hortum veva

tayfun gibi şiddetli fırtınalar görülmez?

- A) Yalnız I                      B) Yalnız II                      C) I ve III  
D) II ve III                      E) III ve IV

12.



Yukarıdaki Dünya haritasında gösterilen beş bölgede yaşanan ekstrem olaylarla ilgili aşağıdaki eşleştirmelerden hangisi yanlıştır?

- A) I – Tsunami                      B) II – Şiddetli deprem  
C) III – Volkan püskürmesi                      D) IV – Kasırgalar  
E) V – Aşırı yağışlar

[www.supersoru.com](http://www.supersoru.com)

Cevaplar :

1)D, 2)D, 3)A, 4)D, 5)C, 6)C, 7)A, 8)B, 9)D, 10)C, 11)B, 12)E,