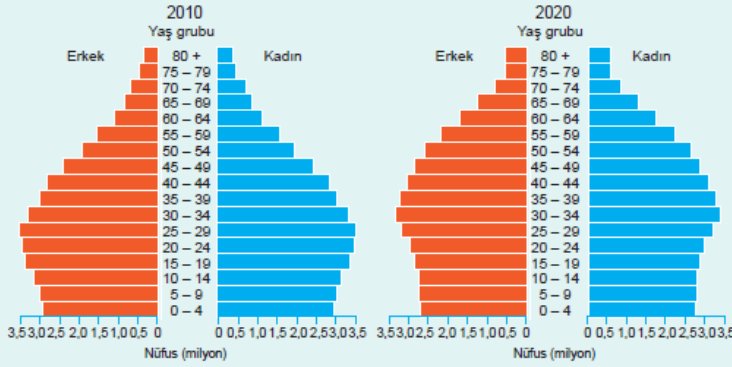


1. Türkiye'de nüfus artış hızının her geçen yıl azalması gelecek yıllarda aşağıdaki sorunlardan hangisinin yaşanmasına neden olur?

- A) Bölgeler arasındaki göçlerin artmasına
- B) Dış ticaret hacminin azalmasına
- C) Ortalama yaşam süresinin kısalmasına
- D) İş gücü açığının oluşmasına
- E) Doğal kaynak tüketiminin hızlanmasına

2. Aşağıda 2010-2020 yıllarına ait nüfus piramitleri gösterilmiştir.



Bu grafiklerde 2020 yılındaki değişime göre,

- I. Yaşlı nüfus oranı
 - II. Ortalama yaşam süresi
 - III. Genç nüfus oranı
- özelliklerinden hangilerinde artış olmamıştır?

- A) Yalnız II
- B) Yalnız III
- C) I ve II
- D) I ve III
- E) II ve III

3. Türkiye'nin 2005 yılındaki nüfus artış hızına göre nüfusun ikiye katlanma süresi 44 yıl iken 2010 yılı nüfus projeksiyonunda 47 yıl olarak öngörülmüştür. 2012 nüfus artışına göre ise nüfusun ikiye katlanma süresinin en azından 50 yılı aşabileceği tahmin edilmektedir.

Türkiye nüfusunun ikiye katlanma süresinin giderek artması aşağıdakilerden hangisini kanıtlar?

- A) Genç nüfus oranının arttığını
- B) Ortalama ölüm hızının arttığını
- C) Nüfus artış hızının azaldığını
- D) Göçle gelen nüfusun arttığını
- E) Tarımsal nüfus yoğunluğunun azaldığını

EVREK

4. ve 5. SORULARI AŞAĞIDA VERİLEN PARÇAYA GÖRE CEVAPLAYINIZ.

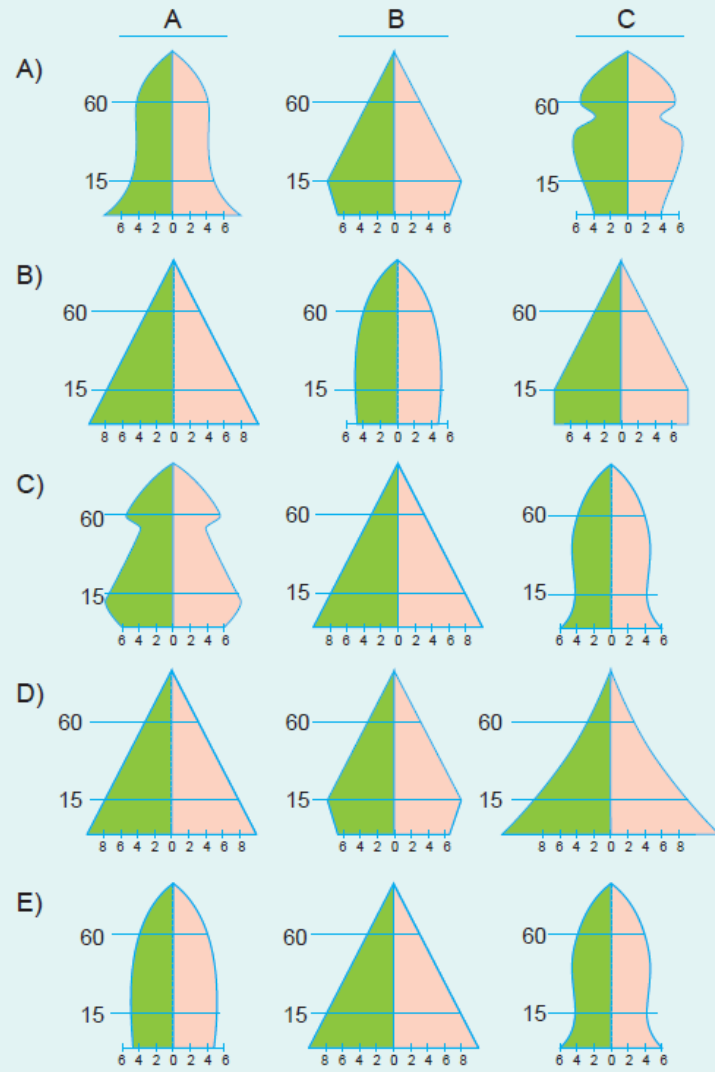
A, B ve C ülkelerinin 2015-2030 yılları arasındaki nüfus projeksiyonları hakkında aşağıdaki tespitler yapılmıştır.

A – Doğum oranları artan ülkenin nüfusu 55 milyondan 67 milyona çıkacaktır.

B – Ülke nüfus hızını azaltma politikası uyguladığı halde nüfusu 130 milyondan 141 milyona çıkacaktır.

C – Ülkenin bu artış hızı ile 96 milyon olan nüfusu 83 milyona düşecektir.

4. A, B ve C ülkelerinin 2030 yılındaki nüfus piramitleri aşağıdakilerden hangileridir?



5. A, B ve C ülkelerinin nüfus özellikleriyle ilgili aşağıdakilerden hangisi doğrudur?

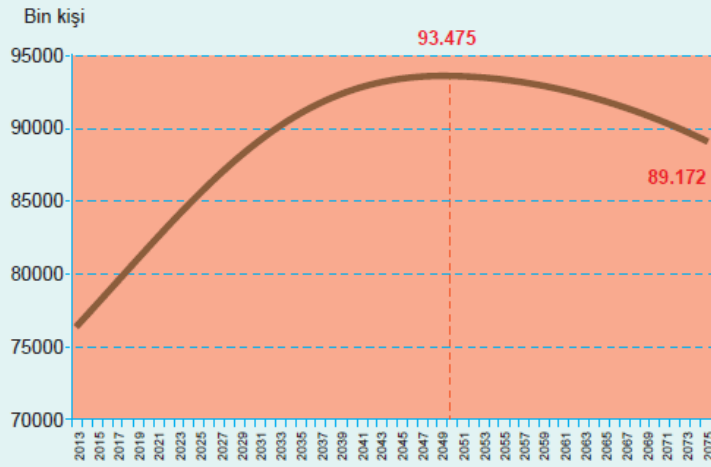
- A) A ülkesinin gelişmişlik düzeyi B'den azdır.
B) B'de kişi başına enerji tüketimi C'den fazladır.
C) A ülkesinde çalışan nüfusun büyük kısmı tarım sektöründedir.
D) B ülkesine olan dış göçler fazladır.
E) C ülkesinde doğum oranları oldukça düşüktür.

6. Nüfus projeksiyonları olarak tanımlanan geleceğe yönelik nüfus tahminlerinde;

- I. Kişi başına düşen yıllık gelir
II. Doğum ve ölüm oranları
III. Çalışan nüfusun sektörlere dağılımı
IV. Ülke dışına olan net göç hızı
özelliklerinden hangileri daha çok dikkate alınır?

- A) Yalnız I
B) Yalnız IV
C) I ve III
D) II ve IV
E) III ve IV

7. Aşağıdaki grafikte Türkiye'nin 2013-2075 yılları arasındaki tahmini nüfus değişimi verilmiştir.



Bu grafiğe göre aşağıdaki sonuçlardan hangisine varılmaz?

- A) Yaşlı nüfus oranının 2050 yılından sonra daha yüksek olacağı
B) 2025 yılı nüfusunun 2075 yılından az olacağı
C) 2050 yılından sonra toplam nüfusun azalmaya başlayacağı
D) En hızlı nüfus artışının 2045-2055 yılları arasında yaşanacağı
E) 2050 yılından sonra ölümlerin oranlarının yükseleceği

8. Nüfus projeksiyonları ülke, bölge ve yöreler düzeyinde yapmakta nüfus gelişimi önceden yaklaşık olarak tahmin edilmektedir.

Buna göre, günümüzde sanayinin hızla geliştiği bir yöre hakkında aşağıdakilerden hangisi yanlış olur?

- A) Doğum oranları artar.
- B) Kişi başına düşen gelir artar.
- C) Yeşil alanlar daralır.
- D) Çevre kirliliği artar.
- E) Ticaret hacmi büyür.

9. Aşağıdaki tabloda beş ayrı ülkenin nüfus artış hızları ve ortalama yaşam süreleri gösterilmiştir.

| | Nüfus artış hızı (%) Binde | Ortalama insan ömrü (Yıl) |
|-----|-------------------------------|------------------------------|
| I | 30 | 62 |
| II | 10 | 75 |
| III | 12,1 | 78 |
| IV | 21 | 63 |
| V | 4,4 | 81 |

Bu tabloya göre hangi ülkenin nüfusunun ikiye katlanma süresi daha uzundur?

- A) I B) II C) III D) IV E) V

10. Ülkelerin geleceğe yönelik yapılan uzun süreli nüfus projeksiyonlarının büyük miktarda sapmalar göstermesinde;
I. Savaşlar ve ekonomik krizler
II. Ülkelerin sosyal politikaları
III. Bölgeleri arasındaki göçler
IV. Eğitimin ve sağlık olanaklarının değişimi
gibi durumlardan hangileri daha az etkili olmaktadır?

- A) Yalnız II B) Yalnız III C) I ve II
D) II ve IV E) I, III ve IV

www.supersonu.com

Cevaplar :

1)D, 2)B, 3)C, 4)A, 5)E, 6)D, 7)D, 8)A, 9)E, 10)B,