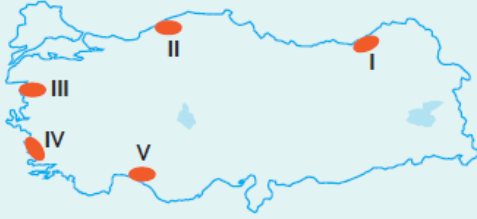


1. • Doğa ile tarihin bütünleştiği yerdir.  
• Volkanik kayaların aşınması sonucu oluşmuş yerçekile-ridir.  
• Bir çoğunun içleri oyularak yer altı şehirleri ve kiliseler inşa edilmiştir.

Yukarıdaki özelliklere sahip olan ve Türkiye'nin Dünya Mirasları Listesi'nde bulunan karma eseri aşağıdakilerden hangisidir?

- A) Pamukkale  
B) Çemberlitaş  
C) Yerebatan Sarnıcı  
D) Nemrut Dağı  
E) Kapadokya-Göreme

2.



Kıyı turizminin en önemli unsurlarından biri güneşlenme süresi ile kumsal ve temiz kıyıların bulunmasıdır.

Buna göre, yukarıdaki haritada numaralı yerlerin hangileri kıyı turizmine elverişli değildir?

- A) I ve II  
B) I ve III  
C) II ve IV  
D) III ve IV  
E) IV ve V

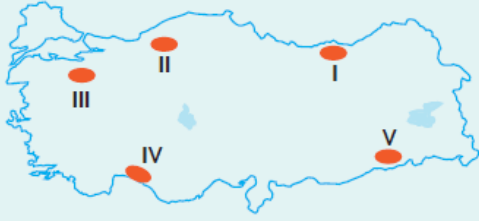
3. Aşağıdakilerden hangisi kültür turizmini temsil eden örneklerden biri değildir?

- A) Sumela Manastırı  
B) Mevlâna Türbesi  
C) Selimiye Cami  
D) Manavgat Şelâlesi  
E) Nemrut Heykelleri

4. Türkiye'nin Dünya Miras Listesi'nde bulunan ve her yıl on binlerce yerli ve yabancı turist ziyaret ettiği Hitit Uygarlığı'nın başkenti aşağıdakilerden hangisidir?

- A) Kapadokya (Nevşehir)  
B) Hattuşa (Çorum)  
C) Bergama (İzmir)  
D) Gordiyon (Ankara)  
E) Hiyerapolis (Denizli)

5.



Yukarıdaki haritada numaralandırılmış yörelerin turistik değerleriyle ilgili aşağıdaki yorumlardan hangisi yanlıştır?

- A) I'de turizmin önemli bir kısmı yayla turizmidir.
- B) II'de Safranbolu Evleri önemli turistik değerdir.
- C) III. yörede tarihi turistik yerler yanında kış turizmi önem taşır.
- D) IV. yörede plaj turizmi en yoğun turistik faaliyettir.
- E) V. yörede kaplıca turizmi oldukça gelişmiştir.

6.

- I. Zeus Heykeli
- II. Kral Mozoles'in Mezarı
- III. Artemis Tapınağı
- IV. İvriz Kabartmaları
- V. St. Peter Kilisesi

Yukarıdaki eserlerden hangileri Türkiye sınırları içinde ver almaz?

- A) Yalnız I
- B) Yalnız III
- C) I ve V
- D) II ve III
- E) III ve V

7.

Osmanlı Mimarisi'nin en belirgin anıtlarından biri olan saray bir vadinin yakasında kayalık ve sert bir yerdir. Taş işçiliği ve oymacılığı yönünden mükemmeldir. 1685 yılında yapımına başlanan saray 1784 yılında tamamlanmıştır.

Yukarıdaki özelliklere sahip olan saray aşağıdakilerden hangisidir?

- A) İstanbul Yıldız Sarayı
- B) İstanbul Çırağan Sarayı
- C) İstanbul Topkapı Sarayı
- D) Ağrı İshak Paşa Sarayı
- E) Konya Selçuklu Sarayı

8.

- I. Taş sanatının mükemmel örnekleri olan evleri, sokakları ve çarşıları önem taşır.
- II. Deyrûz Zafaran Manastırı, Revaklı Çarşı, Zinciriye Medresesi vardır.

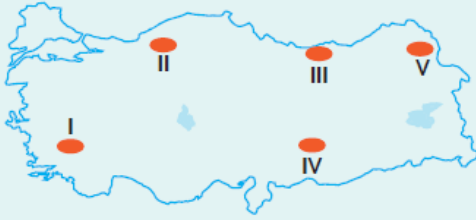
Yukarıdaki turistik değerlerin bulunduğu kentimiz aşağıdakilerden hangisidir?

- A) Mardin
- B) Adıyaman
- C) Kayseri

9. I. Safranbolu Şehri – Karabük  
 II. Divriği Ulu Cami  
 III. Sümela Manastırı – Trabzon  
 IV. Cumalıkızık Köyü – Bursa  
 V. Mevlana Türbesi – Konya  
 Yukarıdakilerden hangileri Dünya'nın gözde eserleri arasında Türkiye'yi temsil eden 13 eser arasında yer almaz?

- A) I ve III                      B) II ve IV                      C) III ve V  
 D) IV ve V                      E) II, IV ve V

10.



Unesco'nun Dünya Kültür Mirasları Listesi'ne girmiş ve 2150 metredeki bir dağ üzerinde, yüksekliği on metreyi bulan büyüleyici heykelleri ile tanınmış yer harita üzerinde kaç numaralı bölgededir?

- A) I                      B) II                      C) III                      D) IV                      E) V

11.

	Turizm Varlığı	Bulunduğu Yer
I	İvriz Kabartmaları	Karaman
II	Aspendos Tiyatrosu	Muğla
III	Truva Atı	Çanakkale
IV	Ani Harabeleri	Van

Yukarıdaki tabloda verilen turizm varlıkları ile buldukları yer eşleştirmelerinden hangileri yanlıştır?

- A) Yalnız I                      B) Yalnız II                      C) I ve IV  
 D) II ve III                      E) II ve IV

12. Aşağıdakilerden hangisinde farklı özellikler gösteren kayaların dış kuvvetlerin etkisiyle oluşmuş doğal turistik yerler birlikte verilmiştir?

- A) Ani Harabeleri – Pamukkale  
 B) Pamukkale – Ürgüp-Göreme

- C) Truva – Hattuřa
- D) Patara – Yerebatan Sarnıcı
- E) Saklıkent – Aspendos

[www.supersoru.com](http://www.supersoru.com)

Cevaplar :

1)E, 2)A, 3)D, 4)B, 5)E, 6)A, 7)D, 8)A, 9)C, 10)D, 11)E, 12)B,