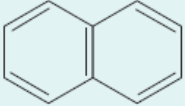
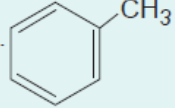
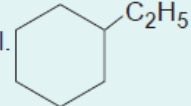



1. I. C_6H_5Cl
II. $C_6H_{12}OH$
III. $C_6H_5CH_3$
Yukarıdaki bileşiklerden hangileri aromatik özellik gösterir?
- A) Yalnız I B) Yalnız III C) I ve II
D) I ve III E) II ve III

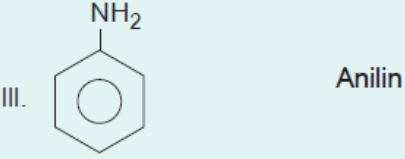
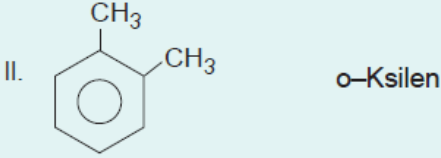

2. Metadimetil benzen bileşiğiyle ilgili,
I. Yaygın kullanılan adı toluen dir.
II. Metil grupları 1. ve 3. karbon atomlarına bağlıdır.
III. Kapalı formülü C_8H_{10} şeklindedir.
Yargılarından hangileri doğrudur?
- A) Yalnız I B) I ve II C) I ve III
D) II ve III E) I, II ve III

3. I. 
II. 
III. 
Yukarıda verilen bileşiklerden hangileri aromatik özellik göstermez?
- A) Yalnız I B) Yalnız III C) I ve II
D) I ve III E) II ve III

4. Etil benzen bileşiğiyle ilgili,
I. p-ksilen ile aynı kapalı formüle sahiptir.
II. 1 molünde 3 mol pi bağı bulunur.
III. Benzaldehit ile eşit sayıda karbon atomu içerir.
Yargılarından hangileri doğrudur?
- A) Yalnız I B) I ve II C) I ve III
D) II ve III E) I, II ve III

5.

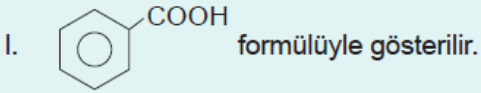
Formül	Adlandırma
	



Yukarıda verilen aromatik bileşiklerden hangileri yanlış adlandırılmıştır?

- A) Yalnız I B) Yalnız II C) Yalnız III
D) I ve II E) II ve III

6. Benzoik asitle ilgili olarak verilen

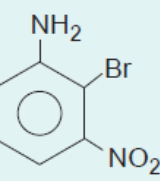
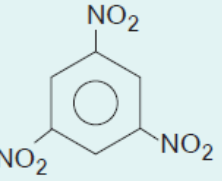
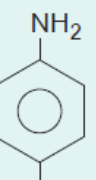



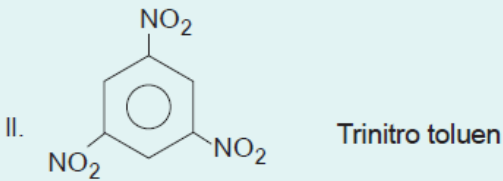
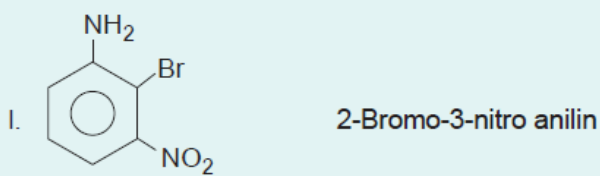
II. 1 molekülünde 3 pi bağı içerir.

III. Fenol ile eşit sayıda oksijen atomu içerir.
yargılarından hangileri doğrudur?

- A) Yalnız I B) Yalnız II C) I ve II
D) I ve III E) II ve III

7.

Formül	Adlandırma
I. 	2-Bromo-3-nitro anilin
II. 	Trinitro toluen
III. 	p-Amino fenol



OH

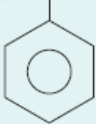
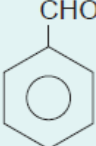
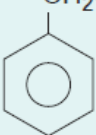
Yukarıda verilen aromatik bileşiklerden hangileri doğru adlandırılmıştır?

- A) Yalnız I B) I ve II C) I ve III
D) II ve III E) I, II ve III

8. I. p-Nitro fenol
II. Benzoik asit
III. 1,3,5-Trimetil benzen
Yukarıda verilen bileşiklerden hangilerinin toplam atom sayısı o-Amino fenol bileşiğinkine eşittir?

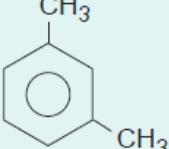
- A) Yalnız I B) Yalnız II C) Yalnız III
D) I ve II E) II ve III

9.

Formül	Adlandırma
$\text{CH}_3 - \text{CH} - \text{CH}_3$ I. 	İzopropil benzen
CHO II. 	Benzaldehit
CH_2OH III. 	Benzil alkol

Yukarıda verilen aromatik bileşiklerden hangileri doğru adlandırılmıştır?

A) Yalnız I B) I ve II C) I ve III
D) II ve III E) I, II ve III

10. 

Yukarıda verilen bileşik için,

I. 1,2-Dimetil benzen
II. m-Dimetil benzen
III. m-Ksilen
adlandırmalardan hangileri doğrudur?

A) Yalnız I

B) Yalnız II

C) I ve II

D) II ve III

E) I, II ve III

www.supersoru.com

Cevaplar :

1)D, 2)D, 3)B, 4)B, 5)A, 6)A, 7)C, 8)D, 9)E, 10)D,