

1)



Yukarıdaki ortamda bekletilen bir bardak suyun 5 saat sonraki hâli hangi seçenekte verilmiştir?

A)



B)

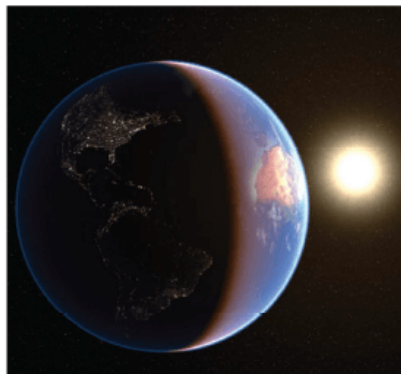


C)



2)

Dünya'nın Güneş'e bakan yüzü hakkında aşağıdakilerden hangisi



söylenebilir?

- A) Gündüzdür. B) Gecedir.
C) İlkbahardır.

3)



Gece gökyüzüne bakan birisi aşağıdakilerden hangisini **göremez**?

- A)  B)  C) 

4) Aşağıdaki görsellerden hangisi doğada meydana gelen mevsimsel değişikliklerin tümünü anlatmaktadır?

A)



B)



C)






5)

.....
doğadaki canlı türlerinin yok olmasına sebep olmaktadır.

Yukarıdaki noktalı yere seçenektekilerden hangisi getirilmelidir?



- A) Depremler
- B) Çevre kirliliği
- C) Yangınlar

- 6)  Leyleklerin göç etmesi
-  Denize yazın girilmesi
-  Çok katlı binaların yapılması

Yukarıdakilerden hangileri hava, su ve toprakta meydana gelen mevsimsel değişimlerle ilgilidir?

A)  

B)  

C)  