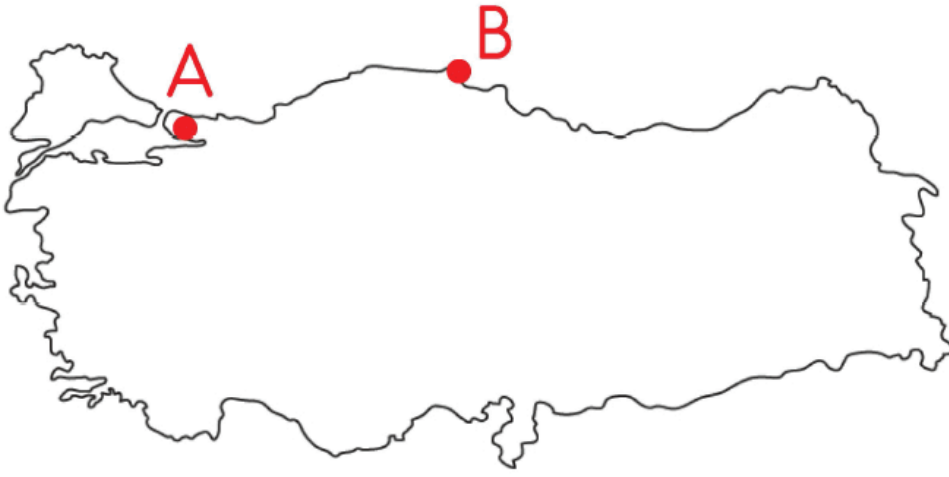


1)



Erhan Bey A noktasından B noktasına **en hızlı** hangi ulaşım aracıyla gidebilir?

A)



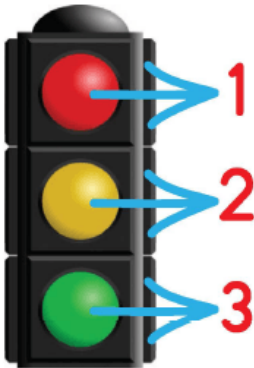
B)



C)



2)



Yandaki trafik ışıklarının anlamları sırasıyla hangi seçenekte verilmiştir?

A) dur - geç - bekle

- A) dur - geç - bekle
B) dur - bekle - geç
C) geç - bekle - dur

3)



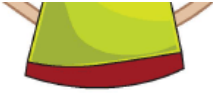
Aşağıdakilerden hangisi eşyalarımızı özenli **kullanmamanın** sonuçlarından biridir?

- A) Gereksiz yere tekrar para harcamak
B) Tasarruf etmek
C) Aile bütçesine katkı sağlamak

4)



Eşyalarımı özenli kullanırım.



Aşağıdakilerden hangisi Çaço'nun yapacağı bir davranış **değildir**?

- A) Okul ayakkabılarını sık sık boyamak
- B) Ayakkabılarını çıkarırken ayakkabılarının bağcıklarını çözmek
- C) Okul ayakkabılarıyla futbol oynamak

5) Ayşen öğleden sonra okuldan ayrılırken öğretmenine aşağıdaki selamlaşma ifadelerinden hangisini söylemiş olabilir?

- A) Günaydın
- B) İyi günler
- C) İyi geceler

6) Tramvay ile metro taşıtları arasında bir ilişki vardır.

Aynı ilişki helikopter ile hangi taşıt arasında vardır?

A)



B)



C)



www.supersonu.com

Cevaplar :
1)C, 2)B, 3)A, 4)C, 5)B, 6)B,