

1)



Sepetteki 97 böğürtlenin bir miktarı düşmüş, sepette 81 böğürtlen kalmıştır.

Sepetten kaç böğürtlen düşmüştür?

A) 14

B) 16

C) 18

2)



Bir kırtasiyeci 85 lastiğın bir miktarını kullandı. Geriye 39 lastik kaldı.

Kırtasiyeci kaç lastik kullanmıştır?

A) 46

B) 48

C) 52

3)



Sepetteki 41 yumurtanın bir miktarı kullanılınca geriye 12 yumurta kalmıştır.

Kullanılan yumurta sayısı kaçtır?

A) 53

B) 35

C) 29

4) Aydın 64 sayfalık kitabın bir miktarını okudu. Geriye okuması gereken 28 sayfası kaldı. Aydın kaç sayfa kitap okumuştur?

Yukarıdaki problemin çözümü için aşağıdaki işlemlerden hangisi yapılabilir?

A) $64 - 28$

B) $64 + 28$

C) 28×2

5)

Eksilen
60

Fark
39

Yukarıda verilenlere göre çıkan kaç olmalıdır?

A)

Çıkan
99


B)


Çıkan
69


C)

Çıkan
21

6)




$\begin{array}{r} 54 \\ - \square \\ \hline 18 \end{array}$


$\begin{array}{r} 84 \\ - \square \\ \hline 43 \end{array}$


$\begin{array}{r} 63 \\ - \square \\ \hline 25 \end{array}$

Yukarıdaki kuşlardan yaşı en fazla olan üzerindeki çıkanı en büyük olanıdır.

Hangi kuşun yaşı diğerlerinden büyüktür?



www.supersoru.com

Cevaplar :

1)B, 2)A, 3)C, 4)A, 5)C, 6)B,