

1) 6 sayısından başlayarak ileriye doğru ikişer ikişer sayarsak 5. olarak hangi sayıyı söyleriz?

A)



B)



C)



2) 12 sayısından başlayarak ileriye doğru üçer üçer yazarsak 27'ye kadar kaç sayı yazarız?

A) 6

B) 7

C) 8

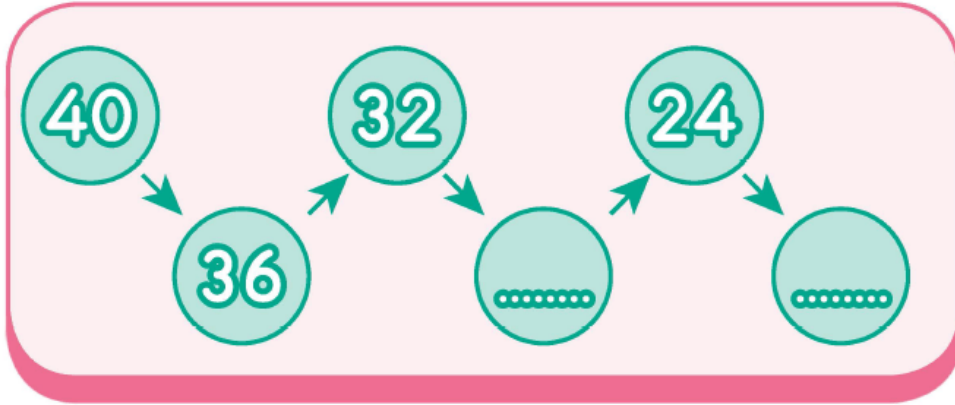
3) 8'den başlayarak ileriye doğru dörder dörder yazarsak, aşağıdaki hangi sayıyı yazamayız?

A) 12

B) 16

C) 18

4)



Yukarıda 40'tan başlayarak geriye doğru dörder sayarak yapılan ritmik saymada boş bırakılan yerlere sırasıyla hangi sayılar gelir?

A) 28-20

B) 30-20

C) 28-22

5)





Erkan elindeki sayıdan başlayarak geriye doğru 3'erli ritmik sayma yapıyor.

Erkan hangi sayıyı **kullanmaz**?

A)  21

B)  20

C)  15







6) Aşağıdakilerden hangisi 75'ten başlayarak geriye doğru beşerli saymadır?

A)  75  70  65  55  50

B)  75  70  65  60  55

C)  75  70  65  60  50

7)

 16  20  24  28  ?  ...

Yukarıda 10 dan başlayarak ileriye doğru dörderli sayma yapılmıştır.


Buna göre, "?, " yerine hangi sayı gelmelidir?

A) 36

B) 34


C) 32


8)



Yukarıdaki geriye doğru dörderli ritmik saymanın doğru olabilmesi için hangi renk düğmenin çıkarılması gerekir?

A) 

B) 

C) 

[www.supersonu.com](http://www.supersonu.com)

Cevaplar :

1)B, 2)A, 3)C, 4)A, 5)B, 6)B, 7)C, 8)C,