

1) Yandaki çerçevenin içindeki resim çıkarılmıştır.

Çerçeve için aşağıdakilerden hangisi söylenebilir?




A) Kare

B) Dikdörtgen

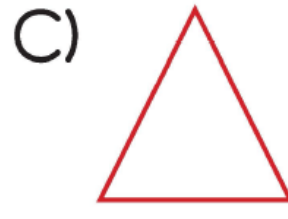
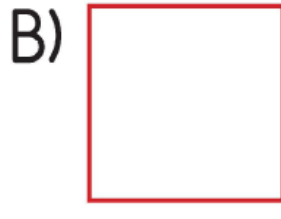

C) Üçgen

2)




Eray dondurma külahını görseldeki gibi çevirip külahın çevresini kalemle çizmiştir.


Eray'ın çizimi aşağıdakilerden hangisi olabilir?



3) Yandaki üçgen prizmayı kullanarak aşağıdakilerden hangisini **çizemeyiz**?



4)



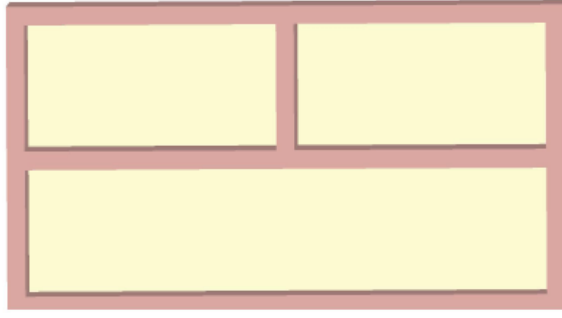
Yukarıdaki görsellerin adları sırasıyla hangi seçenekte doğru olarak verilmiştir?

A) Çember - Daire

B) Daire - Üçgen

C) Daire - Çember

5)



Yukarıdaki şekilde kaç tane dikdörtgensel bölge vardır?


A) 3

B) 4


C) 5

6) Aşağıdaki geometri tahtalarında verilen şekillerden hangisi karedir?


A)



B)



C)



7)



Yukarıdaki yaş pastaların sınırları çizilirse oluşan geometrik şekiller sırasıyla hangi seçenekte verilmiştir?

- A) Çember - üçgen - kare
- B) Çember - kare - üçgen
- C) Üçgen - çember - kare

www.supersoru.com

Cevaplar :

1)B, 2)A, 3)A, 4)C, 5)C, 6)B, 7)A,