

1)

Bayramda
56 lira harçlık
topladım.




Öykü'nün topladığı 56 liradaki 5 rakamı hangi sayıyı temsil etmektedir?

A) 5

B) 50

C) 56

2)



Yukarıdaki küplerin sayısını yazmak için hangi rakama ihtiyaç

duymayız?

A) 2

B) 3

C) 6

3)






5 birlik
4 onluk

7 birlik
5 onluk

9 birlik
4 onluk

Hangi renk boya kalemi kutusunda daha fazla boya kalemi vardır?



4)



Cebimdeki bilyelerin sayısında hiç onluk



yoktur.

Erdi'nin bilyelerinin sayısı hakkında aşağıdakilerden hangisi söylenebilir?

- A) 10'dan fazladır.
- B) 20'den fazladır.
- C) 10'dan azdır.

5)



Yukarıdaki 'ler onlukları, 'ler birlikleri temsil etmektedir.

Buna göre yukarıdaki şekillerin temsil ettiği sayı kaçtır?

- A) 45
- B) 48
- C) 54

6) 34 sayısının abaküste modellenmiş şekli aşağıdakilerden hangisidir?

A)



B)



C)

