



Yukarıdaki “?” yerine aşağıdakilerden hangisi getirilmelidir?




Yukarıdaki örüntüde soru işaretli yerlere sırasıyla aşağıdakilerden hangisi gelmelidir?





Yukarıdaki örüntüyle aynı ilişkiye sahip örüntü hangi seçenekte verilmiştir?

A)



B)



C)



4)

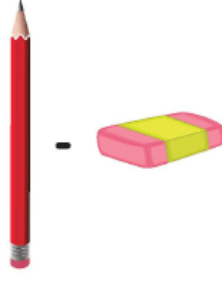


Yukarıdaki örüntüde boş bırakılan yerlere sırasıyla aşağıdakilerden hangisi gelmelidir?





C)



5)



Yukarıdaki örüntüyle aynı ilişkiye sahip örüntü hangi seçenekte verilmiştir?

A)



B)



C)



6)



Yukarıdaki örüntüyle aynı ilişkiye sahip olan örüntü hangi seçenekte verilmiştir?

- A) ABCABC B) ABBABB
C) ABAABB

www.supersonu.com

Cevaplar :

1)B, 2)C, 3)B, 4)C, 5)A, 6)B,