



1)



Yukarıdaki örüntüde “?” yerine yazılması gereken sayı kaçtır?



2)



Yukarıdaki örüntüde “?” yerine yazılacak sayıların toplamı kaç olur?

- A) 75                      B) 80                      C) 85

3)




Yukarıdaki örüntüde “?” yerine hangi sayı gelmelidir?

A) 11

B) 12

C) 13

4)



Yukarıdaki örüntünün kuralı aşağıdakilerden hangisidir?

A) 14'ten başlayıp, dörder artarak devam ediyor.

B) 14'ten başlayıp, dörder azalarak devam ediyor.

C) 14'ten başlayıp, ikişer artarak devam ediyor.

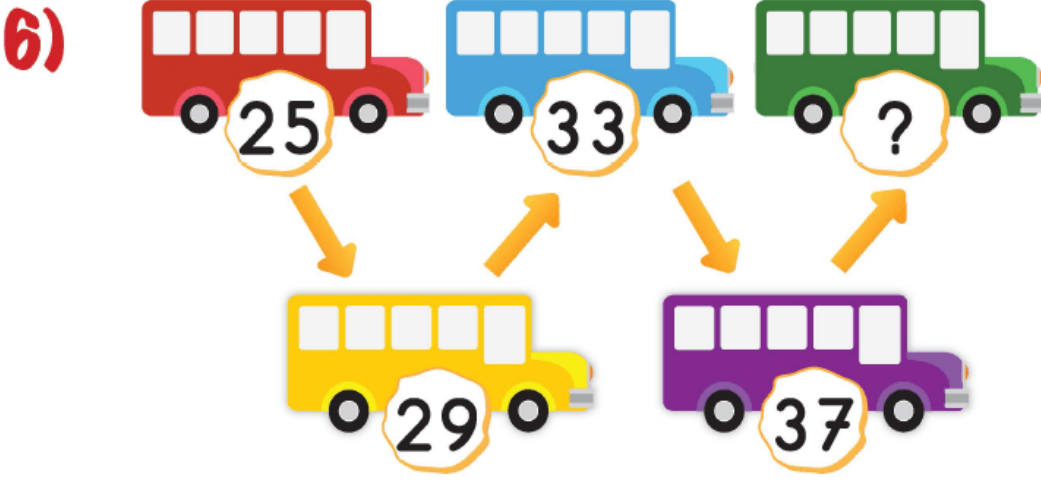


Yukarıdaki örüntüde “?” yerine hangi sayı gelmelidir?

A) 11

B) 12

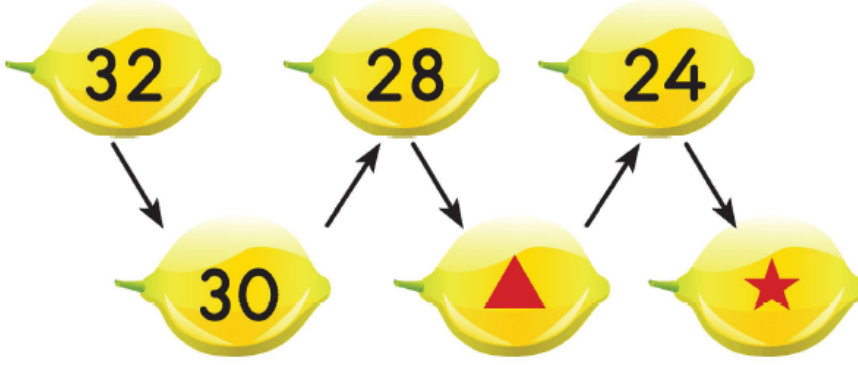
C) 13



Yukarıdaki otobüslerde bulunan yolcu sayıları üzerlerine yazılmıştır. Buna göre, yeşil renkteki otobüste bulunan yolcu sayısı kaçtır?



7)



Yukarıdaki örüntüde ▲ ve ★ sembolleri yerine yazılması gereken sayıların toplamı kaçtır?

A) 44

B) 46

C) 48