

1) Seçeneklerdeki sayılar büyükten küçüğe doğru sıralanmıştır.

Bu kurala **uymayan** sıralama hangi seçenekte verilmiştir?

A) 74 64 49

B) 60 59 41

C) 89 57 76

2) Bir simitçi pazartesi günü 77, salı günü 84, çarşamba günü ise 82 simit satmıştır.



Simitçi **en çok** simidi hangi gün satmıştır?

A) Pazartesi

B) Salı

C) Çarşamba

3) Yaşları 33, 29 ve 36 olan üç kardeşin en küçüğü Betül, en büyüğü ise Simge'dir.

Buna göre, ortanca kardeşin yaşı kaçtır?

A) 29

B) 33

C) 36

4)



Yukarıdaki sayıları küçükten büyüğe doğru sıralarsak baştan ikinci sayı hangisi olur?

A) 56

B) 51

C) 63

5)



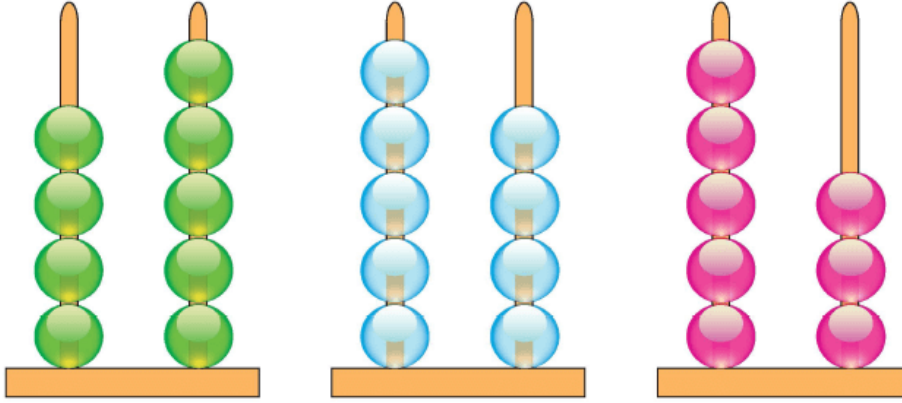
Yukarıdaki balon-



larda yazan sayılardan kaç tanesi 30'dan büyüktür?

- A) 1
- B) 2
- C) 3

6)

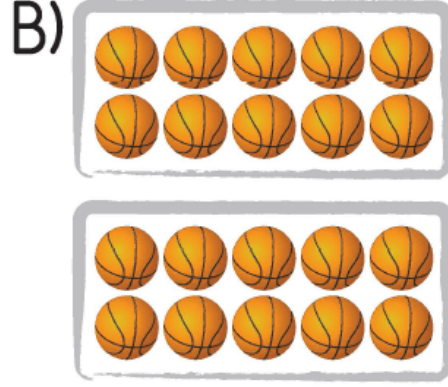
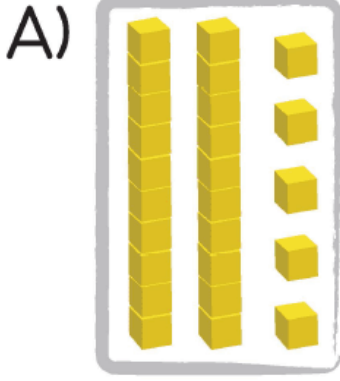


Yukarıdaki abaküslerde modellenmiş sayıların **en büyüğü** aşağıdakilerden hangisidir?

- A) Pembe renkliler
- B) Mavi renkliler
- C) Yeşil renkliler

7) Aşağıdaki modellerden hangisi-

nin gösterdiği sayı diğerlerinden daha büyüktür?



www.supersoru.com

Cevaplar :

1)C, 2)B, 3)B, 4)A, 5)C, 6)B, 7)A,