



1) Aşağıdaki geometrik şekillerden hangisinin köşesi **yoktur**?

A)



B)



C)



2)



Yukarıdaki çubukları kullanarak oluşturulan bir geometrik şeklin kaç köşesi olur?

A) 1

B) 2

C) 3

3)

1 •
5

• 2

4 •

• 3

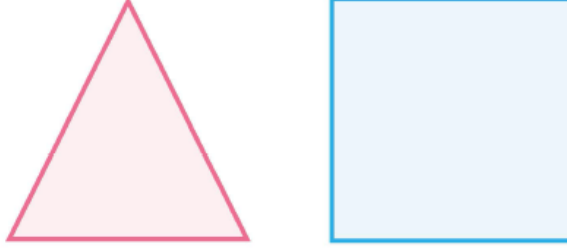
Kemal yukarıdaki noktaları sırasıyla birleştirmiştir.

Kemal'in çizdiği çizgiler için aşağıdakilerden hangisi söylenebilir?

Yukarıdaki den hangisi söylenebilir :

- A) Köşe B) Kenar C) Yüzey

4)



Yukarıdaki geometrik şekillerin toplam köşe ve kenar sayıları hangi seçenekte verilmiştir?

- A) köşe: 8
kenar: 8
- B) köşe: 7
kenar: 8
- C) köşe: 7
kenar: 7

5) Aşağıdaki şekillerden hangisinin köşe sayısı diğerlerinden azdır?





6) Yandaki geometrik şekil hakkında aşağıdakilerden hangisi söylenebilir?



- A) Köşe ve kenar sayıları eşittir.
B) Köşe sayısı, kenar sayısından azdır.
C) Kenar sayısı, köşe sayısından azdır.

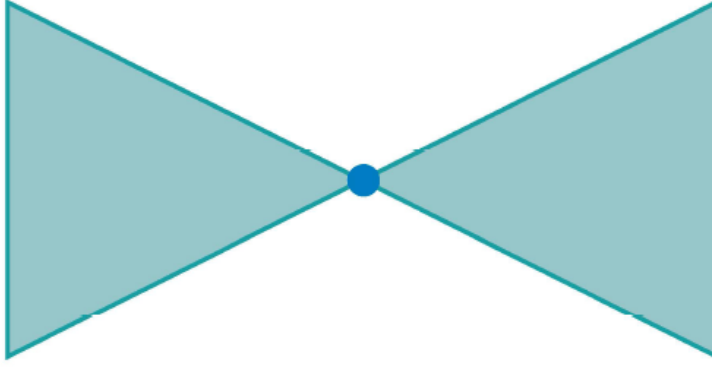
7) Kare şeklindeki bir bahçenin her köşesine birer kazık çakılacaktır. Bu iş için kaç kazık gerekir?

A) 3

B) 4

C) 5

8)



Yukarıdaki üçgenlerin birleşme noktası aşağıdakilerden hangisidir?

A) Ayrıt

B) Köşe

C) Kenar

www.supersoru.com

Cevaplar :

1)B, 2)C, 3)C, 4)C, 5)A, 6)A, 7)B, 8)B,