

1)

Metre

Kulaç

Ayak

Santimetre

Yukarıdakilerden kaç tanesi standart olmayan uzunluk ölçme birimidir?

A) 1

B) 2

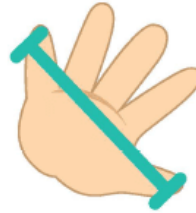
C) 3

2) Standart olmayan aşağıdaki ölçme birimlerinden hangisiyle bir otobüsün boyunu ölçmek daha çok zaman alır?

A)



B)



C)





3) Aşağıda verilen uzunluklardan hangisinin en uygun ölçme birimi karıştır?


- A) Kalemtraşın boyu
- B) Sınıfın uzunluğu
- C) Sıranın boyu

4) Ceylan ve Hazal sınıf kapılarının genişliklerini ölçüyorlar.
Hangi ölçme birimini kullanırlarsa ölçümleri aynı olur?

- A) Karış
- B) Ayak
- C) Santimetre

5) Aşağıdaki araçlardan hangisinin uzunluğu diğerlerinden azdır?

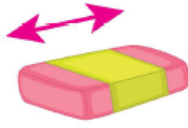
A)



B)



C)



6)



24 santimetre

1 metre



Berfin, cetvel kullanarak fidanın boyunu ve kendi boyunu ölçüyor.

Berfin'in boyu aşağıdakilerden hangisi ile gösterilebilir?

A) 1 metre 24 santimetre

A) 1 metre 24 santimetre

B) 124 metre

C) 25 santimetre

7)



Yukarıda verilen kalemin uzunluğu kaç santimetredir?

A) 8

B) 10

C) 11

www.supersoru.com

Cevaplar :

1)B, 2)B, 3)C, 4)C, 5)C, 6)A, 7)A,